

## ELEKTRİKLİ ARAÇ GEREÇLER

Adı Soyadı : \_\_\_\_\_

Meryem ninenin çocukluk zamanlarında elektrik yokmuş.

1. Buna göre aşağıdakilerden hangisi Meryem ninenin çocukluk zamanlarında kullandığı eşyalardan biri olamaz?



2. Aydınlanma ve elektrik deyince aklımıza gelen buluş aşağıdakilerden hangisidir?



3. Aşağıdakilerden hangisinin kullanım amacı karanlıkta yolumuzu aydınlatmak değildir?



4. Aşağıdakilerden hangisini yaparken her zaman elektrik enerjisine ihtiyaç duyarız?

- A) Oyun oynarken  
B) Yemek yerken  
C) Televizyon izlerken

5. Aşağıdakilerden hangisi elektrikli ev araç-gereçlerindedir?



6. Aşağıdaki ulaşım araçlarından hangisi şehir elektriği ile çalışır?






7. Aşağıdakilerden hangisi elektrik kesintisi sonrasında yaşanan sorunlardan biri olamaz?

- A) Karanlıkta kalmak
- B) Duvar saatinin durması
- C) Asansörde kalmak

8. Aşağıdaki aletlerden hangisinin elektrik kaynağı, atık pil toplama kutusuna atılmaz?

- A) 
- B) 
- C) 




9. Aşağıdakilerden hangisi şehir elektriği ile ilgili değildir?

- A) 
- B) 
- C) 




10. Aşağıdakilerden hangisi bir elektrik kaynağıdır?

- A) 
- B) 
- C) 

11. Aşağıdakilerden hangisi elektriğin üretildiği yerlerden biridir?

- A) 
- B) 
- C) 

12. Aşağıdakilerden hangisi elektriğin taşınmasında kullanılır?

- A) 
- B) 
- C) 

13. Aşağıdaki ulaşım araçlarından hangisi çalışırken elektriğe ihtiyaç duymaz?


- A) bisiklet
- B) otobüs
- C) gemi

14. Aşağıdakilerden hangisi elektriğin yol açabileceği felaketlerdendir?

- A) sel
- B) deprem
- C) yangın



15. Aşağıdakilerden hangisi "elektrik tehlikesi" işaretidir?



16. Elektrikten kaynaklanan bir yangını söndürmek için yapılan hangi davranış yanlıştır?

- A) Yangına su dökmek
- B) Şalteri kapatmak
- C) Hemen itfaiye çağırmak

17. Aşağıdakilerden hangisinde tehlikeli bir durum yoktur?



18. Aşağıdakilerden hangisi elektrik çarpmasına neden olabilecek bir davranış değildir?

- A) Eskiyen prizlerin yenileriyle değiştirilmesi
- B) Çalışan elektrikli aletleri ıslak bir bezle temizlemek
- C) Çalışan elektrikli aletlerin hareket ettirilmesi

19. Aşağıdaki elektrik aletlerinden hangisini tek başımıza kullanmamız uygun olmaz?



"Şehir elektriğinin üretildiği tesislere ..... denir


20. Yukarıdaki boşluğa aşağıdakilerden hangisi getirilmelidir?

- A) elektrik santrali
- B) akü
- C) fabrika

21. Biten piller nasıl yok edilmelidir?

- A) Parçalanıp çöpe atılmalıdır.
- B) Ateşe atılmalıdır.
- C) Atık pil kutularına atılmalıdır.

22. Aşağıdaki elektrikli aletlerden hangisinin elektrik çarpması ihtimali en azdır?



1-A 2-B 3-B 4-C 5-A 6-C 7-B 8-B

9-B 10-A

11-B 12-A 13-A 14-C 15-B 16-A 17-C

18-A 19-B 20-A 21-C 22-B