

GENEL DEĞERLENDİRME SINAVI-2



Baharla beraber göçmen kuşlarda yaşadığım şehre geldiler. Kışın sessiz olan ağaçlar , şimdi cıvı cıvı kuş sesleriyle doldu. Kuşlarla kelebekler birbirleriyle yarış edercesine gökyüzünde dolaşıyorlardı.

Babam , kuşları seviyorum diye bana bir saka kuşu armağan etti. Kafesin içinde güzel güzel otuyordu. Onunla arkadaş olmuştuk. Adını “**Biricik**” koymuştum. Fakat arkadaşları özgürce gökyüzünde uçarken onu kafesin içinde görmek beni çok üzüyordu. Bir gün kafesin kapısını açtım. “Biricik kuşum haydi uç , arkadaşların gibi özgür ol.” dedim. Kuşu salıverdim...

(İlk üç soruyu metne göre cevaplayın)

S.1) Metne göre göçmen kuşlar ne zaman şehre geliyorlar?

- A) Havalar ısınınca
- B) Baharda
- C) Kış gelince

S.2) Metnin konusu aşağıdakilerden hangisidir?

- A) Saka kuşunun serbest bırakılması
- B) Göçmen kuşların seyahati
- C) Kuşların sevilmesi

S.3) Metnin ana düşüncesi aşağıdakilerden hangisidir?

- A) Kuşları gereksiz yere avlamamalıyız
- B) Tüm canlılar özgür yaşamalıdır.
- C) Baharın gelmesiyle ağaç dikmeliyiz.

S.4) “**esir**” sözcüğünün eş anlamlısı aşağıdakilerden hangisidir?

- A) tutsak
- B) yersiz
- C) hür

S.5) Aşağıdakilerden hangisi hecelerine **doğru** ayrılmıştır?

- A) e-lek-t-rik
- B) k-ro-ki
- C) trak-tör

S.6) Aşağıdaki sözcüklerden hangisi sözlükte **en önce** gelir?

- A) gözde
- B) gözcü
- C) gözlük

S.7) Aşağıdakilerden hangisi **doğru** yazılmıştır?

- A) Kibrit
- B) Penbe
- C) kanavoz

- S.8)**
1. Akşam yemeğinden sonra , ailece yavru köpeğin çevresini sardılar.
 2. Dilek'in annesi , bir gün eve , minik bir köpek yavrusu getirdi.
 3. Dilek okuldan döndüğünde , minik yavruyu görünce sevinçten uçtu.
 4. Bu sevimli enik , arkadaşının köpeğinin yavrusuydu.

Yukarıdaki tümcelerle bir metin oluşturulduğunda **tümcelerin sıralanışı** aşağıdakilerden hangisi olur?

- A) 1-3-2-4
- B) 2-4-3-1
- C) 2-1-4-3

S.9) “**Yasemin ile Yonca da parka gittiler.**” cümlesinde kaç kelime vardır?

- A) 5
- B) 6
- C) 7

- S.10)**
- Düşünce canım çok acıdı
 - Eyvah , düşüyorum
 - Hey , sakın oradan düşme

Yukarıdaki cümlelerin hangisinin sonuna **farklı** bir noktalama işareti konulmalıdır?

- A)
- B)
- C)

S.11) “**Sıcak**” kelimesi hangisinde farklı anlamda kullanılmıştır?

- A) Artık bana sıcak davranmıyorsun.
- B) Beni pek sıcak karşılamadılar.
- C) Hava bugün çok sıcak olacakmış.

S.12) Aşağıdaki cümlelerin hangisi bir **duyguyu** belirtmektedir?

- A) Ders çalışmayı çok severim.
B) Balcı dede bal satarak geçiniyordu.
C) Bütün ilçenin suları kesilmiş.

S.13) " Gözlerini ağaca doğru dikmiş , dikkatlice bakıyordu. "

Aşağıdaki sorulardan hangisinin cevabı yukarıdaki cümlede **yoktur**?

- A) Nereye? B) Ne zaman? C) Nasıl?

S.14)  Sinirlenen aslan insanları korkuttu.

 Minik fare peyniri almıştı.

 Hızlı çita koşu yarışmasına hazırlanmıştı.

Hangi cümlede **hayal unsuru** olan bir olay anlatılmaktadır?

- A)  B)  C) 

S.15) Aşağıdaki cümlelerin hangisi kurallı **değildir**?

- A) Hayat eve sığar.
B) Eve hayat sığar.
C) Sığar eve hayat.

***** MATEMATİK *****

S.16) $568 > \dots > 450$

Yukarıdaki sıralamada yerine aşağıdaki sayılardan hangisi yazılabilir?

- A) 571 B) 449 C) 549

S.17) " 6, 1, 9 " rakamlarını birer kez kullanarak oluşturulacak **üç basamaklı en büyük çift sayı** aşağıdakilerden hangisidir?

- A) 691 B) 916 C) 961

S.18) " $875 < A$ " yerine yazılabilecek **en küçük** sayı aşağıdakilerden hangisidir?

- A) 865 B) 876 C) 880

S.19) " 0 onluk + 2 birlik +8 yüzlük " şeklinde çözümlenen doğal sayı kaçtır?

- A) 802 B) 820 C) 82

S.20) " 503 " sayısının çözümlenmesi aşağıdakilerden hangisidir?

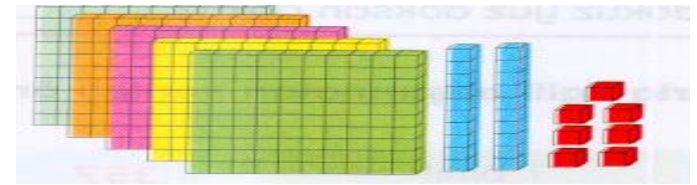
- A) $100+100+100+100+1+1+1$
B) $100+100+100+100+100+10+1+1+1$
C) $100+100+100+100+100+1+1+1$

S.21) " 396 , 206 , 460 , 400 , 309 " sayılarının büyükten küçüğe doğru sıralanışı aşağıdakilerden hangisidir?

- A) $206 < 400 < 309 < 396 < 460$
B) $460 > 400 > 396 > 309 > 206$
C) $460 > 396 > 400 > 309 > 206$

S.22) " KLM " üç basamaklı bir doğal sayıdır. Bu sayı 743 olduğuna göre, L rakamının basamak değeri kaçtır?

- A) 700 B) 40 C) 3




S.23) Yukarıda modelle verilen doğal sayı aşağıdakilerden hangisidir?

- A) 527 B) 690 C) 548

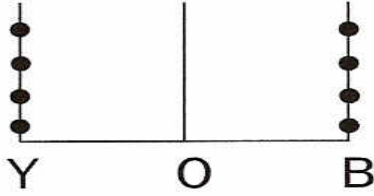
S.24) 3-D sınıfındaki 36 öğrencinin $\frac{1}{9}$ ' i hasta olduğu için okula gelemedi. Okula kaç öğrenci **gelmiştir**?

- A) 30 B) 31 C) 32



S.25) Yukarıda modelle verilen doğal sayının basamaklarına ayrılmış hali aşağıdakilerden hangisidir?

- A) 5 yüzlük + 3 onluk + 1 birlik
- B) 6 yüzlük + 3 onluk + 1 birlik
- C) 6 yüzlük + 1 onluk + 3 birlik



S.26) Yukarıdaki abaküste gösterilen sayı kaçtır?

- A) 404
- B) 44
- C) 400

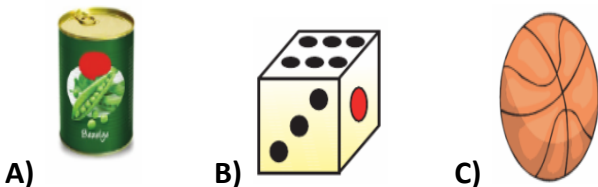
S.27) Ali , tanesi 350 kr. olan dondurmалardan 2 tane alınca 225 kr. parası arttı. Ali ' nin dondurma almadan önce ne kadar parası vardı?

- A) 9 TL 25 kr.
- B) 900 kr.
- C) 8 TL 25 kr.

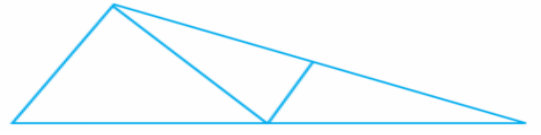
S.28) 3 dakikada 1 sayfa okuyorum. Buna göre 48 sayfalık kitabı ne kadar sürede okurum?

- A) 2 saat 24 dakika
- B) 134 dakika
- C) 1 saat 14 dakika

S.29) Aşağıdaki geometrik cisimlerden hangisinin yüzeyleri karesel bölgelerden meydana gelmiştir?



- A)
- B)
- C)



S.30)

Yukarıdaki şekilde kaç tane üçgen vardır?

- A) 3
- B) 4
- C) 5

***** FEN BİLİMLERİ *****


S.31) Aşağıda verilen maddeler ve eşleştirilen özelliklerinden hangisi yanlıştır?

- A) Cam — pürüzsüz
- B) Sünger — kırılğan
- C) Su — renksiz

S.32) Aşağıda verilen maddelerden hangisini koklamamız sakıncalıdır?

- A) Kolonya
- B) Çamaşır suyu
- C) Parfüm

S.33) Aşağıdaki maddelerden hangisi kokusuzdur?



S.34) Aşağıdakilerden hangisi yavaşlayan hareket yapar?

- A) Kırmızı ışığı gördükten sonra fren yapan araç
- B) Duran topa vurulduktan sonra topun hareketi
- C) Yolcularını aldıktan sonra perondan hareket eden tren

S.35) " Kuvvet cisimlerin hızını , yönünü ve şeklini değiştirir. " Bilgisine göre hangisi yanlıştır?

- A) Camın kırılması
- B) Bisiklet pedalının çevrilmesi
- C) Televizyon seyredilmesi

S.36) Canlı vücudundaki atıkların dışarıya atılmasına ne denir?

- A) Boşaltım B) Üreme C) Büyüme

S.37) Aşağıdaki ifadelerden hangisi **yanlıştır**?

- A) Çevre kirliliğinin sebebi insanlardır.
B) Çevre kirliliği, bazı canlıların yok olmasına sebep olur.
C) Çevre kirliliğinden sadece bitkiler zarar görür.



S.38) Resimdeki şeklin anlamı nedir?

- A) İleride çöp bidonu var.
B) İleriden dönünce çöpü atabilirsin.
C) Geri dönüşüm kutusu

S.39) Aşağıdakilerden hangisi elektrik ve suyu tasarruflu kullanmamızın sonuçlarından biri **olabilir**?

- A) Daha fazla fatura öderiz.
B) Aile ve ülke bütçesine katkıda bulunmuş oluruz.
C) Kaynaklarımız daha çabuk tükenir.

S.40) Hangisi hayvanların yaşadığı doğal çevreye örnek olarak **gösterilemez**?

- A) Hayvanat bahçesi B) Orman C) Çöl

***** **HAYAT BİLGİSİ** *****

S.41) Oyun sonrasında kaybeden çocuk nasıl **düşünelir**?

- A) Kazanan ve kaybedenlerin sürekli değişebileceğini
B) Bir daha asla kazanamayacağını,
C) Bir daha oyun oynamaması gerektiğini

S.42) Bilinçli tüketici hangisini yapar?

- A) İhtiyacı olmadığı halde alışveriş yapar.
B) Parası olduğu için canının her istediğini alır.
C) Parasının miktarına göre gerekli alışverişini yapar.

S.43) Okul kurallarına **uymazsak** ne olur?

- A) Sınavlarda daha başarılı oluruz.
B) Okulda düzensizlik olur.
C) Okulda daha az yoruluruz.

S.44) Bir yerin görünümünün kuşbakışı , kabataslak çizimine ne ad verilir?

- A) Kroki B) Harita C) Plan

S.45) Aşağıdaki seçeneklerden hangisinde kış mevsiminde tüketilmesi gereken ürünler vardır?

- A) Çilek, kavun, domates
B) Erik, patlıcan, elma
C) Pırasa, ıspanak, mandalina

S.46) Trafik kuralları ile ilgili hangi seçenek **yanlıştır**?

- A) Trafik kuralları sadece sürücüler içindir.
B) Karşıdan karşıya geçmek için güvenli yerleri kullanmalıyız.
C) Trafik kuralları can ve mal güvenliğimiz için uymamız gereken kurallardır.

S.47) Sokakta oynarken biri bizi arabasına zorla bindirmek istediğinde ne yapmalıyız?

- A) Kibarca reddetmeliyiz.
B) Bağırarak çevredeki insanlardan yardım istemeliyiz.
C) Kabul etmeliyiz ve arka koltukta oturmalıyız.

S.48) Aşağıdaki hangi öğrencinin davranışı **yanlıştır**?


- A) **Cem** : Salıncakta ayaktaiken daha hızlı sallanıyorum.
B) **Efe** : Kaydırdıktan önümdeki arkadaşım inmeden kaymam.
C) **Metin** : Salıncakta çok hızlı sallanmam.


S.49) Aşağıdakilerden hangisi sosyal faaliyetlerin kişilere olumlu yansımalarıdır?

- A) Bencil olmamıza neden olur.
B) Daha kurnaz olmamızı sağlar.
C) Toplumda yardımlaşmayı artırır.

S.50) Meslek seçerken aşağıdakilerden hangisine dikkat etmeliyiz?

 Babamızın istediği mesleği yapmalıyız.

 En çok para kazandıran mesleği yapmalıyız.

 İlgi ve yeteneklerimize en uygun mesleği yapmalıyız.

A) 

B) 

C) 

GENEL DEĞERLENDİRME SINAVI – 2

CEVAP ANAHTARI

- | | | | |
|-------|-------|-------|-------|
| 1) B | 16) C | 31) B | 41) A |
| 2) A | 17) B | 32) B | 42) C |
| 3) B | 18) B | 33) B | 43) B |
| 4) A | 19) A | 34) A | 44) A |
| 5) C | 20) C | 35) C | 45) C |
| 6) B | 21) B | 36) A | 46) A |
| 7) A | 22) B | 37) C | 47) B |
| 8) B | 23) A | 38) C | 48) A |
| 9) B | 24) C | 39) B | 49) C |
| 10) C | 25) C | 40) A | 50) C |
| 11) C | 26) A | | |
| 12) A | 27) A | | |
| 13) B | 28) A | | |
| 14) A | 29) B | | |
| 15) C | 30) C | | |