



Adı Soyadı : \_\_\_\_\_



1. Dedemin çocukken oynadığı yukarıda görselleri verilen oyunların isimleri sırasıyla aşağıdakilerden hangisidir?

- A) topaç, uzuneşek, yakan top
- B) topaç, birdirbir, körebe
- C) topaç, birdirbir, mendil kapmaca



2. Kent müzesinde gördüğümüz dedemizin çocukluğu zamanından kalan yukarıdaki eşyanın kullanım amacı aşağıdakilerden hangisidir?

- A) ısınma
- B) haberleşme
- C) aydınlatma

3. Bir zaman makinesiyle dedemizin çocukluğuna yolculuk yapsak aşağıdaki teknolojik ürünlerin hangisiyle karşılaşmış olabiliriz?



Öğretmen

"Teknoloji insanların hayatlarını kolaylaştırmaktadır."

4. Aşağıdakilerden hangisi yukarıdaki ifadeye örnek gösterilemez?

- A) Asansör sayesinde yüksek katlarda oturanlar merdiven çıkmaktan kurtuldu.
- B) Uzun süre tablette oyun oynayan Ömer'in gözleri bozuldu.
- C) Çamaşır makinesi sayesinde annelerimiz elde çamaşır yıkamaktan kurtuldu.

"Odasında top oynayan Eren, yaptığı gürültüyle alt kat komşusu Seher Teyzeyi uykusundan uyandırdı."

5. Eren, yukarıdaki davranışıyla komşuluk haklarından hangisini çiğnemiştir?

- A) Komşularımızla karşılaşınca onlara selam vermeliyiz.
- B) Komşularımızı rahatsız edecek davranışlardan kaçınmalıyız.
- C) Hasta olan komşularımıza geçmiş olsun ziyaretinde bulunmalıyız.

"Elif, komşusunun evindeki dolabı izinsiz karıştırırken fincanlardan birini düşürerek kırmış."

6. Bu durumda Elifin yapması gereken en doğru şey aşağıdakilerden hangisidir?

- A) Fincan parçalarını toplayıp olayı gizlemek
- B) Olanları komşusuna anlatıp, özür dilemek
- C) Fincanı kendisinin kırmadığını söylemek



(7 ve 8. soruları krokiye göre cevaplandırılm.)

7. Yukarıdaki krokiye göre hastane karşısında aşağıdakilerden hangisi yoktur?

- A) Taner'in evi
- B) Market
- C) Hale'nin evi

8. Yukarıdaki krokiye göre evinden okula gitmek isteyen Hale aşağıdaki yerlerin hangisinden kesinlikle gecmez?

- A) Mehmet Akif Ersoy Cad.
- B) İz Sok
- C) At Sok.

9. Evimizin krokisini çizerken aşağıdakilerden hangisini belirtmemize gerek yoktur?

- A) Evimizin bulunduğu sokağı
- B) Evimizin yakınında bulunan okulu
- C) Evimizin önünde bulunan arabaları

10. Aşağıdakilerden hangisi çocukların evde yapabileceği işlerdendir?

- A) Bakkaldan ekmek almak.
- B) Çamaşırları balkona asmak.
- C) Bozulan ampulleri değiştirmek.

Söz verirsem tutarım

Yatağımı toplarım

Her işimi gününde

Zamanında yaparım / Uğur SAĞLAM

11. Yukarıdaki şiire göre aşağıdakilerden hangisi bir çocuğun sorumluluğudur?

- A) Yemek yapmak
- B) Çarşafı yıkamak
- C) Yatağını toplamak



12. Aşağıdakilerden hangisi evde kullandığımız teknolojik ürünlerden değildir?



13. Yukarıdaki çocuğun öncelikli olarak ihtiyacı olduğu teknolojik ürün aşağıdakilerden hangisidir?



"Ülkemizde her gün beş milyona yakın ekmek çöpe gitmektedir."

14. Aşağıdakilerden hangisi ekmek israfını önlemeye yönelik bir davranıştır?

A) Bayatlayan ekmekleri geri dönüşüm kutusuna atmak

B) Bayatlayan ekmeklerden tost yapmak

C) Bayatlayan ekmekleri toprağa gömmek

15. Aşağıdakilerden kaynakların hangisinde yapacağımız tasarruf aile bütçesine katkı sağlamaz?

A) Güneş

B) elektrik

C) su

16. Aşağıdakilerden hangisi günlük planımızda öğleden önce bulunur?

A) okuldan çıkış

B) akşam yemeği

C) kahvaltı

17. Aşağıdakilerden hangisi günlük plan yapmamızın temel nedenidir?

A) Zamanı verimli kullanmak için

B) Annemiz söylediği için

C) Sağlıklı olmak için



18. Bir öğrenci günlük planında aşağıdakilerden hangisine daha az zaman ayırmalıdır?

- A) uyku
- B) bilgisayar oyunu
- C) ders çalışma

19. Ailemizin gelir ve giderlerini gösteren tabloya ne ad verilir?

- A) harçlık
- B) bütçe
- C) maaş

20. Aşağıdakilerden hangisi bir öğrencinin harçlıklarını biriktirerek satın alabileceği ürünlerden değildir?

- A) 
- B) 
- C) 

Q 1-C 2-C 3-A 4-B 5-B 6-B 7-A

8-B 9-C 10-A

11-C 12-A 13-C 14-B 15-A 16-C 17-

A 18-B 19-B 20-C