

II.DÖNEM HAYAT BİLGİSİ DENEME SINAVI-1

S.1) “ Derse gitmeyelim , bahçede oynayalım. “ diyen bir sınıf arkadaşımıza hangi cevabı vermemiz doğru olur?

- A) Tamam, o zaman saklambaca ne dersin?
- B) Bahçenin arka tarafında oynayalım ki; bizi kimse görmesin.
- C) Hayır, olmaz! Ben derse gidiyorum.

S.2) Tanımadığımız bir kişi bizi arabasıyla evimize bırakmak istediğini söylüyor ve ısrar ediyorsa hangisini yapmamız gerekir?

- A) Bağırıp yardım istemeliyiz.
- B) Arabasına binmeliyiz.
- C) Arabasına binmeli ve yanlış evi tarif etmeliyiz.

S.3) Aşağıda verilen bilgilerden hangisi **yanlıştır**?

- A) Oyun oynamak için bildiğimiz, güvenli yerleri tercih etmeliyiz.
- B) Tanımadığımız bir kişi bize annemizin ya da babamızın telefon numarasını sorarsa söylememeliyiz.
- C) Bizi tehdit eden birisi olursa kimseye söylememeliyiz.

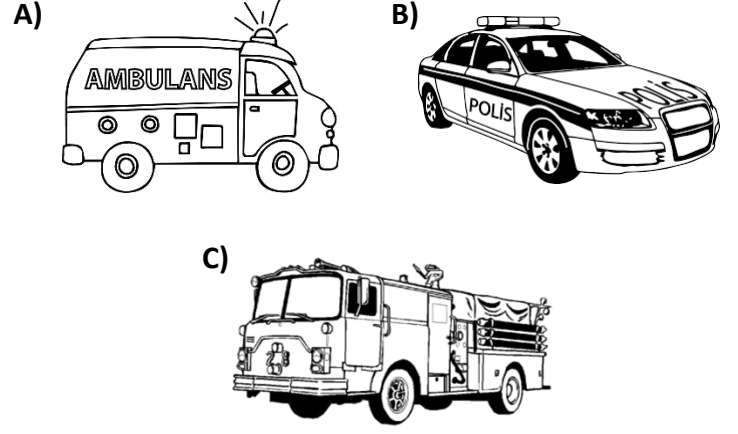
S.4) Hangisi güvenliği için **doğru** bir davranışta bulunmuştur?

- A) Özgür, yanında bir büyüğü yokken tanımadığı birisinin arabasına binmez.
- B) Efe , parkta oynarken tanımadığı birisinin verdiği çikolatayı yer.
- C) Kemal , tanımadığı birisine adresi ile annesinin ve babasının adını söyler.

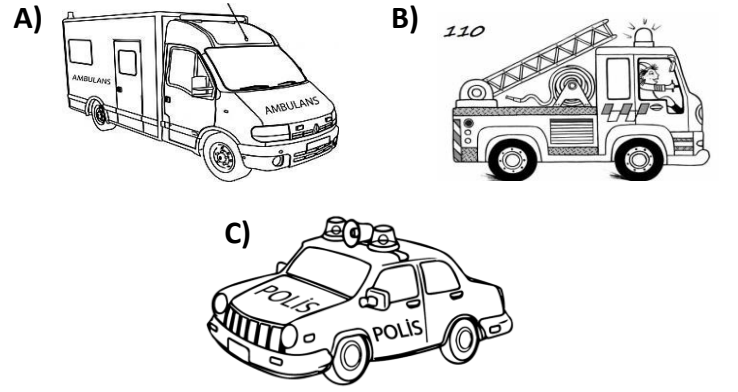
S.5) Tanımadığımız birisinin bizi takip ettiğini fark edersek hangisi yapmamız **yanlış** olur?

- A) Oradan hızlıca uzaklaşarak en yakın güvenli yere gitmek
- B) Bizi takip eden kişiyle beraber gitmek
- C) Bağırarak etrafımızdakilerden yardım istemek

S.6) Sağlığımızla ilgili yaşanan acil bir durumda **öncelikle** hangisine haber vermeliyiz?



S.7) Okulda yaşanan bir yangın durumunda **öncelikle** hangisine haber vermeliyiz?



S.8) Hangisi okuldaki kazaları önlemek için almamız gerek önlemlerden **biridir**?

- A) Okulun içinde paten yapabiliriz.
- B) Koridorlarda koşmamalıyız.
- C) Sınıfta top oynayabiliriz.


S.9) Aşağıdaki ifadelerden hangisi **doğrudur**?

- A) Beşinci kattaki evimizin balkonundan sarkabiliriz.
- B) Elektrikli aletlerle oynayabiliriz.
- C) Kesici ve delici aletlerle oynamamalıyız.

S.10) Hangisi **yanlış** bir davranışta bulunmaktadır?

- A) Erdal , ateşle oynamayı çok sever.
- B) Selda , önünde başkası varken kaydırdan kaymaz.
- C) Edip , sınıfta top oynamaz.

S.11) Aşağıdakilerden hangisi yaya geçidi trafik levhasıdır?



S.12) Görseldeki trafik işaret levhasının adı nedir?

- A) Yaya geçidi
B) Mecburi yaya yolu
C) Yayalar giremez



S.13)



Emniyet kemeri kazalarda yaralanmaları önleyici bir unsurdur.

NECATİ



Hepimiz trafik kurallarına uymalıyız.

ŞAKİR



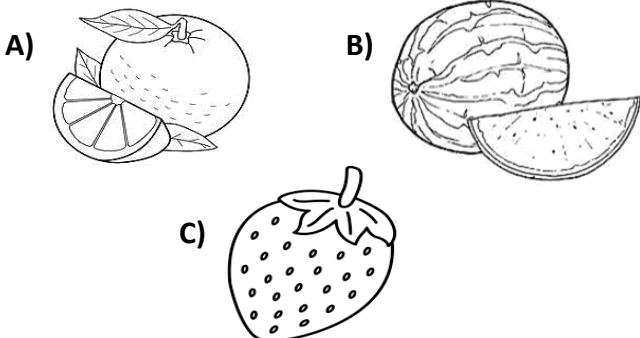
Trafik kurallarına sadece şoförler uymak zorundadır.

REMZİ

Hangisi **yanlış** bir bilgi vermektedir?

- A) REMZİ B) ŞAKİR C) NECATİ

S.14) Aşağıdakilerden hangisini kışın tüketmek daha sağlıklıdır?



S.15) Hangi öğrencinin daha sağlıklı beslendiğini söyleyebiliriz?

- A) Filiz , kışın bolca salatalık yer.
B) Fatma , hiç et yemez.
C) Figen , yazın şeftali ve karpuz yer.

S.16) Hangi öğrenci süt alırken **yanlış** bir davranışta bulunmuştur?

- A) Aldığım sütü, son kullanma tarihi geçmesine rağmen buzdolabında olduğu için satın aldım.
B) Alacağım sütü , ambalajı yırtık olduğu için satın almadım.
C) Alacağım sütü , değişik ve hoş olmayan bir kokusu olduğu için satın almadım.

S.17) Hangi öğrenci kaynakları etkili ve verimli kullanmıştır?

- A) Ulaş , dişlerini fırçalarken suyu açık bırakır.
B) İlkey , banyo yaparken suyu gerektiği kadar kullanır.
C) Leman , tuvaleti kullandıktan sonra suyla oyun oynar.

S.18) Aşağıdakilerden hangisi **yanlış** bir bilgidir?

- A) Banyo yaparken su israfından kaçınmalıyız.
B) Kişisel bakım , hayatımızı sağlıklı bir şekilde sürdürebilmemiz için gereklidir.
C) Kişisel bakımımızı yaparken kaynakları istediğimiz gibi kullanabiliriz.

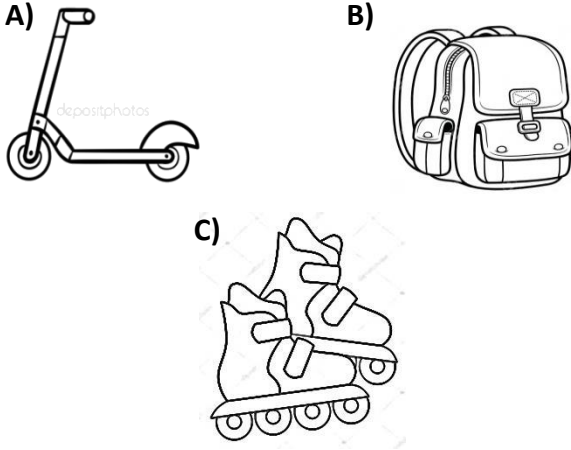
S.19) Hangi öğrenci **doğru** bir davranışta bulunmuştur?

- A) Cemre , sevdiği bir dizi olduğu için çarşamba günleri gece 12 ' de yatar.
B) Ceylan , eve gider gitmez kardeşiyle başladığı oyuna yatana kadar devam eder.
C) Canan , gün içerisinde yapacağı işleri sıraya koyar.

S.20) Aşağıdakilerden hangisi **yanlış** bir bilgidir?

- A) İsteklerimizi aldıktan sonra ihtiyaçlarımızı almalıyız.
- B) İhtiyaçlarımız isteklerimizden önce gelir.
- C) Alacaklarımızı planlarken aile bütçemize göre hareket etmeliyiz.

S.21) Üçüncü sınıfa giden bir öğrencinin elinde görsellerdeki ürünlerden hiç biri yoksa öncelikli olarak hangisi alınmalıdır?



- S.22)**
- I. Gülşen dişlerini fırçalarken suyu gerektiği kadar kullanır.
 - II. Gülay izlemediği zamanlarda televizyonu açık bırakır.
 - III. Gamze harcamadığı parasını kumbarasında biriktirir.

Yukarıda tasarruf ile ilgili verilen ifadelerden hangisi ya da hangileri doğrudur?

- A) I,III
- B) II,III
- C) I,II,III

S.23) Hangisi ana sınıfına giden kardeşimizin görevidir?

- A) Bozulan lambayı tamir etmek
- B) Oyuncaklarını toplamak
- C) Yemek yapmak

S.24) Aşağıdaki oyunlardan hangisi dedelerimizin çocukken oynadığı oyunlardan biri **olamaz**?

- A) Bilgisayar oyunları
- B) Saklambaç
- C) Körebe

S.25) Aşağıdaki ifadelerden hangisi komşuluk ilişkilerine **zarar** verir?

- A) Komşularımızı misafirlige çağırarak
- B) Evimizde yüksek sesle müzik dinlememek
- C) Komşularımıza karşı sert davranmak

S.26) Komşuluk ilişkilerini güçlendirmek için komşular arasında hangisi yapılmalıdır?

- A) Bencillik
- B) Kavg
- C) Yardımlaşma

S.27) Aşağıdaki ifadelerden hangisi arkadaşlık ile ilgili doğru ifadedir?

- A) Arkadaşlarımız ile sevinç ve üzüntülerimizi paylaşırız.
- B) Arkadaşım her zaman benimle aynı fikirde olmalıdır.
- C) Arkadaşımın her isteğini yerine getirmeliyiz.

S.28) Deprem anında evdeyse yapmamız gerekenlerden biri aşağıdakilerden hangisidir?

- A) Pencere ve balkonlara yakın durmak.
- B) Çamaşır makinesi veya bulaşık makinesinin yanına çömelmek.
- C) Deprem sırasında koşarak evden dışarı çıkmaya çalışmak.

S.29) Aşağıdakilerden hangisi kişisel bakım malzemelerinden **değildir**?

- A) Diş fırçası
- B) Tırnak makası
- C) Çatal

S.30) Aşağıdaki ifadelerden hangisi ortak kullanım alanlarında uyulması gereken kurallardan **değildir**?

- A) Okulda tuvalet ve lavaboları temiz kullanmalıyız.
- B) Yiyeceklerin ambalajlarını yere atmamız.
- C) Piknik alanlarında çöplerimizi bırakmamalıyız.

S.31) Aşağıdaki faaliyetlerden hangileri kişisel bakımımız için yaptıklarımızdandır?

I- Saçlarımızı taramak	II- Diş fırçalamak	III- Halı yıkamak
IV- Ödev yapmak	V- Tırnaklarımızı kesmek	VI- Çantamızı düzenlemek

- A) 1 – 2 – 5 B) 2 – 4 – 6 C) 1 – 3 – 5

S.32) Dedelerimiz zamanında kullanılan teknolojik ürüne örnek olan seçenek hangisidir?

- A) Tablet
B) Radyo
C) Diz üstü bilgisayar

S.33) Aşağıdaki ifadelerden hangisi **yanlıştır**?

- A) Yangın çıktığında telaşa kapılmadan büyüklerimize haber vermeliyiz.
B) Burkulan yerin üstüne beze sarılı buz koymalıyız.
C) Yanık yerin üstüne bir bezle baskı yapmalıyız.

S.34)



Yukarıdaki krokiye göre oyun parkı , Ali 'nin evinin neresindedir?

- A) Güneyinde
B) Batısında
C) Kuzeyinde

S.35) Hangisi güçlü yönlerimizden biri **olamaz**?

- A) İnsanlarla iyi ilişkiler kurmak.
B) Başkalarına benzemeye çalışmak.
C) Planlı ve verimli çalışmak.

S.36) Bilinçli tüketici aşağıdakilerin hangisini **yapmaz**?

- A) Aldığı malın kalite belgesinin olup olmadığı kontrol eder.
B) Satıcıyla pazarlık ederek fiş veya fatura almaz.
C) Haklarını aramak için tüketici derneklerinde yardım ister.

S.37) Meslek seçerken neye dikkat etmeliyiz?

- A) Ailemizin istediği mesleği seçmeliyiz.
B) Çok para kazandıran mesleği seçmeliyiz.
C) İlgi ve yeteneğimize uygun meslek seçmeliyiz

S.38) Aşağıdaki ifadelerden hangisi **yanlıştır**?

- A) Bir yeri kroki çizerek tarif edebiliriz.
B) Kroki çizerken bir yerin kuş bakışı görünüşünü çizmiş oluruz.
C) Kroki , planlı ve ölçekli bir çizimdir.

S.39) Aşağıdaki durumların hangisinde ailemize mutlaka haber vermeliyiz?

- A) Arkadaşlarımızla yeni bir oyun oynadığımızda
B) Kalemimizi arkadaşımıza ödünç verdiğimizde
C) Tanımadığımız biri bizden bir istekte bulunduğu

S.40) Aşağıdakilerden hangisi evde tehlike oluşturabilir?

- A) Sandalyeye çıkıp dolap üzerine tırmanmak.
B) Elektrikli ev aletlerinden uzak durmak.
C) Kesici aletlerle oyun oynamamak.



Adı ve soyadı :

NO : Sınıfı : PUAN :

II.DÖNEM HAYAT BİLGİSİ DENEME SINAVI-1

CEVAP ANAHTARI

- | | |
|-------|-------|
| 1) C | 21) B |
| 2) A | 22) A |
| 3) C | 23) B |
| 4) A | 24) A |
| 5) B | 25) C |
| 6) A | 26) C |
| 7) B | 27) A |
| 8) B | 28) B |
| 9) C | 29) C |
| 10) A | 30) B |
| 11) C | 31) A |
| 12) B | 32) B |
| 13) A | 33) C |
| 14) A | 34) A |
| 15) C | 35) B |
| 16) A | 36) B |
| 17) B | 37) C |
| 18) C | 38) C |
| 19) C | 39) C |
| 20) A | 40) A |