

## UZUNLUKLARI ÇİZELİM Pazartesi

\*Uzunluk çizerken cetvelin sıfır (0) noktası çizim yapılacak kağıda yerleştirilir.

\*Sonra sıfır (0) noktası işaretlenir.


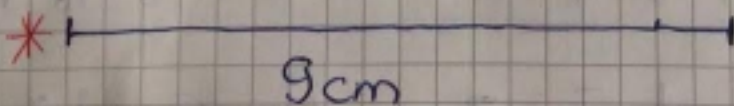

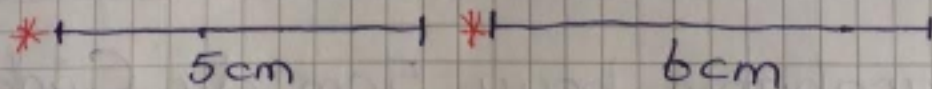

\*Sınır noktasından başlanarak istenilen uzunluk çizilir.

\*Çizim yaparken cetvel oynatılmamaya dikkat edilir.


NOT = Kareli defterde 2 kare = 1cm uzunluğundadır.

ETKİNLİK: Aşağıdaki

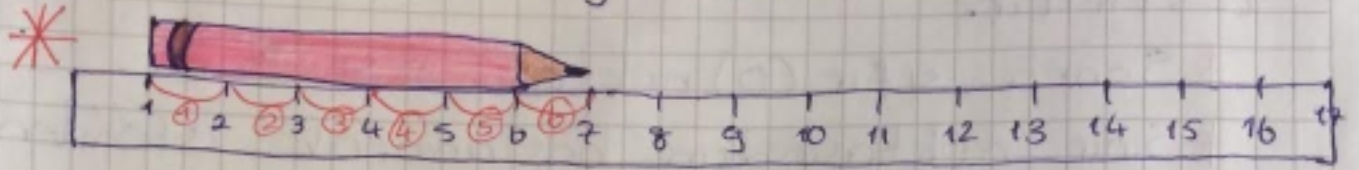
Çizimi yaparken ister cetvel kullanın isterseniz kareleri sayarak çiziniz.




## ETKİNLİK




⇒ Kalemın uzunluęu 7cm'dir.



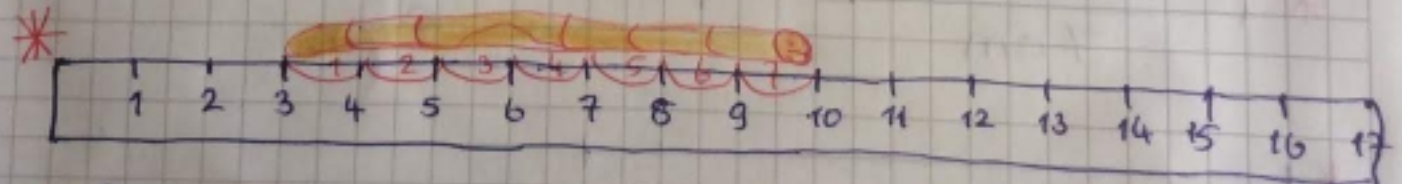
⇒ Bu kalemın uzunluęu 6cm'dir. Çünkü sıfırdan ölçölmemiştir.  $7-1=6$ cm olur.



⇒ Bu silginin boyu 3cm'dir. Çünkü sıfırdan ölçölmemiştir.  $5-2=3$ cm olur.



⇒ Oyuncak arabanın boyu 5cm'dir. Çünkü sıfırdan ölçölmemiştir.  $6-1=5$ cm olur.



⇒ Solucanın uzunluęu 7cm'dir. Çünkü sıfırdan ölçölmemiştir.  $10-3=7$ cm'dir.