

İLKOKUL 2.SINIF

HAFTALIK EV ÖDEVİ

04 - 08 MAYIS



SIİRT İL MİLLİ EĞİTİM MÜDÜRLÜĞÜ
2020



Nasreddin Hoca,
oğlunun eline bir
testi tutuşturup

çeşmeden su getirmesini istemiş. Çocuk
dışarı çıkarken de ensesine bir tokat atıp:

- "Testiyi kırma ha!" diye öğüt vermiş.

Bunu gören komşulardan biri:

- "Yahu Hocam, henüz testi kırmadan
niye dövüyorsun yavrucağızı?" diye
sormuş.

Hoca cevap vermiş:

- "Testiyi kırdıktan sonra attığım tokat
neye yarar be birader?"

(İlk üç soruyu yukarıdaki fıkraya göre
cevaplayınız)

1) Nasrettin Hoca, oğlunun eline ne
tutuşturmuş?

- A) Su şişesi
- B) Su testi
- C) Oyuncak

2) Nasrettin Hoca, su getirmek için dışarı
çıkma üzere olan çocuğa ne yapmış?

- A) Suyu çabuk getirsin diye
azarlamış.
- B) Enseseine bir tokat atmış.
- C) Çocukla beraber gitmiş.

3) Nasrettin Hoca oğluna tokat atarken
bunu kim görmüş?


- A) Komşularından biri görmüş.
- B) Karısı görmüş.
- C) Çocuğun mahalledeki arkadaşları
görmüş.


4) Aşağıdaki harflerden hangisi aynı
zamanda bir hecedir?


- A) a
- B) c
- C) z

5) Çocukların söylediği cümlelerden
hangisinde

Sebeup-sonuç ilişkisi vardır?

A)  Aniden yağmur başladı.


B)  Gece geç uyuduğu için sabah
uyanamadı.


C)  Bugün hep birlikte güneşli
bir gün geçirdik.


6) Aşağıdaki cümlelerin hangisinde karşılaştırma yapılmamıştır?

- A) Babam uzun, annem kısa boyludur.
- B) Yemek biraz tuzsuz olmuş.
- C) Kedi, köpeğe göre küçük bir hayvandır.

7) Aşağıdakilerden hangisi sessiz okuma kurallarından değildir?

 Fısıldayarak sessiz okuma yapabiliriz.

 Sessiz okuma, sadece gözlerimizle yapılan okumadır.

 Sessiz okuma yaparken başımızı sağa sola çevirmemeliyiz.

- A)  B)  C) 

8) Aşağıdaki cümlelerin hangisinde yazım veya noktalama yanlışı yapılmıştır?


- A) Annem, kedimizin adını minnoş koydu.
- B) Kuşumuz Mıstık sabahları çok güzel ötüyor.
- C) Geçen hafta doğan kuzumuza Karabaş adını verdik.


9) Geçen hafta sonu balık tutmaya gidecektik yağmur yağdığı için gidemedik.


Yukarıdaki cümleyi hangi kelime ile tamamlarsak daha uygun olur?

- A) ama
- B) bundan dolayı
- C) daha

10) “Deniz” kelimesini hangi çocuk özel isim olarak kullanılmıştır?

A)  - Denizin bugün diğer günlerden daha dalgalıydı.

B)  - Deniz bizim sınıftaki en çalışkan öğrenciydi.

C)  - Denizdeki canlılar yaşadıkları alanlarını kirletmeyelim.

11) “Kenan salonda kızı ile saklambaç oynuyordu.”

Yukarıda cümlede hangi sorunun cevabı yoktur?

- A) Neden
- B) Kim
- C) Nerede

1. Önce kaydırdıktan kaydı.
2. Parktan ayrıldıktan sonra eve döndü.
3. Berat, annesinden izin alıp evden çıktı.
4. Sonra salıncakta sallandı.
5. Arkadaşlarıyla parka geldi.

12) Yukarıda anlatılan olayların oluş sırasına göre dizilişi aşağıdakilerden hangisidir?

- A) 3-1-5-2-4
- B) 3-5-1-4-2
- C) 3-4-1-2-5

13)



-Yarınki sınava çalışmak için erkenden uyandım."

Yukarıdaki cümlede hangi sorunun cevabı yoktur?

- A) Ne zaman uyandım?
- B) Neden uyandım?
- C) Ne kadar çalışacağım?

' Böylece çilek ağacı konuklarının da kendisine bir şeyler verdiğini öğrenmiş.'

14) Yukarıdaki cümlede altı çizili olan kelimenin eş anlamlısı hangisidir?

- A) Görgü
- B) Saygılı
- C) Misafir

Ağacı kıskanırım,
Yemiş yüklü dalı var,
Bahar olsun, güz olsun,
Ne güzel masalı var!

İmrenirim arıya,
Petek petek balı var;
Konduğu çiçeklerin,
Pembesi var, alı var!

15) Bu şiirin ana duygusu nedir?

- A) Doğa sevgisi
- B) Ağaç sevgisi
- C) Hayvan sevgisi

16)" Minik fare kediyi gördüğü için korkup kaçtı."

Yukarıdaki cümlede varlığın özelliğini belirten sözcük hangisidir?

- A) kediyi
- B) fare
- C) minik

17)

- a. Annesi Berat'ı doktora götürdü.
- b. Eve gidince terli terli su içti ve hastalandı.
- c. Berat ilaçlarını içti ve iyileşti.
- d. Berat arkadaşlarıyla bahçede top oynadı.

Yukarıdaki cümlelerin oluş sırasına göre sıralanışı hangisidir?

- A) a- c- d- b
- B) d- b- a- c
- C) d- a- b- c

18) "En çok sevdiğim arkadaşım"
Cümlesi aşağıdakilerden hangisi ile devam ettirilirse hayal ürünü bir ifade olur?

- A) Ayşe'dir.
- B) Mavi gökyüzüdür.
- C) Kitaplardır.

19) 1-Kelebek 2- Balon
3-Çadır 4- Lamba

Rakamlarla verilen sözcüklerin, sözlük sıralaması aşağıdakilerden hangisinde doğru verilmiştir?

- A) 2-3-4-1
- B) 2-3-1-4
- C) 2-1-3-4

20)

Ebru: Alfabemizdeki ilk harf a, son harf z'dir.

Hülya: Alfabemizdeki ünsüz harfler, ünlü bir harf yardımıyla okunur.

Miraç: Alfabemizdeki ünlü ve ünsüz harflerin sayısını birbirine eşittir.

Yukarıdaki öğrencilerden kaç tanesi doğru bilgi vermektedir?

- A) 1
- B) 2
- C) 3

Cevap Anahtarı

1-B

2-B

3-A

4-A

5-B

6-B

7-A

8-A

9-A

10-B

11-A

12-B

13-C

14-C

15-B

16-C

17-B

18-C

19-B

20-B

1. Yandaki oyuncak arabanın fiyatına karşılık gelen para miktarı aşağıdakilerden hangisidir?



27 TL



2. Umut 50 TL'sinin 10 TL'si ile boya, 5 TL'si ile defter aldı. Umut'un geriye kaç TL'si kaldı?

A) 40 B) 35 C) 45

3. Aşağıdakilerden hangisi standart olmayan bir ölçü aracıdır?



B)



C)



4. Aşağıdaki varlıklardan hangisinin uzunluğunun santimetre ile ölçülmesi diğerlerine göre daha zordur?

A)



B)



C)



5. Aşağıdakilerden hangisini tartarak alırız?

A)



B)



C)



6. Bir tırtıl günde 3 metre yol alıyor. Tırtıl 5 günde kaç metre yol alır?

A) 15 B) 8 C) 18

7. Sinan 36 kg'dır. Sinan ile Berat'ın kütlelerinin toplamı 70 kg olduğuna göre, Berat'ın kütlesi kaç kg'dır?

A) 46 B) 34 C) 44

8. Bir terzi 98 metre kumaşın 1. gün 27 metresini, 2. gün 36 metresini kullanmıştır. Terzinin kaç metre kumaş kalmıştır?

A) 42 B) 68 C) 35

9. Ders çalışma masamın kısa kenarı 45 santimetredir. Ders çalışma masamın uzun kenarı, kısa kenarından 27 santimetre daha uzun olduğuna göre, ders çalışma masamın uzun kenarı kaç santimetredir?

- A) 72 B) 62 C) 27

10. Bahçeden 83 kg kiraz topladık. 37 kg'ını dedemlere, 28 kg'ını dayımlara verdik. Bize kaç kilogram kiraz kaldı?

- A) 18 B) 28 C) 38



11. Tabaklardaki çileklerin sayısını bulmak için aşağıdaki işlemlerden hangisini yapamayız?

- A) $4+4+4$
B) 3×4
C) $3+3+3$

12. Aşağıdaki işlemlerin hangisinin sonucu yanlıştır?

- A)
$$\begin{array}{r} 6 \\ \times 3 \\ \hline 18 \end{array}$$
 B)
$$\begin{array}{r} 8 \\ \times 4 \\ \hline 28 \end{array}$$
 C)
$$\begin{array}{r} 4 \\ \times 4 \\ \hline 16 \end{array}$$

13. Aşağıdaki modellemelerden hangisi 3×4 işlemini göstermez?

- A)
- B)
- C)

14. Çocuklar! Benim şeklim hangi geometrik şekle benzer?

- A) Koni B) Küre C) Üçgen Prizma

15. $142 \text{ cm} = \dots\dots \text{ m } \dots \text{ cm}$ eşitliğinde noktalı yerlere sırasıyla hangi sayılar gelmelidir?

- A) 1 metre 24 santimetre
B) 1 metre 42 santimetre
C) 1 metre 42 kilometre

16. 13 sayısının 3 katının 14 eksiği kaçtır?

- A) 30 B) 53 C) 25

17. 6 tavuk ve 8 keçinin ayakları toplamı kaç eder?

- A) 14 B) 28 C) 44

Not:18,19 ve 20. soruları şekle göre



18. Yukarıda belirtilen görsellerin çetele tablosunu belirten seçenek aşağıdakilerden hangisidir?

A)

| Meyveler | Meyve Sayısı |
|----------|--------------|
| Elma | HHH |
| Armut | IIII |
| Çilek | HHH II |
| Muz | HHH II |

B)

| Meyveler | Meyve Sayısı |
|----------|--------------|
| Elma | HHH |
| Armut | IIII |
| Çilek | HHH II |
| Muz | HHH |

C)

| Meyveler | Meyve Sayısı |
|----------|--------------|
| Elma | HHH |
| Armut | IIII |
| Çilek | HHH |
| Muz | HHH II |

19. Yukarıdaki görselin sıklık tablosu aşağıdaki seçeneklerin hangisi gibidir?

A)

| Meyveler | Meyve Sayısı |
|----------|--------------|
| Elma | 5 |
| Armut | 4 |
| Çilek | 7 |
| Muz | 6 |

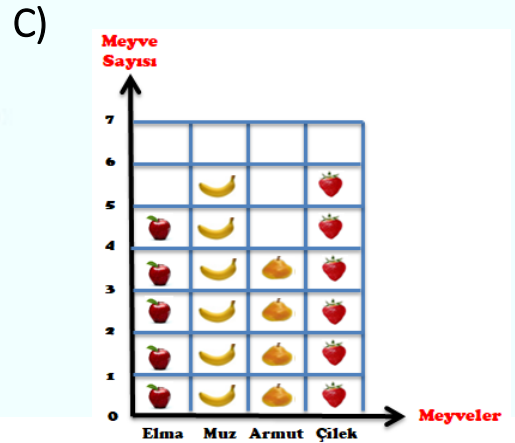
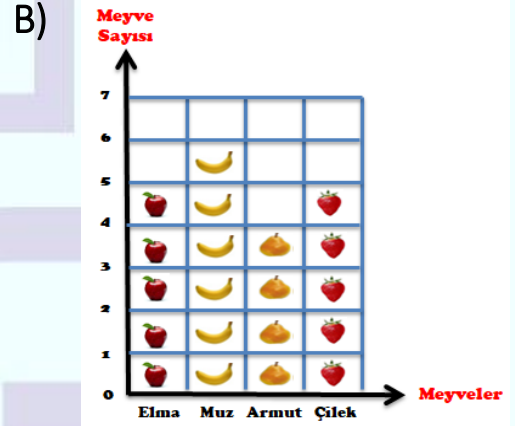
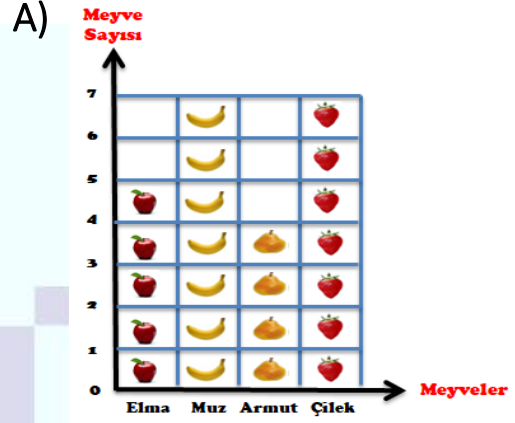
B)

| Meyveler | Meyve Sayısı |
|----------|--------------|
| Elma | 5 |
| Armut | 7 |
| Çilek | 7 |
| Muz | 4 |

C)

| Meyveler | Meyve Sayısı |
|----------|--------------|
| Elma | 5 |
| Armut | 4 |
| Çilek | 7 |
| Muz | 7 |

20. Yukarıdaki görselin nesne grafiğini aşağıdaki seçeneklerin hangisinde doğru gösterilmiştir?



Cevap Anahtarı

1-C

2-B

3-B

4-C

5-B

6-A

7-B

8-C

9-A

10-A

11-C

12-B

13-B

14-A

15-B

16-C

17-C

18-A

19-C

20-A

1) Ebru, Ayşe'den daha iyi resim yapmaktadır. Ayşe, Betül'den daha iyi şiir yazmaktadır.

Yukarıdaki cümlede verilen durum aşağıdakilerden hangisi ile açıklanabilir?

- A) Her insanın yetenekleri aynıdır.
- B) Her insan farklı bir yeteneğe sahiptir.
- C) Arkadaşların tüm özellikleri birbirine benzer.

- 1. Sınıfları süsleriz.
- 2. Büyüklerimizin ellerinden öperiz.
- 3. Okullarda kutlamalar yaparız.
- 4. Kurban keseriz.

2)Yukarıdakilerden hangilerini dini bayramlarda yaparız?

- A) 1-2
- B) 2-4
- C) 1-3

3) Aşağıdaki milli bayramlarımız ve tarih eşleştirmelerinden hangisi yanlıştır?

- A) Zafer Bayramı - 30 Ağustos
- B) Cumhuriyet Bayramı - 29 Ekim
- C) Ulusal Egemenlik ve Çocuk Bayramı – 19 Mayıs

4) “Miray sabah kalktığında penceresinden güneşin doğuşunu izlemektedir.”

Buna göre Miray'ın penceresi hangi yöne bakmaktadır?

- A) Doğu
- B) Batı
- C) Güney


5) Aşağıdakilerden hangisi bizim gelenek ve göreneklerimize ait değildir?


- A) Kına gecesi
- B) Asker uğurlaması
- C) Yılbaşı kutlaması

6) Aşağıdakilerden hangisi okul kurallarındandır?

- A) Yemekten sonra dişlerimizi fırçalamak
- B) Söz almadan konuşmamak
- C) Yemekten önce ellerimizi yıkamak

7)  -Atatürk'ün Samsun'a gitmesi

 -Atatürk'ün Ankara'ya gitmesi

 -Türkiye Büyük Millet Meclisi'nin açılması

Yukarıdaki çocukların söylediği olaylardan hangisi Kurtuluş Savaşı'nın başlangıcı olarak kabul edilir?

A)  B)  C) 

8) Aşağıdakilerden hangisi bağımsızlık sembollerimizden biri değildir?

A) İstiklal Marşımız
B) Askerler
C) Bayrağımız



Azra

..... güvenli oyun alanlarımızdan biridir.

9) Azra'nın cümlesindeki boşluğa aşağıdakilerden hangisi getirilmelidir?

A) Parklar
B) Taşıt Yolu
C) Caddeler

Ambulans → 112
Polis → 156
İtfaiye → 155

10- Yukarıdaki eşleştirmelerden kaç tanesi yanlıştır?

A) 1
B) 2
C) 3

11) Trafik kurallarına neden uymalıyız?

Öğretmenimizin yukarıda sorduğu sorunun cevabını hangi öğrenci doğru vermiştir?



A) Ahmet: Ailemiz bize söylediği için
B) Arda: Polisler bize ceza yazmaması için
C) Berat: Kendimizin ve başkalarının güvenliği için

12) Mehmet Öğretmen:

-Evlerimizde elektrik, su, odun, kömür ve doğalgaz gibi tükenbilir kaynakları tasarruflu kullanarak ülke ekonomisine katkı sağlayabiliriz.

Aşağıdaki öğrencilerden hangisi Mehmet Öğretmeninin söylediklerini önemsemiştir?

A) Boşa akan musluğu bazen kapatırım.
B) Kış mevsiminde pencereleri açık bırakırım.
C) İşim bittikten sonra lambaları kapatırım.

13) Aşağıdaki öğrencilerden hangisinin söylediği doğru bir davranış değildir?

- A) İstemediğimiz bir olayla karşılaştığımız zaman duygularımızı kaba bir şekilde ifade etmeliyiz.
- B) Arkadaşlarımızla iletişim kurarken nezaket ifadelerini kullanmalıyız.
- C) Arkadaşlarımız bir konu anlatırken dinleme kurallarına uymalıyız.

14) 1. Cumhuriyet Bayramı her yıl 29 Ekim'de kutlanır.

2. Atatürk, 23 Nisan Ulusal Egemenlik ve Çocuk Bayramı'nı çocuklara armağan etmiştir.

3. Atatürk 19 Mayıs'ta Samsun'a çıkmıştır.

Yukarıda verilen bilgilerden hangileri doğrudur?

- A) 1-2
- B) 1-2-3
- C) 1-3

15)Aşağıdakilerden hangisi doğrudur?

A) Canlıların güneş ışığına ihtiyacı vardır.

B) Ağaçlar ve çiçekler cansız varlıklardır.

C) Koyunlar etçil hayvanlardır.

16)Aşağıdakilerden hangisi depremde insanlara yardım eden kurumlardan biri değildir?

- A) Yeşilay
- B) Sivil Savunma
- C) Kızılay

17) Deprem olduğu esnada uygulamamız gereken davranış aşağıdakilerden hangisidir?

- A) hemen koş
- B) uzan-gözlerini kapat
- C) çök-kapan-tutun

18)Aşağıdakilerden hangisi ortak kullanım alanında dikkat edilmesi gerekenlerden değildir?

- A) temizlik- hijyen
- B) başkalarını rahatsız edici davranışlarda bulunmamak
- C) özensiz davranmak

19)Aşağıdakilerden hangisi bitkilerin yaşamlarını devam ettirebilmesi için gerekli değildir?

- A)Saksı
- B) Su
- C) besin

20)

- Piknik alanlarını terk ederken eęer ateş yaktıysak söndüğünden emin olmalıyız.
- Kara ve demir yolu ulaşımı çıę alanlarından uzak yapılmalıdır.
- Evde, iş yerinde, okullarda yaşam üçgeni alanı oluşturulmalıdır.
- Dere yataklarının kenarına evler yapılmamalıdır.
- Cam ve cam kırıklarını ormanda bırakmamalıyız.

Yukarıdaki bilgilerden kaç tanesi doğrudur?

- A) 5
- B) 4
- C) 3

Cevap Anahtarı

1-B

2-B

3-C

4-A

5-C

6-B

7-A

8-B

9-A

10-B

11-C

12-C

13-A

14-B

15-A

16-A


17-C

18-C

19-A

20-A

1- Read and colour (Okuyalım ve boyayalım)



2- Complete the sentences with "I like or I don't like"



1. I pink and yellow.

2. I purple.

3. I red.

4. I black and purple.

5. I green but I red.

6. I purple but I pink.

3- Answer the questions. (Soruları cevaplayalım.)



4



2



7



9



8

1.How many yellow pencils are there?

2.How many black scissors are there?

3.How many green kiwis are there?

4.How many blue erasers are there?

5.How many pink balloons are there?

6. How many red crayons are there?

There are

There are

There are

There are.....

There are

There are

4- Test Time

1. Aşağıdaki eşleştirmelerden Hangisi yanlıştır?

- A) red _____ kırmızı
B) pink _____ mor
C) white _____ beyaz

2. Aşağıdaki eşleştirmelerden hangisi doğrudur?

- A) green _____ siyah
B) grey _____ mavi
C) brown _____ kahverengi

3. "I like blue."


- A) Beyazı severim.
B) Sarıyı severim.
C) Maviyi severim.

4. What color is it?

- A) black
B) white
C) yellow


5. What color is it?

- A) O ne renk?
B) Kaç yaşındasın?
C) Adın ne?




6. Aşağıdaki meyvelerden hangisinin rengi yanlış yazılmıştır?

- A) yellow B) purple C) green




ANSWER KEY(Cevap Anahtarı)

1- Read and colour (Okuyalım ve boyayalım)



2- Complete the sentences with "I like or I don't like"



1. I like pink and yellow.
2. I don't like purple.
3. I don't like red.
4. I don't like black and purple.

5. I like green but I don't like red.
6. I don't like purple but I like pink.

3- Answer the questions. (Soruları cevaplayalım.)



6



4



2



7



9



8

1. There are four yellow pencils
2. There are two black scissors.
3. There are nine green kiwis.

4. There are seven blue erasers.
5. There are six pink balloons.
6. There are eight red crayons

4- TEST TIME

1-B 2-C 3-C 4-C 5-A 6-B

ÇALIŞMADA EMEĞİ GEÇEN ÖĞRETMENLERİMİZ

Abdurrahman CELAN

Mehmet EKİNCİ

Seda AYDINLI

Kasım AYDIN

Bu çalışma Siirt Milli Eğitim Müdürlüğü öğretmenleri tarafından hazırlanmıştır. Emeklerinden dolayı teşekkür ederiz.