




1. SINIF
TOPLAMA İŞLEMİ PROBLEMLERİ


1) 5 kırmızı elmanın yanına 7 yeşil elma daha koydum. Kaç elmam oldu?



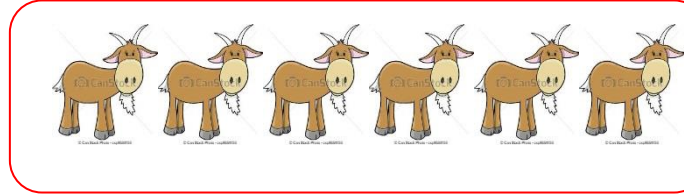
2) Görseldeki arıların yanına 6 arı daha katılıyor . Grupta toplam kaç arı olur?




3) Görseldeki ördeklerin yanına 8 ördek daha geldi. Ördeklerin tamamı ne kadar olur?



4) Ali dayının 6 tane keçisi vardı. Ali dayı 7 keçi daha aldı. Ali dayının toplam kaç keçisi oldu?



5) Cumartesi günü Enes 7 dakika koştu. Pazar günü ise 4 dakika koştu. Enes iki günde kaç dakika koşmuştur?



ÇÖZÜMLER:

1- $5+7=12$ elmam oldu.

2- $8+6=14$ arı

3- $7+8=15$ ördek

4- $6+7=13$ keçi

5- $7+4=11$ dakika