




1. SINIF  
TOPLAMA İŞLEMİ PROBLEMLERİ


1) 5 kırmızı elmanın yanına 7 yeşil elma daha koydum. Kaç elmam oldu?





2) Görseldeki arıların yanına 6 arı daha katılıyor . Grupta toplam kaç arı olur?




3) Görseldeki ördeklerin yanına 8 ördek daha geldi. Ördeklerin tamamı ne kadar olur?



4) Ali dayının 6 tane keçisi vardı. Ali dayı 7 keçi daha aldı. Ali dayının toplam kaç keçisi oldu?



5) Cumartesi günü Enes 7 dakika koştu. Pazar günü ise 4 dakika koştu. Enes iki günde kaç dakika koşmuştur?



## **ÇÖZÜMLER:**

1-  $5+7=12$  elmam oldu.

2-  $8+6=14$  arı

3-  $7+8=15$  ördek

4-  $6+7=13$  keçi

5-  $7+4=11$  dakika