


Problem Çözelim

1 8 elmanın 5 tanesini yedim. Kaç elmam kaldı?



2 19 öğrencinin 11 tanesi kız öğrencidir. Erkek öğrencilerin sayısı kaçtır?




3 Ahmet 12 yaşındadır. Ahmet, 7 yıl önce kaç yaşındaydı?




4 Bir defter ve bir kitap 15 liradır. Bir defterin fiyatı 4 lira olduğuna göre, bir kitabın fiyatı kaç liradır?



5 Minibüste 15 yolcu vardı. İlk durakta 6 kişi, ikinci durakta 3 kişi indi. Minibüste kaç yolcu kaldı?



6 Cebimde 10 liram vardı. 5 lira annem verdi. Paramın 3 lirası ile defter aldım. Geriye kaç liram kaldı?



Cevaplar

$$\begin{array}{r} 1- \quad 8 \text{ elma} \\ - \quad 5 \text{ elma} \\ \hline 3 \text{ elma kaldı} \end{array}$$

$$\begin{array}{r} 2- \quad 19 \text{ toplam öğrenci} \\ - \quad 11 \text{ kız öğrenci} \\ \hline 8 \text{ erkek öğrenci} \end{array}$$

$$\begin{array}{r} 3- \quad 12 \\ - \quad 7 \\ \hline 5 \text{ yaşındadır} \end{array}$$

$$\begin{array}{r} 4- \quad 15 \text{ defter ve kitap} \\ - \quad 4 \text{ defter} \\ \hline 11 \text{ kitabın fiyatı} \end{array}$$

$$\begin{array}{r} 5- \quad 15 \\ - \quad 6 \\ \hline 9 \text{ ilk durak} \end{array} \quad \begin{array}{r} 9 \\ - \quad 3 \\ \hline 6 \text{ yolcu} \end{array}$$

$$\begin{array}{r} 6- \quad 10 \\ + \quad 5 \\ \hline 15 \text{ param oldu} \end{array} \quad \begin{array}{r} 15 \\ - \quad 3 \\ \hline 12 \text{ liram kaldı} \end{array}$$