

Tablo okuma-1-

Aşağıdaki tablo 1-B sınıfını göstermektedir.

	
	
Her şekil 2 öğrenciyi göstermektedir.	

1) Bu sınıftaki kız öğrencilerin sayısı kaç kişidir?

A) 12 B) 11 C) 8

2) Bu sınıftaki erkek öğrenciler kaç kişidir?





A) 13 B) 10 C) 8

3) Grafiğe göre erkeklerin sayısı kızlardan ne kadar fazladır?

A) 4 B) 3 C) 2

4) 1-B sınıfının mevcudu kaç kişidir?

A) 20 B) 18 C) 16

Yandaki grafik bir oyuncakçıdaki bazı Oyuncakların sayısını gösteriyor. Buna göre, topların sayısı ayıcıkların sayısından kaç fazladır?

A) 5 B) 4 C) 2

Her şekil bir varlığı göstermektedir

OYUNCAKLAR		
	araba	5
	bebek	6
	kukla	9
	panda	4

Yandaki grafik bir anasınıfındaki oyuncakların sayısını göstermektedir.

Bu grafiğe göre anasınıfında kaç tane oyuncak vardır?

A) 25 B) 24 C) 23

CEVAP ANAHTARI

- 1-C
- 2-B
- 3-A
- 4-B
- 5-C
- 6-B