

Tablo okuma-2-

1-B Sınıfının Başkan Seçimi	
Aday Öğrenci	Aldığı Oy Sayısı
NURSENA	7
SABRİ	4
BEYZANUR	5
KAAN	3

1) Bu sınıfta kaç öğrenci başkanlık seçimine katılmıştır?


A) 20 B) 19 C) 18

2) Sınıf başkanı seçimini kim kazanmıştır?

A) Kaan B) Sabri C) Nursena




3) En çok oy alanla en az oy alan arasındaki fark ne kadardır?

A) 5 B) 4 C) 3






1-B sınıfında yapılan ankette öğrencilerin en çok sevdiği meyveler belirlenmiş ve aşağıdaki grafik oluşturulmuştur.

4) Tabloya göre en çok sevilen meyve hangisidir?



5) Tabloya göre meyvelerin en çok sevilenden en az sevilene doğru sıralanışı hangi seçenektir?



CEVAP ANAHTARI

- 1-B
- 2-C
- 3-B
- 4-A
- 5-A