

SIVILARDA ÖLÇME

1-Aşağıdaki kapları en az sıvı alandan, en çok sıvı alana doğru sıralayınız.



1



2



3



4


A) 2-3-4-1

B) 1-3-2-4

C) 1-2-3-4

2-Bir çay bardağı ile aşağıdaki kapları doldurmak istersek ilk önce hangisi dolar?


A)



B)



C)



3-Sıvı maddeleri aşağıdakilerden hangisi ile ölçemeyiz?

A) bardak

B) litre

C) metre

4-Aşağıdakilerden hangisi standart sıvı ölçme birimidir?

A) kilogram

B) metre

C) litre

5-Aşağıdakilerden hangisini ölçerken litre kullanılmaz?

A) su

B) benzin

C) şeker

6- Çaydanlığı aşağıdaki bardaklardan hangisine boşaltırsak daha çok bardak kullanmış oluruz.



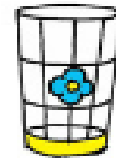
A)



B)



C)

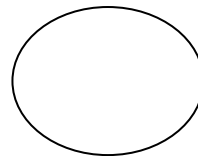
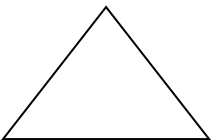


7- Aşağıdaki cümlelerden doğru olanların başına (D), yanlış olanların başına (Y) harfini koyunuz.

..... Litre sıvı ölçme birimidir.

..... Bir kova, bir su bardağından daha az sıvı alır.

8- Aşağıdaki geometrik şekillerin adlarını yazın.



.....

.....

.....

.....

CEVAP ANAHTARI

1-B

2-B

3-C

4-C

5-C

6-A

7-D-Y

8-ÜÇGEN-KARE-ÇEMBER-DİKDÖRTGEN