


STANDART OLMAYAN SIVI ÖLÇÜ BİRİMLERİ

Aşağıda boş bırakılan yerleri resimlere göre "az" ya da "çok" kelimelerinden uygun olanıyla doldurun. Cevaplamanız bitince resimleri istediğiniz renklere boyayınız.



Kova




Bardak




Fincan

- * Kova bardaktan daha sıvı alır.
- * Fincan bardaktan daha sıvı alır.
- * Fincan kovadan daha sıvı alır.
- * Bardak fincandan daha sıvı alır.



Tencere



Cezve



Kaşık

- * Kaşık cezveden daha sıvı alır.
- * Tencere cezveden daha sıvı alır.
- * Cezve kaşıktan daha sıvı alır.
- * Tencere kaşıktan daha sıvı alır.

CEVAP ANAHTARI

*ÇOK

*AZ

*AZ

*ÇOK

*AZ

*ÇOK

*ÇOK

*ÇOK

1- $4+4=8$ sürahi gelir.

2- $2+2+2+2=8$ fincan suya ihtiyaç vardır.

3- $5+5+5=15$ seferde taşır.