

Tablo Oluşturma

Nesne veya olayları karşılaştırmak için hazırlanan, üzerinde sayıların bulunduğu çizelgeye **tablo** denir.

Tablo: Göz renkleri	
Göz rengi	Öğrenci Sayısı
Kahverengi	8
Yeşil	3
Mavi	4
Ela	1

* Kahverengi gözlü 8 öğrenci vardır.

* Ela gözlü 1 öğrenci vardır.

* Yeşil gözlü 3 öğrenci vardır.

* Ela, yeşil ve mavi gözlü öğrenci sayılarının toplamı $1+4+3=8$ 'dir.

Tablo: Vazodaki Çiçekler	
Renği	Çiçek Sayısı
Kırmızı	11
Sarı	8

Ocak / January

Car	Per	Cu	Ct	Pz
We	Th	Fr	Sa	Su
	1	2	3	
6	7	8	9	10
13	14	15	16	17
20	21	22	23	24
27	28	29	30	31

Şubat / February

Car	Per	Cu	Ct	Pz
We	Th	Fr	Sa	Su
3	4	5	6	7
10	11	12	13	14
17	18	19	20	21
24	25	26	27	28

Mart / March

Car	Per	Cu	Ct	Pz
We	Th	Fr	Sa	Su
3	4	5	6	7
10	11	12	13	14
17	18	19	20	21
24	25	26	27	28
31				

Nisan / April

Car	Per	Cu	Ct	Pz
We	Th	Fr	Sa	Su
1	2	3	4	
7	8	9	10	11
14	15	16	17	18
21	22	23	24	25
28	29	30		

Mayıs / May

Car	Per	Cu	Ct	Pz
We	Th	Fr	Sa	Su
	1	2		
5	6	7	8	9
12	13	14	15	16
19	20	21	22	23
26	27	28	29	30

Haziran / June

Car	Per	Cu	Ct	Pz
We	Th	Fr	Sa	Su
2	3	4	5	6
9	10	11	12	13
16	17	18	19	20
23	24	25	26	27
30				

Temmuz / July

Car	Per	Cu	Ct	Pz
We	Th	Fr	Sa	Su
1	2	3	4	
7	8	9	10	11
14	15	16	17	18
21	22	23	24	25
28	29	30	31	

Ağustos / August

Car	Per	Cu	Ct	Pz
We	Th	Fr	Sa	Su
	1			
4	5	6	7	8
11	12	13	14	15
18	19	20	21	22
25	26	27	28	29

Eylül / September

Car	Per	Cu	Ct	Pz
We	Th	Fr	Sa	Su
1	2	3	4	5
8	9	10	11	12
15	16	17	18	19
22	23	24	25	26
29	30			

Ekim / October

Car	Per	Cu	Ct	Pz
We	Th	Fr	Sa	Su
	1	2	3	
6	7	8	9	10
13	14	15	16	17
20	21	22	23	24
27	28	29	30	31

Kasım / November

Car	Per	Cu	Ct	Pz
We	Th	Fr	Sa	Su
3	4	5	6	7
10	11	12	13	14
17	18	19	20	21
24	25	26	27	28

Aralık / December

Car	Per	Cu	Ct	Pz
We	Th	Fr	Sa	Su
1	2	3	4	5
8	9	10	11	12
15	16	17	18	19
22	23	24	25	26
29	30	31		





* Kaç kırmızı çiçek var?

* Kaç sarı çiçek var?

* Toplam kaç çiçek var?

* Kırmızı çiçekler, sarı çiçeklerden kaç tane fazladır?

Tablo: Mart Ayı Hava Olayları

Hava Olayı	Gün Sayısı
	5
	7
	10
	9

* Mart ayında hava kaç gün güneşli?

* Mart ayında hava kaç gün yağmurlu?

* Mart ayında hava kaç gün karlıdır?

* Mart ayında hava kaç gün bulutludur?

* Yağış olmayan gün sayısı kaçtır?

* Bulutlu ve karlı günlerin sayıları toplamı kaçtır?

* Karlı ve güneşli günlerin farkı kaçtır?

Cevap Anahtarı

Tablo: Vazodaki Çiçekler

1- 11 kırmızı çiçek vardır.

2- 8 sarı çiçek vardır.

3- 3 fazladır. ($11 - 8 = 3$)

Tablo: Mart Ayı Hava Olayları

1- 5 gün güneşli.

2- 10 gün yağmurlu.

3- 9 gün karlıdır.

4- 7 gün bulutludur.

5- 12 ($7 + 5 = 12$)

6- $9 + 7 = 16$

7- $9 - 5 = 4$