



ADI:

SOYADI:

SINIFI:

NUMARASI:

OKULU:

www.ilkokulevim.com

3.SINIF

**KAZANIM DEĞERLENDİRME
SINAVI**



BAMBU

Bambu bitkisi birçok türü olan bir bitkidir. Birçok alanda insanların işine yarar. Bambu, daha çok Asya, Amerika ve Afrika'da yetişir. Bazı bambu türlerinin boyu 40 metreye kadar ulaşabilir. Bu bitki çok sert bir yapıya sahiptir. Su geçirmez bu nedenle mobilya yapımında kullanılır.

1- Bambu bitkisi hangi alanda kullanılmaktadır?

- A. İnşaat sektöründe
- B. Mobilya sektöründe
- C. Yemek sektöründe

2- Aşağıdakilerden hangisi bambunun yetiştiği bir yer değildir ?

- A. Avrupa
- B. Amerika
- C. Afrika

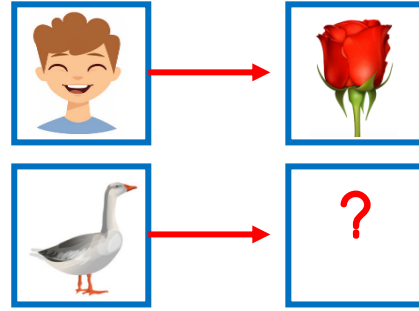
3- Bu metin ile ilgili aşağıdakilerden hangisi söylenemez?

- A. Bilgilendirici bir metinden alınmıştır.
- B. Bambu bitkisi ile ilgili açıklama yapmıştır.
- C. Hikâye edici bir metinden alınmıştır.






4- Aşağıdaki özelliklerden hangisi iyi bir dinleyicinin özelliği olamaz?

- A. Dinlerken not alır.
- B. İzinsiz soru sorabilir.
- C. Sessizce dinler



5- Eşleştirmelerin doğru olması için "?" yerine aşağıdakilerden hangisi getirilmelidir?

- A. 
- B. 
- C. 



6- Aşağıdaki cümlelerden hangisinde noktanın kullanılışı yanlıştır?

- A. Hastanede Dr. Murat nöbetçi bugün.
- B. Ahmetler bahçede oynuyor.
- C. Bu yıl okulumuz mendil kapmaca turnuvasında 1.inci oldu.

- ★ Öfkeyle kalkan zararlar oturur.
- Bir elin nesi var, iki elin sesi var.
- Gülme komşuna, gelir başına.

7- Yukarıdaki atasözlerinden hangisi "insanlarla dalga geçmemeyi ve alay etmemeyi" öğütler?

- A. ■
- B. ●
- C. ★

8- Seçeneklerden hangisinde gelecekte yapılacak bir eylemden bahsedilmiştir?

- A. Öğretmen sınıfın kapısını kapattı.
- B. Murat'ı da alıp maça gideceğiz.
- C. Kardeşimle körebe oynuyoruz.

Canım Dedem;
Sizleri çok özledim. Bu yaz tatilinde yanınıza gelmek için sabırsızlanıyorum. Derlerime çok çalışıp okulu başarılı bir şekilde tamamlayacağım ve en güzel karneyi sana getireceğim. Sevgilerimle.

Emre

9- Yukarıdaki yazı hangi metin türünden alınmış olabilir?

- A. Mektup
- B. Anı
- C. Günlük


"Greyfurt, portakal, mandalina meyveler C vitamini açısından zengindir."

10- Yukarıdaki cümlede noktalı yere aşağıdakilerden hangisinin gelmesi uygun olur?

- A. fakat
- B. ancak
- C. gibi






1- Aşağıdaki şekillerden hangisine en çok simetri doğrusunu çizebiliriz?



2- Yukarıda eksileni ve farkı verilmiş çıkarma işleminde çıkan sayı kaçtır?

- A. 572
B. 582
C. 592

3- Geometrik cisimler ile yüzlerinden biri arasında yapılan eşleştirmelerden hangisi yanlıştır?

- A. Küp → 
- B. Kare Prizma → 
- C. Küre → 

4-



Tahterevallinin bir ucunda Semih, diğer ucunda Semra kuvvet uygulamadan sadece ağırlıklarıyla oturduklarında yukarıdaki gibi olmaktadır.

4- Semih 48 kg olduğuna göre, Semra kaç kg olabilir?

- A. 37
B. 48
C. 57



Ayfer kumbarasından yukarıdaki paraları çıkarıyor.

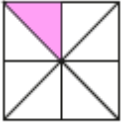
5- Buna göre aşağıdakilerden hangisini alırsa 23 TL parası artar?

- A.  68TL
- B.  48TL
- C.  58 TL



6- Sabah 09:00'da dersleri başlayan Kerem'in 6 saat sonra dersleri bitmektedir. Buna göre Kerem ders bitiş saati aşağıdakilerden hangisidir?

- A. 03:00
- B. 04:00
- C. 15:00



7- Yukarıda şekillerin her biri üstlerinde verilen kesirlerin değerlerini temsil etmektedir. Buna göre hangi şeklin değeri $\frac{5}{8}$ dir.

- A. ■
- B. ★
- C. ●

8- Arda'nın yaşı babasının yaşının $\frac{2}{8}$ inin 3 fazlasıdır. Arda'nın babası 32 yaşında olduğuna göre Arda kaç yaşındadır ?

- A. 13
- B. 12
- C. 11

$$\begin{array}{r} 6 \\ \hline 28 \\ - \\ \hline 4 \end{array}$$

9- Yukarıda verilen bölme işleminde kaçtır?

- A. 168
- B. 170
- C. 172

10- Bir kolide 30 adet yumurta vardır. 29 adet koli taşınırken 37 yumurta kırılıyor. Geriye kaç yumurta kalır?

- A. 623
- B. 733
- C. 833





Bu test 10 sorudan oluşmaktadır.

1- Aşağıdakilerden hangisi tüm canlılar için ortak değildir?

- A. Kendi besinini üretme
- B. Çoğalma
- C. Büyüme

2- Aşağıdakilerden hangisi insan etkisi olmadan kendiliğinden oluşmuştur?



A. Saha



B. Park



C. Peri bacası

3- Aşağıdakilerden hangisinin ses şiddeti en azdır?

- A. Toprakta hareket eden köstebek sesi
- B. Ağlayan çocuk
- C. Nehirde kurbağanın çıkardığı ses



4- Bu görsel için;

- I. Canlı ve cansız varlıklar bir aradadır.
 - II. Doğal çevre unsurları vardır.
 - III. İnsanlar tarafından oluşturulmuştur.
- şeklinde yapılan çıkarımlardan hangileri doğrudur?

- A. I ve II
- B. II ve III
- C. I, II ve III

5- Aşağıdakilerden hangisinin sesi yapay ses kaynağına örnektir?

- A. Gök gürültüsü
- B. Korna sesi
- C. Rüzgar sesi



6- Yukarıdaki resimde Umay hangi noktada sesi daha iyi duyar?

- A. I
- B. II
- C. III

"Güneş ısı ve ışık kaynağıdır. Güneş'ten zararlı ışınlar da yayılır. Bundan dolayı Güneş'e bakarken güneş gözlüğü kullanmalıyız."

7- Buna göre;

- I. Güneş doğal ışık kaynağıdır.
 - II. Güneş zararlı ışık yaymaz.
 - III. Güneş ışık yaymaz.
- hangileri doğrudur?

- A. Yalnız I
- B. I ve II
- C. II ve III

8- Aşağıdakilerden hangisi maddeyi niteleyen özelliklerden biri değildir?

- A. Kırılgan olması
- B. Saydam olması
- C. Kütlelerinin olması



Gözlük camı için;

- I. Kırılmandır.
- II. Saydamdır.
- III. Yüzeyi pürüzlü değildir.

9- Yukarıdaki gözlük camı için verilen temel bilgilerden hangisi veya hangileri doğrudur?

- A. I ve II
- B. II ve III
- C. I, II ve III



Yukarıdaki görselde Erdi'nin duran oyuncak arabaya uyguladığı kuvvetler gösterilmiştir.

10- Erdi arabayı kaç numaralı kuvvetler yönünde iterse ileri doğru hareket ettirir?

- A. 1
- B. 2
- C. 1 ve 3



Bu test 10 sorudan oluşmaktadır.

- vali
- ★ kaymakam
- muhtar

1- Yukarıdaki yöneticilerden hangisi seçimle iş başına gelir?

- A) ● B) ★ C) ■



I



II



III

2- Yukarıdakilerden hangileri doğal güzelliğidir?

- A. I ve II
B. II ve III
C. I , II ve III

3- Aşağıda verilenlerden hangisi evlerde çocukların sebep olabileceği kazaları önlemeye yönelik değildir?

- A. Prize ıslak elle dokunmamak
B. Sıcak ütüye yaklaşmamak
C. Evde oyun oynamamak

I-İhtiyaçlarına göre alışveriş yapar.
II-Taze ve ambalajlı gıda ürünlerini alır.

III-Alışverişten sonra fiş veya fatura alır.

4- Yukarıdakilerden hangileri bilinçli bir tüketicinin özelliklerindedir?

- A. I ve II
B. II ve III
C. I , II ve III

İnsanların ekonomik, sosyal, siyasi ve doğal nedenlerden dolayı yer değiştirmesine denir.

5- Yukarıdaki boşluğa getirilmesi gereken aşağıdakilerden hangisidir?

- A. Göç B. Nüfus C. Meslek

◆ Kararlılığı,

★ Vatan ve millet sevgisi

◆ İnanırcı olması

6- Yukarıdakilerden hangisi veya hangileri Atatürk'ün kişisel özelliklerindedir?

- A. Yalnız ★
B. ◆ ve ◆
C. ★, ◆ ve ◆



7- Cumhuriyet yönetimi ile ilgili olarak aşağıda verilen bilgilerden hangisi yanlıştır?

- A. Cumhuriyet 29 Ekim 1923'te ilan edilmiştir.
- B. Ülkemizde herkes eşittir.
- C. Yöneticiler seçimsiz başa gelir.



9- Yukarıdaki trafik levhasının anlamı nedir?

- A. Yaya geçidi
- B. Yaya giremez
- C. Okul geçidi



Okulda tuvalete girmemeliyiz.



Sık sık ellerimizi yıkamalıyız.



Hasta kişilerle aramızdaki mesafeye dikkat etmeliyiz.

8- Yukarıdaki öğrenci ifadelerinden kaç tanesi doğrudur ?

- A. 1
- B. 2
- C. 3



Ali

Dini bayramlarda evlerimizi bayraklarla süsleriz.



Mert

2 tane milli bayramımız vardır.



Salih

Milli bayramlar birlik ve beraberlik duygusunu artırır.

10- Yukarıdaki öğrencilerden hangisinin doğru bir ifade de bulunmuştur?

- A. Ali
- B. Mert
- C. Salih



Bu test 5 sorudan oluşmaktadır.



1- What colour is the bee?

- A. It is orange and pink.
- B. It is yellow and brown.
- C. It is yellow and black.



2- Göreseli ifade eden seçenek hangisidir?

- A) rainy
- B) windy
- C) cloudy

3-



Ali: Is it a bus?

Adem:

- A) Yes, it is.
- B) No, It is a train
- C) It is here.



4- Yukarıdaki görsel için hangi cümle doğru olur?

- A) He is at school.
- B) He is at museum.
- C) He is at shopping center.



The rabbit is tree.

5- Boşluğa gelmesi gereken kelime nedir?

- A) behind
- B) on
- C) near

Sevgili ÖĞRETMEN ve VELİLERİMİZ;
Deneme Sınavına Teşekkür Mahiyetinde
Sosyal Medya Sayfamızı Beğenirseniz
Çok Mutlu Oluruz.

Aşağıdaki Linklerden Bizlere Ulaşabilirsiniz.

www.ilkokulevim.com

www.instagram.com/ilkokulevim

www.facebook.com/ilkokulevim

www.facebook.com/groups/272489210266407/

t.me/ilkokulevim

CEVAP ANAHTARI

TÜRKÇE	MATEMATİK	FEN BİLİMLERİ	HAYAT BİLGİSİ	İNGİLİZCE
1-B	1-C	1-A	1-C	1-C
2-A	2-B	2-C	2-A	2-B
3-C	3-A	3-A	3-C	3-B
4-B	4-A	4-A	4-C	4-A
5-C	5-C	5-B	5-A	5-A
6-C	6-C	6-A	6-C	
7-A	7-B	7-A	7-C	
8-B	8-C	8-C	8-B	
9-A	9-C	9-C	9-B	
10-C	10-C	10-A	10-C	