






## TABLO OKUMA

Tablo:En sevdiğimiz meyveler

Meyve					
Sayısı	8	2	7	3	9

Kaç kişi çilek sevmektedir?.....

Kaç kişi kiraz sevmektedir?.....

En çok sevilen meyve hangisidir?.....

En az sevilen meyve hangisidir?.....

Meyveleri çok sevilenden az sevilene doğru sıralayalım.

Tablo:Sınıfımızın mevcudu(öğrenci sayısı)

	
	
<p>Her şekil 2 öğrenciyi göstermektedir.</p>	

Sınıfımızda kaç kız öğrenci vardır?.....

Sınıfımızda kaç erkek öğrenci vardır?.....

Sınıfımız toplam kaç kişidir?.....

## Cevap Anahtarı

### Tablo: En Sevdığımız Meyveler

- \* 8 kişi çilek sevmektedir,
- \* 7 kişi kiraz sevmektedir,
- \* En çok sevilen meyve muz.
- \* En az sevilen meyve armut.
- \* Muz - Çilek - Kiraz - Elma - Armut

### Tablo: Sınıfımızın Mevcudu

- \* 8 kız öğrenci vardır,
- \* 10 erkek öğrenci vardır,
- \* 18 kişidir.