






## TABLO OKUMA

Tablo: En sevdiğimiz meyveler

Meyve					
Sayısı	8	2	7	3	9

Kaç kişi çilek sevmektedir? .....

Kaç kişi kiraz sevmektedir? .....

En çok sevilen meyve hangisidir? .....

En az sevilen meyve hangisidir? .....

Meyveleri çok sevilenden az sevilene doğru sıralayalım.

Tablo: Sınıfımızın mevcudu (öğrenci sayısı)

	
	
<p>Her şekil 2 öğrenciyi göstermektedir.</p>	

Sınıfımızda kaç kız öğrenci vardır? .....

Sınıfımızda kaç erkek öğrenci vardır? .....

Sınıfımız toplam kaç kişidir? .....

## Cevap Anahtarı

### Tablo: En Sevdiğimiz Meyveler

- \* 8 kişi çilek sevmektedir,
- \* 7 kişi kiraz sevmektedir,
- \* En çok sevilen meyve muz.
- \* En az sevilen meyve armut.
- \* Muz - Çilek - Kiraz - Elma - Armut

### Tablo: Sınıfımızın Mevcudu

- \* 8 kız öğrenci vardır,
- \* 10 erkek öğrenci vardır,
- \* 18 kişidir.