

2. SINIF

KAZANIM DEĞERLENDİRME SINAVI

TÜRKÇE
MATEMATİK
HAYAT BİLGİSİ
İNGİLİZCE



A B C

1 2 3

www.ilkokulevim.com

TÜRKÇE TESTİ

Yiğit günler sonra ilk defa dışarıya çıkacaktı. Annesine çok heyecanlı olduğunu söyledi. Dışarı çıktığında bisiklet sürecekti ve en sevdiği futbol topuyla oynayacaktı. Tek başına olduğunu ve oynayacak arkadaşının olmadığını düşünüyordu. O anda karşısında en sevdiği arkadaşı Alp'i gördü.

1 -2-3. soruları metne göre cevaplayınız.

1-Yiğit dışarı çıkacağı için nasıl hissediyordu?

- A. Mutlu
- B. Heyecanlı
- C. Tedirgin

2-Yiğit dışarıya çıktığında hangi arkadaşı ile karşılaştı?

- A. Mete
- B. Emin
- C. Alp

3-Aşağıdakilerden hangisi Yiğit'in dışarıda yapmış olduğu aktiviteler arasında değildir?

A.



B.



C.



4-"Özgür" sözcüğü aşağıdaki cümlelerin hangisinde özel ad olarak kullanılmıştır?

- A. Özgür, bugün bize gelecek.
- B. Cumhuriyet özgürce yaşamak demek.
- C. Uçurtmam özgürce gökte uçuyordu.



Evin önünde iki saat bekledik.



Karabaşa yeni mama aldık.



Teyzemi bir aydır görmüyorum.

5-Yukarıdaki cümlelerin hangisinde kesme işareti (') kullanılmalıdır?

A.



B.



C.





TÜRKÇE TESTİ

6-Aşağıdaki cümlelerin hangisinde “kim, kiminle, ne zaman” sorularının yanıtı vardır?

- A. Neşe, Sevinç ile üç yıl önce arkadaş oldu.
- B. Seval, evde pasta yapmayı çok seviyor.
- C. Uğur ile Fırat markete gitti.



7-Yukarıdaki görsellerden hangisi canlı bir varlığı temsil etmektedir?

- A. elbise
- B. bilgisayar
- C. kuş



Dayımlar bu akşam

8-Necla, yukarıda söylediği cümleyi nasıl tamamlarsa “olumsuz” bir cümle kurmuş olur?

- A. bize gelecekler.
- B. yola çıktılar.
- C. bahçede oturmamışlar.

- I. Elini yüzünü yıkadıktan sonra kahvaltı masasına oturdu.
- II. Arkadaşlarıyla oyun oynamak için dışarı çıktı.
- III. Dişini fırçaladı.
- IV. Ahmet saat 8’de uyandı.

9-Yukarıdaki cümleleri olayların oluş sırasına göre sıraladığımızda aşağıdaki hangi şık doğru olur?

- A. I - II - III - IV
- B. IV - I - III - II
- C. IV - II - I - III

10-“Bu yıl derslerimde çok başarılı olduğum için öğretmenim ve ailem çok mutluydu.” cümlesi kaç sözcükten oluşmaktadır?

- A. 12
- B. 13
- C. 11



MATEMATİK TESTİ



1-Yukarıdaki örüntüde “?” bırakılan yere aşağıdakilerden hangisi gelirse örüntü doğru yapılmış olur?


- A. ▲ B. ★ C. ♥

2-Aşağıdaki dijital saatlerden hangisi akşam saat sekiz buçuğu göstermektedir?

- A. 22:30 B. 23:30
C. 20 : 30

3-4 deste kırmızı kalemi olan bir kırtasiyecinin bu kalemlerden 25 tanesini satması sonucunda kaç kalemi kalır?

- A.15
B.20
C.25

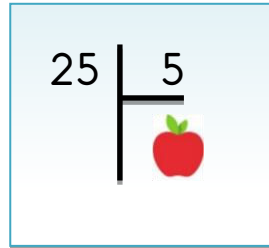


4-Manavdan 3 kilogram çilek, 2 kilogram kivi alan Hande kaç lira ödemiştir?

- A. 28 B.27 C.11

5-Tuğçe 5 tane 3'ü yan yana yazarak toplamıştır. Tuğçe'nin yaptığı toplama işleminin çarpma işlemi olarak gösterilişi aşağıdakilerden hangisidir?

- A. 3×3
B. 5×5
C. 5×3



6-Yukarıdaki bölme işlemde 🍎 ile gösterilen yerine kaç yazılmalıdır?

- A.4 B.6 C.5



MATEMATİK TESTİ

- I. İki yarım bir bütün eder,
- II. Sekiz çeyrek iki bütün eder.
- III. 3 yarım iki bütün eder.
- IV. Bir yarım iki çeyrek elde edilir.

7-Yukarıdaki bilgilerden kaç tanesi doğrudur?

- A.3 B.1 C.4



Emel

Emine

Emine'nin boyu 1 m 41 cm'dir. Emel'in boyu ise Emine'nin boyundan 11 cm kısadır.

8-Yukarıdaki bilgilerden hareketle Emel'in boyu aşağıdakilerden hangisidir?

- A. 1 m 52 cm B. 1 m 30 cm
C. 1 m 41 cm



İsmail, köye dedesini ziyarette gittiğinde kümeste 4 tavuk, 1 horoz ve 3 tane de civciv olduğunu gördü.

9-Bu kümesteki hayvanların ayak sayıları toplamı kaçtır?

- A.18
B.16
C.11



Marziye ile Mahmut kar topu oynamaktadır.

10- İki arkadaş bu oyunu aşağıdaki ayların hangisinde oynamış olabilirler?

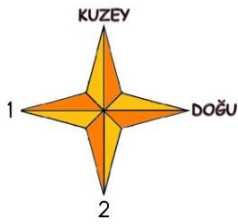
- A. Temmuz
B. Ağustos
C. Aralık



HAYAT BİLGİSİ TESTİ

1-Aşağıdaki doğal afetlerin hangisini önlenmede ağaçlandırmanın önemi yoktur?

- A.Sel
- B.Deprem
- C.Erozyon



2-Görselde 1 ve 2 numaralı alanlara yönleri yazarsak aşağıdakilerden hangisi doğru olur?

- | | |
|---------|---------|
| 1 | 2 |
| A.Batı | - Güney |
| B.Güney | - Batı |
| C. Batı | - Kuzey |

Atıkların belirli işlemlerden geçirilerek yeniden üretime kazandırılmasına denir.

3-Yukardaki cümlede boş bırakılan yere aşağıdakilerin hangisi getirilmelidir?

- A. İsrar
- B. Tüketim
- C. Geri dönüşüm



Ramazan Bayramı



Cumhuriyet Bayramı



Kurban Bayramı

4-Yukarıda verilenden hangileri dini bayramımızdır?

A.

B.

C.

Murat, annesine akşam iftarda tatlı olarak ne yiyeceklerini sordu. Annesi ise kültürümüzde olmayan bir tatlı yiyeceğiz dedi.

5- Yukarıdaki bilgiden hareketle Murat'ın annesi iftara hangi tatlıyı yapmıştır.

A.



B.



C.



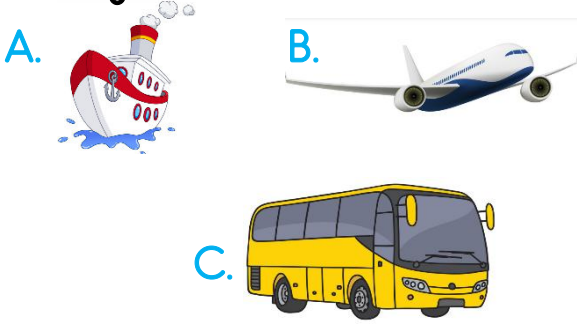


HAYAT BİLGİSİ TESTİ

6-İstiklal Marşımızın şairi kimdir?

- A. Mustafa Kemal Atatürk
- B. Mehmet Akif Ersoy
- C. Osman Zeki Üngör

7-Aşağıdaki verilenlerden hangisi deniz yolu taşıtıdır?



8-Aşağıdaki ifadelerden hangisi yanlıştır?

- A.Otobüste yaşlılara ve hamilelere yer vermeliyiz.
- B.Otobüse binerken sıra olmamıza gerek yoktur.
- C.Engellilere, otobüse inip binerken yardımcı olmalıyız.

9-Hastaneye giden Bilal'e doktoru ilaç yazmıştır. Bilal bu ilaçları nereden almalıdır?

- A.Market
- B.Fırın
- C.Eczane



10-Yukarıda verilen nesnelere hangi mevsimi yansıtmaktadır?

- A.Yaz
- B. Sonbahar
- C.Kış



/ilkokulevim



/ilkokulevim



/ilkokulevim



/ilkokulevim

İNGİLİZCE TESTİ






Lemon is

1- Yukarıdaki cümlede boşluğa hangi kelime gelmelidir?

- A. green
- B. yellow
- C. red

2- Hayvan ve isim eşleştirmelerinden hangisi doğrudur?

- A.  cow
- B.  monkey
- C.  turtle



The cat has four

3- Yukarıdaki cümlede boşluğa ne gelmelidir?

- A. eyes
- B. ears
- C. legs



There are two

4- Yukarıdaki boşluğa hangi kelime gelmelidir?

- A. birds
- B. parrots
- C. fishes



5- Resimde gösterilen vücudun bölümü aşağıdakilerden hangisidir?

- A. foot
- B. knee
- C. hand



/ilkokulevim



/ilkokulevim



/ilkokulevim



/ilkokulevim

Sevgili ÖĞRETMEN ve VELİLERİMİZ;
Deneme Sınavına Teşekkür Mahiyetinde
Sosyal Medya Sayfamızı Beğenirseniz
Çok Mutlu Oluruz.

Aşağıdaki Linklerden Bizlere Ulaşabilirsiniz.

www.ilkokulevim.com

www.instagram.com/ilkokulevim

www.facebook.com/ilkokulevim

www.facebook.com/groups/272489210266407/

t.me/ilkokulevim

15/05/2020 KDS CEVAP ANAHTARI

TÜRKÇE	MATEMATİK	HAYAT BİLGİSİ	İNGİLİZCE
1-B	1-B	1-B	1-B
2-C	2-C	2-A	2-C
3-C	3-A	3-C	3-C
4-A	4-B	4-B	4-A
5-B	5-C	5-C	5-C
6-A	6-C	6-B	
7-C	7-A	7-A	
8-C	8-B	8-B	
9-B	9-B	9-C	
10-A	10-C	10-A	