




HAYAT BİLGİSİ

DOĞADA HAYAT



Adı Soyadı : _____

1. Aşağıdaki ürünlerden hangisi bitkilerden elde edilmektedir?




2.



İnsanlar yukarıdaki verilen hayvanların kaç tanesinden beslenme yönüyle yararlanmaktadır?

A) 2 B) 3 C) 4

3. Aşağıdakilerden hangisi balkonumuzda yetiştirebileceğimiz bir bitki değildir?



Beslenme ●



pamuk

Giyinme ●



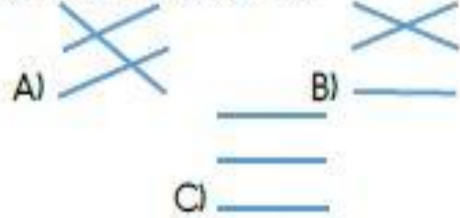
ağaç

Barınma ●



armut

4. Yukarıda verilen ihtiyaçlar ile bu ihtiyacımızı karşılayan bitkilerin doğru bir şekilde eşleştirilmiş şekli aşağıdakilerden hangisidir?



5. "Geniş yapraklı bitkiler iğne yapraklı bitkilerden daha fazla su tüketirler."

Aşağıdaki bitkilerden hangisi diğerlerinden daha az suya ihtiyaç duyar?



A) Çam



B) Manolya



C) Çınar

Arkadaşlar, bu bir ilkbahar meyvesidir. Zengin vitaminleriyle bizi hastalıklardan korur. Aynı zamanda reçeli de yapılır. Çok soğuğu sevmez. Ağaçlarda değil yerde yetişir. Hatta balkonunuzdaki saksıda bile meyve verir. Kırmızı renkli ve oldukça lezzetlidir.



6. Kadir'in arkadaşlarına anlattığı meyve aşağıdakilerden hangisidir?



7. "Karıncanın yuvalarının toprak yığılı olan kısmı gösterir. Yukarıda verilen cümlede boş bırakılan yere aşağıdakilerden hangisi getirilmelidir?

- A) kuzeyi B) güneyi
C) batıyı

8. "Ayşe, Güneş'in doğduğu yöne doğru sağ kolunu uzattı." Ayşe'nin sırtı aşağıdaki yönlerden hangisini gösterir?

- A) Güney B) Kuzey
C) Batı

I. En güvenilir yön bulma yöntemi ağaç yosunlarıdır.

II. Ülkemizde minare kapıları güneyi gösterir.

III. Kutup Yıldızı'nın diğer adı Demirkazık'tır.

9. Yukarıda verilen bilgilerden hangileri doğrudur?

- A) I - III
B) I - II
C) II - III

10.



Yukarıda verilen görselde yapılan bilinçsiz davranışlar aşağıdakilerden hangisine sebep olabilir?

- A) Çevre kirliliği oluşabilir.
B) Bazı hayvanların nesli tükenebilir.
C) Ormanlık alanlar hızla yok olur.

11. Aşağıda verilen hayvanlardan hangisinin neslinin tükenme tehlikesi vardır?



12.



Yukarıdaki durumdan öncelikli olarak etkilenen canlı aşağıdakilerden hangisidir?

- A)  B) 
C) 

13. Aşağıdaki sivil toplum örgütlerinden hangisi çevre ile ilgili faaliyetler yürütmektedir?

- A) 
B) 
C) 

14. Aşağıdakilerden hangisi geri dönüşümün faydalarından biridir?

- A) İnsanlar doğal afetlerin zararlarından korunmuş olur.
B) Nesli tükenen hayvanlar koruma altına alınmış olur.
C) Yer altı ve yer üstündeki doğal kaynaklar korunmuş olur.

15. Sıvı atıkların çevreye zarar vermemesi için aşağıdakilerden hangisinin yapılması gerekir?

- A) Sıvı atıklar toprağa gömülmelidir.
B) Sıvı atıklar denizin derinliklerine bırakılmalıdır.
C) Sıvı atıklar antılarak çevreye bırakılmalıdır.

16. Aşağıdakilerden hangisi doğada daha çabuk yok olur?

- A)  B) 
C) 

17. Aşağıdakilerden hangisi toprak kirliliğinin sonuçlarından biri değildir?

- A) Toprağın verimliliği azalır.
B) Kutup ayılarının nesli tükenebilir.
C) Toprakta yaşayan canlıların hayatı tehlikeye girer.

18.

Elma	Ders Kitabı
Pet Şişe	Plastik Sürahi
Kola Şişesi	Eskimiş gömlek
Cam Bardak	Paslanmış Çivi
Karpuz Kabuğu	Yırtılmış Halı

Yukarıda verilenlerden kaç tanesi geri dönüştürülebilir?

- A) 5 B) 6 C) 7

- Testin Cevap Anahtarı İin Tıklayınız

1-C 2-B 3-B 4-A 5-A 6-C 7-A 8-A 9-C 10-B

11-B 12-C 13-A 14-C 15-C 16-A 17-B 18-B