



SOKAKTA

Ahmet , Mert ve Emre okuldan evlerine döndüler. Ahmetlerin evlerinde buluştular.

Önce o gün gördükleri dersleri tekrar ettiler.

Daha sonra da ödevlerini yaptılar. Mert ve Emre çantalarını evlerine bırakıp sokağa çıktılar. Ahmet de onlara katıldı. Artık oyun zamanıydı. Mert evden topunu da getirmişti. Onlar oyuna başlamışken Emre'nin annesi seslendi:

-Çocuklar, sokakta top oynamayın. Arada sırada da olsa buradan araçlar geçiyor. Biraz yürüseniz hemen ilerideki parka varırsınız. Bizim de aklımız sizde kalmaz.

Emre annesine seslendi:

-Tamam anne , gidiyoruz. Saat kaçta eve dönelim?

-Saat beşte evde ol çocuğum. Bizi meraklandırma.

(İlk 3 soruyu metne göre cevaplayınız.)

S.1) Çocuklar buluştuktan sonra ilk olarak ne yapmışlar?

- A) Derslerini tekrar etmişler.
- B) Top oynamışlar.
- C) Parka gitmişler.

S.2) Evden topunu getiren kimdir?

- A) Ahmet
- B) Emre
- C) Mert

S.3) Emre'nin annesi "Aklımız sizde kalmaz." diyerek ne demek istemiştir?

- A) Sizin için seviniriz.
- B) Sizin için endişelenmeyiz.
- C) Aklımızı size veririz.

S.4) "Sınav sonuçlarını dört gözle bekliyorum sınavdan pekiyi alacağımı tahmin ediyorum."

Yukarıdaki cümlede boş bırakılan yere aşağıdaki kelimelerden hangisi getirilmelidir?

- A) fakat
- B) eğer
- C) çünkü

S.5) "Gözlerini ağaca doğru dikmiş , dikkatlice bakıyordu."

Aşağıdaki sorulardan hangisinin cevabı yukarıdaki cümlede yoktur?

- A) Nereye?
- B) Nasıl?
- C) Ne zaman?

S.6) Erdem evine gitmek istemektedir.Ama yolu bulamamaktadır.Yolu aşağıdaki oklardan bulabilecektir.Ancak üzerinde eş anlamlı kelimelerin olduğu ok , onu evine götürecektir.

Erdem hangi oku takip etmelidir?

- A) elbise-giysi
- B) doktor-hemşire
- C) kitap-defter

S.7) Aşağıdaki kelimelerden hangisi sözlük sıralamasında en baştedir?

- A) karpuz
- B) karınca
- C) karne

S.8) Aşağıdaki cümlelerin hangisinde " düş " kelimesi diğerlerinden farklı bir anlamda kullanılmıştır?

- A) Düşmemek için korkuluklara tutundum.
- B) Annem düşünde beni görmüş.
- C) Perdeyi takarken merdivenden düştü.

S.9) "Eyvah () " dediğini duydum ve annemin yanına koşarak gittim() "Bir şey olmadı değil mi ()

Yukarıda parantez içine sırasıyla hangi noktalama işaretleri gelmelidir?

- A) (,) (.) (!)
- B) (!) (.) (?)
- C) (!) (.) (.)

S.10) Aşağıdakilerden hangisi yanlış yazılmıştır?

- A) kibrit
- B) apartman
- C) gaste

S.11) Bahar geldi , çıksın uçurtmalar.
Evler , minareler üstüne.
Kimini götürsün rüzgar ,
Kimi takılsın telgraf direklerine.

Yukarıdaki dördlüğün konusu aşağıdakilerden hangisidir?

- A) uçurtmalar
- B) çocuklar
- C) rüzgar

S.12) " alkış " sözcüğündeki harflerin özellikleri hangi seçenekte doğru verilmiştir?

- A) ünlü – ünsüz – ünlü – ünlü – ünsüz
B) ünsüz – ünlü – ünsüz – ünlü – ünsüz
C) ünlü – ünsüz – ünsüz – ünlü – ünsüz

S.13) Aşağıdaki cümlelerin hangisinde bir yazım yanlışı vardır?

- A) Mehmet 12 mart 1995'te doğmuş.
B) Nemrut Dağı'nda kayak yaptık.
C) Beni anlamakta zorlanıyor musun?

S.14) Satır sonuna sığmayan kelime hangisinde **yanlış** yerden ayrılmıştır?


- A)okulu-
muzda
B)o-
yuncak
C).....yetenek-
li

S.15) Aşağıdaki cümlelerin hangisinde zıt anlamlı sözcükler bir arada **verilmemiştir**?

- A) Anadolu'nun bitmez tükenmez su kaynakları vardır.
B) İyi insanlar kötü insanlara göre daha mutludur.
C) Merdivenleri inip çıkmaktan yorgun düşmüştü.

***** MATEMATİK *****

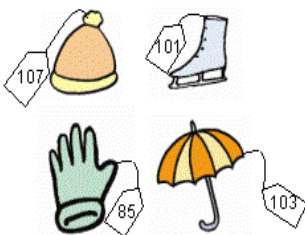
S.16)



Yukarıda yapılan yarış "Sekiz yüz sekiz" numaralı oyuncu kazandığına göre, yarışı kazanan oyuncunun adı nedir?

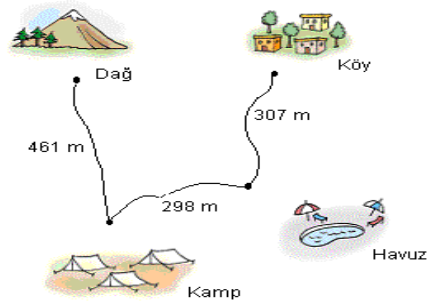
- A) Öykü
B) Cenk
C) Başak

S.17)



Derya yukarıdaki ürünlerin fiyatlarını en yakın onluğa yuvarlayarak fiyatı 110 birim olan ürünü alıyor.
Buna göre, Derya hangi ürünü almıştır?

- A) Paten
B) Şemsiye
C) Şapka



(Aşağıdaki iki soruyu yukarıdaki şekle göre cevaplayınız.)

S.18) Kamptan yola çıkarak köye giden bir kişi toplam kaç metre yol almıştır?

- A) 595 metre
B) 605 metre
C) 670 metre

S.19) Kamptan dağa gitmek için yola çıkan bir kişi, 20 metre yol aldıktan sonra havuza doğru gittiğini fark etmiş ve dönüp dağa gitmiştir.

Bu kişi toplam kaç metre yol almıştır?

- A) 461 metre
B) 481 metre
C) 501 metre

S.20) Tuana 18 yaşında , babası Tuana'dan 25 yaş , annesi 19 yaş büyüktür. Buna göre bu aile bireylerinin yaşları toplamı kaçtır?

- A) 62
B) 80
C) 98

S.21)

$$\begin{array}{r} 651 \\ - \triangle \star \blacksquare \\ \hline 104 \end{array}$$

Yukarıdaki çıkarma işleminde verilmeyen terimdeki $\triangle + \star + \blacksquare$ işleminin sonucu kaçtır?

- A) 16
B) 17
C) 18

S.22) " 40 " sayısına yuvarlanabilecek en küçük sayının 4 katı kaçtır?

- A) 140
B) 156
C) 160

S.23) Onur 'a , bayramda babası 350 kr. , annesi ise babasından 47 kr. daha az harçlık verdi. Onur bayramda ne kadar harçlık almıştır?

- A) 553
B) 653
C) 663

S.24) Dört kardeşin yaşları toplamı 62'dir. 3 yıl önceki yaşları toplamı kaçtır?

- A) 59 B) 50 C) 48

S.25) " 876 " sayısının yüzler basamağındaki rakamın 4 katının yarısı kaçtır?

- A) 32 B) 24 C) 16


S.26) " 2 , 7 , 4 " rakamları bir kez kullanılarak oluşturulan üç basamaklı en büyük sayıyı onluğa yuvarlarsak hangi sayıyı buluruz?

- A) 740 B) 750 C) 470

S.27) Aşağıdaki geometrik şekillerden hangisinin en az yüzü vardır ?

- A) Silindir B) Koni C) Küre

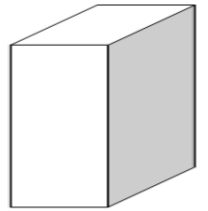
S.28) Aşağıdakilerden hangisi yandaki saatin okunuşu **olamaz**?



- A) On biri çeyrek geçiyor.
B) On ikiye çeyrek var.
C) On bir kırk beş.

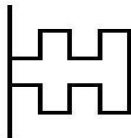
S.29) Dikdörtgenler prizmasının kaç yüzü vardır?

- A) 4
B) 6
C) 7



Dikdörtgen prizma

S.30)



Yukarıdaki şeklin simetriği aşağıdakilerden hangisidir?

- A) B) C)

S.31) Aşağıdakilerden hangisi doğal bir çevredir?

- A) köy B) havuz C) okyanus

S.32) Aşağıdakilerden hangisi tüm canlılarda olan bir özellik **değildir**?

- A) Boşaltım B) Solunum C) Düşünme

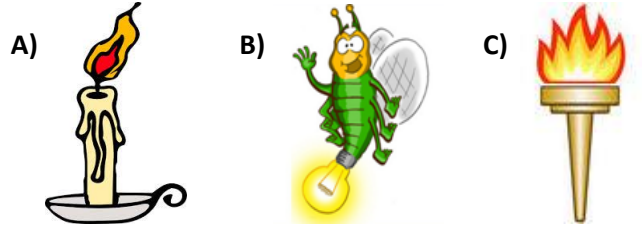
S.33) Aşağıdakilerden hangisi çevre kirliliğine yol **açmaz**?

- A) Doğaya ağaç dikmek.
B) Fabrika dumanlarını gökyüzüne salmak.
C) Pil, plastik gibi atıkları çöpe atmak.

S.34) Aşağıdakilerden hangisi doğal çevreye örnek olarak verilebilir?

- A) Peribacaları
B) Galata Kulesi
C) Anıtkabir

S.35) Aşağıdaki ışık kaynaklarından hangisi **farklıdır**?



- S.36)** I. Piller düşük enerji üretir.
II. Batarya, aküye göre fazla elektrik üretir.
III. Akü de bir çeşit bataryadır.
IV. Buzdolabı akü ile çalışır.

Yukarıda verilen bilgilerden hangileri **doğrudur**?

- A) I ve III B) III ve IV C) I ve II

S.37) Aşağıdakilerden hangisi elektrik kaynağı **değildir**?

- A) pil B) batarya C) ampul


S.38) Aşağıdakilerden hangisi **mutfakta kullanılan** elektrikli araç gereçlerdendir?



A)



B)



C)

S.39) Aşağıdakilerden hangisi şehir elektriği ile çalışır?

- A) Hesap makinesi
- B) Duvar saati
- C) Bilgisayar

S.40) Aşağıdakilerden hangisi , diğerlerinden farklı bir alanda kullanılır?

- A) çamaşır makinesi
- B) matkap
- C) bulaşık makinesi

***** HAYAT BİLGİSİ *****

S.41) 3/D sınıfı , okulu ve bahçesini temiz tutmak için kampanya başlatmışlardır.**Aşağıdakilerden hangisi bu pankartlardan biri olabilir?**

- A) Koridorlarda koşmayınız.
- B) Merdivenlerin sağından inip çıkınız.
- C) Çöplerimizi çöp kutusuna atalım.

S.42) Aşağıdakilerden hangisi su kaynaklarını kullanırken yapmamız gereken davranışlardan biridir?

- A) Evdeki muslukları belli aralıklarla kontrol etmeli, arızalı olanları tamir etmeliyiz.
- B) Çamaşır ve bulaşık makinelerimizi tam doldurmadan çalıştırmalıyız.
- C) Dişlerimizi fırçalarken ellerimizi yıkarken veya tıraş olurken muslukları açık bırakmalıyız.

S.43) Aşağıdakilerden hangisi , yurdumuzdaki tarihi yerlerden **değildir**?

- A) Kapalıçarşı / İSTANBUL
- B) Düden Şelalesi / ANTALYA
- C) Selimiye Camisi / EDİRNE

S.44) Can, sınıfın en uzun boylu öğrencisiydi. Ailesi ve arkadaşları gibi kendisine en uygun sporun basketbol olduğunu düşünüyordu. Can'ın en büyük hedefi ileride ünlü bir basketbolcu olmaktır.

Can, hedefine ulaşmak için aşağıdakilerden hangisini yapmalıdır?

- A) Derslerini aksatmadan, planlı bir şekilde antrenman yapmalıdır.
- B) Ünlü basketbolcuların resimlerini odasının duvarına asmalıdır.
- C) Okulu bırakmalı, bir basketbol kursuna katılıp çalışmalar yapmalıdır.

S.45) Hande, harçlıklarından bir miktar para biriktirir. Satın almak istediği pek çok şey vardır.

Hande'nin bu isteklerinde öncelikle hangisini alması doğru olur?

- A) Vitrinde gördüğü ışıklı spor ayakkabıları
- B) Bitmek üzere olan sulu boyasının yerine yeni bir sulu boyayı
- C) Arkadaşında görüp beğendiği renkli kalemleri

S.46) Aşağıdaki yerleşim birimlerinden hangisini **vali** yönetir?

- A) Hatay ili
- B) Şahinbey ilçesi
- C) Meydan Köyü

S.47) Atatürk'ün yurdumuzu düşmanlardan kurtarmak için yaptığı çalışmalar , onun hangi kişilik özelliğini gösterir?

- A) Çocukları sevmesini
- B) Alçakgönüllü olmasını
- C) Vatan ve millet sevgisini

S.48) Kaykay kullanmak isteyen Ali'nin aşağıdakilerden hangisine ihtiyacı **yoktur**?

- A) bileklik
- B) atkı
- C) kask

S.49) Aşağıdakilerden hangisi dedemizin oynadığı bir oyuncak olabilir?

- A) Robot
- B) Topaç
- C) Lego

S.50) Bir yeri tarif etmek veya aradığımız yeri kolay bulabilmek için hangisinden yararlanabiliriz?

- A) Kroki
- B) Takvim
- C) Saat

GENEL DEĞERLENDİRME SINAVI-3
CEVAP ANAHTARI

- | | |
|-------|-------|
| 1) A | 26) A |
| 2) C | 27) C |
| 3) B | 28) A |
| 4) C | 29) B |
| 5) C | 30) A |
| 6) A | 31) C |
| 7) B | 32) C |
| 8) B | 33) A |
| 9) B | 34) A |
| 10) C | 35) B |
| 11) A | 36) A |
| 12) C | 37) C |
| 13) A | 38) B |
| 14) B | 39) C |
| 15) A | 40) B |
| 16) A | 41) C |
| 17) C | 42) A |
| 18) B | 43) B |
| 19) C | 44) A |
| 20) C | 45) B |
| 21) A | 46) A |
| 22) B | 47) C |
| 23) B | 48) B |
| 24) B | 49) B |
| 25) C | 50) A |