

# TÜRKÇE TESTİ



NOT: Bu test  
15 sorudur.

1) Aşağıdaki kelimelerden hangisi alfabetik sıraya göre en sondadır?

- A) Turuncu B) Turist C) Tutumlu

2) Bu cümlelerden hangisinde "topluluk adı" yoktur?

- A) Ağaçlar çiçek açmıştı.  
B) Bizim takım kazandı.  
C) Yarın ormanda gezeceğiz.



3) Ağaçta karışık verilmiş kelimeler ile anlamlı ve kurallı bir cümle oluşturursak sıralama nasıl olmalıdır?

- A) 3-1-2-5-6-4  
B) 2-5-6-1-4-3  
C) 3-2-5-1-4-6



4) Aşağıdaki cümlelerin hangisinde hayal ürünü unsur yoktur?

- A) Vazodaki çiçekler soldu.  
B) Ağaçtan dondurma topladık.  
C) Kedi bana ne yapacağını sordu.

## NASRETTİN HOCA VE EŞEĞİ

Güzel bir yaz günü hoca eşeğini yanına alarak kasabaya turşu satmaya gitmiş. Turşu var! der demez eşek anırmaya başlamış.

Nasrettin Hoca ne zaman Turşu var! demeye kalksa eşek anıyor ve Hoca'nın sesinin duyulmasını engelliyormuş. Nasrettin Hoca sonunda dayanamayıp eşeğine:

— Bana bak Karakaçan anırıp durma. Turşuyu sen mi satacaksın ben mi? demiş.

(Alıntı)

5) Aşağıdaki sorulardan hangisinin bu metinde cevabı yoktur?

- A) Nasreddin Hoca ne satıyormuş?  
B) Hoca'nın eşeğinin adı neymiş?  
C) Hoca hangi kasabada satış yapıyormuş?



6) Verilen cümlelerden hangisinin sonuna farklı bir noktalama işareti konmalıdır?

- A) Buraya geleceğini ne zaman söyledi
- B) Irmağın kıyısında oturup dinlendik
- C) Bana neden kızdığını bilmiyorum

sarmısak	yanlız
toprak	herkes
otobüs	tiren

7) Yukarıdaki kelimelerden kaç tanesinin yazımı doğrudur?

- A) iki
- B) dört
- C) üç

8) Aşağıdaki cümlelerin hangisinde **zıt-anlamli** kelimeler bir arada kullanılmıştır?

- A) Tavşan kaplumbağadan daha hızlıydı.
- B) Kaplumbağa gece gündüz çalıştı.
- C) Bu soğukta çay içmek iyi geldi.

9) Aşağıdaki "eş anlamlı" eşleştirmelerinden hangisinde **yanlışlık** vardır?

- A) uzak - ırak
- B) üretici - tutumlu
- C) misafir - konuk

ilkokulodev.com

23 Nisan Ulusal Egemenlik ve Çocuk Bayramı için okulumuza dünyanın pek çok yerinden çocuklar geldi. Saçları, gözleri, renkleri belki bizden farklı ama hepimiz oyun oynamaya bayılıyor. Çünkü hangi ülkede ya da dünyanın neresinde olursan ol eğer çocuksan hayat oyunla güzel. Gelen arkadaşlarımıza biz mendil kapmacayı, körebeyi, saklambacı, yakartopu öğrettik. Birlikte çok eğlendik. Japonya'dan gelen arkadaşımız bize "fener oyunu"nu öğretti. Bu oyunda herkes daire olur ve oturur. Bir oyuncu ellerini birbirine yaklaştırır, "Büyük fener!" der, yanındaki oyuncunun elleri birbirinden uzak "Küçük fener!" der. Yani söylenenle el işareti zıt olmalı. Ne kadar hızlı oynanırsa o kadar zevkli olur. Şaşırın oyuncu oyundan çıkar. Sona kalan oyuncu, oyunu kazanır. "Fener oyunu" oynarken çok eğlendik. Siz de denemeye ne dersiniz?



(10, 11 ve 12. soruları metne göre cevaplayınız.)

10) Dünyanın çeşitli ülkelerinden çocukların ülkemize gelmesinin sebebi nedir?

- A) Oyunları birbirlerine öğretmek için
- B) Birlikte oyun oynamak için
- C) 23 Nisan Ulusal Egemenlik ve Çocuk Bayramı için



11) Aşağıdaki oyunlardan hangisi ülkemizdeki çocukların diğer ülke çocuklarına öğrettiği oyunlardan **değildir**?

- A) Mendil kapmaca
- B) İstop
- C) Yakartop

12) Japonya'dan gelen çocuk, ülkemiz çocuklarına hangi oyunu öğretmiştir?

- A) ip atlama
- B) şaşkın ördek
- C) fener oyunu



13) *Sarp, genellikle işlerini çok hızlı ve aceleyle yapar, acele edince de şaşırır ve işini bitiremez.*

Buna göre babası Sarp'a hangi atasözünü söyleyebilir?

- A) Akıl yaşta değil baştadır.
- B) Acele işe şeytan karışır.
- C) Erken kalkan yol alır.



14) Aşağıdaki cümlelerin hangisinde "kaz" kelimesi diğerlerinden farklı bir anlamda kullanılmıştır?

- A) Dedemin kazları beni kovaladı.
- B) Bahçeyi kürek ile kazdık.
- C) Çukuru kazınca su fişkırdı.

ilkokulodev.com

15) "köpeğim karabaşı istanbuldan almıştık."

Verilen cümlede yazım yanlışları vardır. Bu cümlenin doğru yazılmış hali hangi şıktadır?

- A) köpeğim Karabaş'ı istanbul'dan almıştık.
- B) Köpeğim Karabaş'ı İstanbul'dan almıştık.
- C) Köpeğim karabaş'ı istanbuldan Almıştık.

# MATEMATİK TESTİ



NOT: Bu test  
15 sorudur.

- 1) bölünen  $\rightarrow$  127      bölen  $\rightarrow$  9

Verilen bilgilere göre "kalan + bölüm" kaçtır?

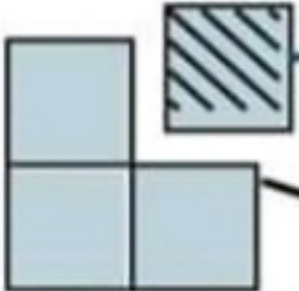
- A) 15      B) 14      C) 16

- 2) Bir çiftlikte **ineklerin ayak sayılarının toplamı** 96'dır.

Keçilerin sayısı da inek sayısından 7 fazla olduğuna göre çiftlikteki toplam hayvan sayısı kaçtır?



- A) 31  
B) 44  
C) 55

- 3)  Satılan kısım  
Kalan kısım

Bakkal elindeki nohutun dörtte birini satmış, geriye 33 kg nohut kalmıştır. Öyleyse satılan nohut kaç kilogramdır?

- A) 10 kg  
B) 11 kg  
C) 12 kg

- 4) Aşağıdakilerden hangisi "birim kesir"dir?

- A) Yedi bölü sekiz  
B) Dokuzda bir  
C) Üç bölü on

- 5)



3 ₺ 25 kr

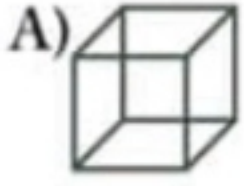
Resimdeki cipsten 3 paket aldım ve bakkala 10 ₺ verdim. Bana vermesi gereken para üstü ne kadardır?

- A) 1 ₺      B) 75 kr      C) 25 kr

- 6) Kâğıt paralar (banknotlar) ile ilgili verilen bilgilerden hangisi **doğrudur**?

- A) 6 tane banknot çeşidi vardır.  
B) En küçük banknot 1 TL'dir.  
C) En büyük banknot 100 TL'dir.

7) Aşağıdaki geometrik cisimlerden hangisinin yüz sayısı diğerlerinden farklıdır?



Üçgen prizmanın 9 tane ayrıtı vardır.

D

Y

Kürenin 3 tane köşesi vardır.

Silindirin 3 tane yüzü vardır.

D

Y

D

Y

$6 \times 4$

$38 \div 2$

$10 \times 3$

$44 \div 4$

8) Verilen bilgilerin doğruluğu ya da yanlışlığına bakılarak en son hangi sonuca ulaşılmalıdır?

- A) 19      B) 30      C) 24

9) Ali kitabından, 10 dakikada 8 sayfa okuyabildiğini söylüyor. Buna göre Ali 1 saatte toplam kaç sayfa okumuş olur?

- A) 80 sayfa  
B) 60 sayfa  
C) 48 sayfa

ilkokulodev.com



10) Trenimiz Kars'tan 10.40'ta hareket etti. Erzincan'a geldiğimizde saat 17.15'ti. Bu yolculuk ne kadar sürmüştür?

- A) 7 saat 15 dakika  
B) 6 saat 35 dakika  
C) 5 saat 50 dakika

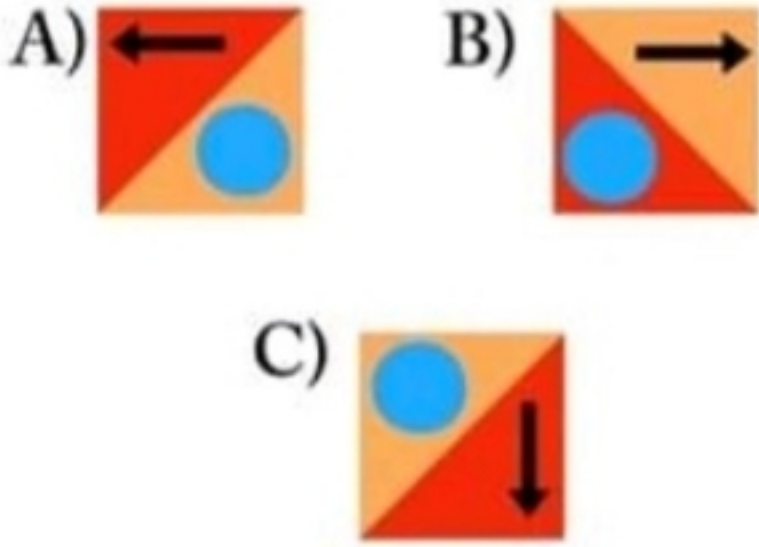


11) Yukarıdaki para ile bakkala gittim. Tanesi 8 TL olan yoğurttan 2 tane ve tanesi 1 TL 50 kr olan ekmekten 3 tane aldım. Bunların hepsi toplam kaç TL etmektedir?

- A) 20 TL 50 kr  
B) 29 TL 50 kr  
C) 16 TL 75 kr



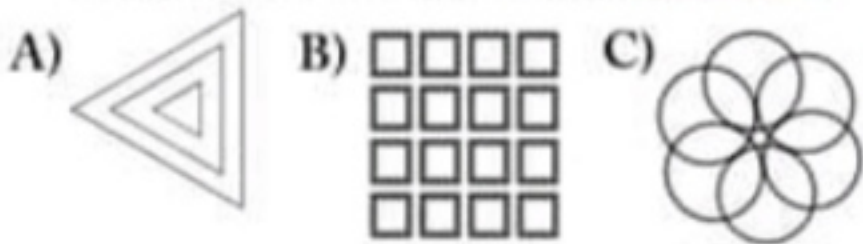
12) Yukarıdaki şekil saat yönünde üç kez döndürülürse aşağıdakilerden hangisi gibi olacaktır?



ilkokulodev.com



13) Murat, cetvel kullanarak geometrik şekiller çizecektir. Aşağıdakilerden hangisini bu cetvel yardımıyla çizemez?

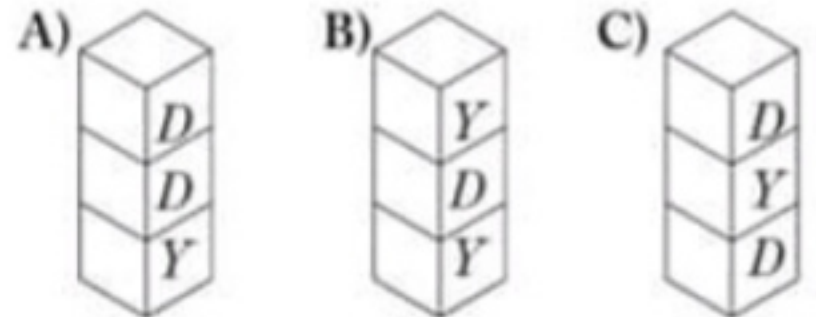


14) Yukarıdaki geometrik cisimlerin köşe sayılarının toplamı kaçtır?

- A) 8  
B) 14  
C) 18

(...) Noktanın boyutu yoktur.  
(...) Tebeşirin tahtaya bıraktığı iz noktadır.  
(...) Nokta isimlendirilirken küçük harf kullanılır.

15) Nokta ile ilgili bu ifadelerin doğru-yanlış sıralaması hangi seçenekteki gibi olmalıdır?





1) Işık kaynakları ile ilgili verilen bilgilerden hangisi **yanlıştır**?

- A) El feneri yapay ışık kaynağıdır.  
B) Yıldız doğal ışık kaynağıdır.  
C) Ay yapay ışık kaynağıdır.



ilkokulodev.com

2) Öğretmenin sesini **en iyi işiten** ile **en az işiten** öğrenciler sırasıyla hangileridir?

- A) Oğuz, Ada  
B) Yusuf, Ada  
C) Oğuz, Yusuf

su  
çiçek  
toprak

hava  
arı  
ışık



3) Defterde yazanlardan kaç tanesi **cansız** varlıktır?

- A) 2                      B) 4                      C) 3

I. Tohumun çimlenmesi ile yetişkin bitki oluşur.

II. Çevremizde hem canlı hem cansız varlıklar bulunur.

III. Farklı bitkilerin yaşam döngüleri birbirinden farklıdır.

4) Verilen cümlelerden hangileri **doğrudur**?

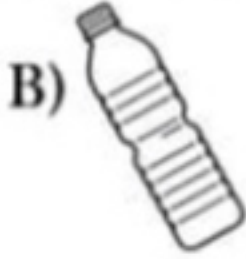
- A) II ve III              B) I ve III              C) Yalnız I

5) Aşağıdakilerden hangisi **cansız** varlıkların özelliklerinden biridir?

- A) Dışarıdan gelen uyarılara tepki verebilirler.  
B) Solunum yapamazlar.  
C) Yaşamın devamı için beslenirler.



6) Aşağıdakilerden hangisini bu geri dönüşüm kutusuna atabiliriz?



ilkokulodev.com

7) Aşağıda verilen cümlelerden hangisinde yanlış bir bilgi vardır?

A) Toprak kirliliği, toprakta yaşayan tüm canlıları olumsuz etkiler.

B) Atık piller sadece hayvanlara zarar verir.

C) Bazı maddeleri geri dönüştürüp tekrar kullanabiliriz.

8) Verilen nesnelere hangisi, doğada uzun süre yok olmayarak çevre kirliliğine neden olur?

A) plastik poşet

B) muz kabuğu

C) kağıt



9) Aşağıdaki görsellerden hangisi doğal çevreye örnek gösterilemez?



10) Bu görseller ile ilgili aşağıdakilerden hangisi yanlıştır?

A) 3. görsel yapay çevreye aittir.

B) 2. görsel doğal çevreye aittir.

C) 1. yer insanlar tarafından yapılmıştır.





1) Aşağıdaki kişilerden hangisi **seçim** ile göreve gelmektedir?

- A) Vali
- B) Kaymakam
- C) Belediye Başkanı

D/Y

Ülkemizin yönetim şekli cumhuriyettir.	...
23 Nisan 1920 günü cumhuriyet ilân edilmiş.	...
Cumhurbaşkanı seçim ile göreve gelir.	...

2) Boşluklara gelmesi gerekenler hangi şıkta doğru verilmiştir?

- A) 

D
Y
D

      B) 

D
D
D

      C) 

Y
D
Y



3) Yukarıdaki "?" olan yere aşağıdakilerden hangisi yazılmalıdır?

- A) Oyun Kuralları
- B) Evimizdeki Kurallar
- C) Vatandaşlık Görevleri

4) Aşağıdaki milli bayramlarımızdan hangisinin tarihi, okul zamanına denk **gelmez**?

- A) Cumhuriyet Bayramı
- B) Zafer Bayramı
- C) Ulusal Egemenlik ve Çocuk Bayramı

5) Verilen "yönetim birimi ve yönetici" eşleştirmelerinden hangisi **yanlıştır**?

- A) Mahalle- Belediye başkanı
- B) İl- Vali
- C) İlçe- Kaymakam

6) Ülkemizin yönetim şekli olan **Cumhuriyetin ilan edildiği** tarih aşağıdakilerden hangisidir?

- A) 23 Nisan 1920
- B) 29 Ekim 1923
- C) 23 Ekim 1919

Milli birlik ve beraberliğimizin en fazla hissedildiği günler

.....

7) Bu cümledeki boşluğa aşağıdakilerden hangisi **yazılamaz**?

- A) düğün olan günlerdir.
- B) milli bayramlarımızdır.
- C) dini bayramlarımızdır.

8) Atatürk ile ilgili verilen bilgilerden hangisi **yanlıştır**?

- A) İleri görüşlü bir liderdi.
- B) Çok çalışkandı.
- C) Çocukları sevmezdi.



9) Aşağıdaki tarihi eser ve şehir eşleştirmelerinden hangisi yanlıştır?

A)



Nemrut Heykelleri,  
Adıyaman

B)



Truva Atı, Muğla

C)



Göbeklitepe, Şanlıurfa

ilkokulodev.com

Tarihî eserler ve yapılar, insanlar tarafından inşa edilmiş yerlerdir. Beşerî unsurlar da denilebilir.

10) Bu açıklamaya göre aşağıdakilerden hangisi beşerî unsur **olamaz**?

- A) Ağrı Dağı
- B) Kız Kulesi
- C) Akdamar Kilisesi

# EVDE DENE Cevap Anahtarı



**TÜRKÇE:** C-A-C-A-C-A-C-B-B-C-B-C-B-A-B

**MATEMATİK:** A-C-B-B-C-A-B-A-C-B-A-A-C-B-A

**FEN BİLİMLERİ:** C-B-B-A-B-C-B-A-B-C

**HAYAT BİLGİSİ:** C-A-C-B-A-B-A-C-B-A