

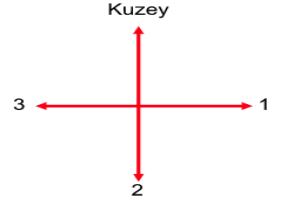
2. SINIF HAYAT BİLGİSİ "YÖNLER" KONU TESTİ

1 - Güneş'in doğduğu yön kaç numara ile gösterilmiştir?

A) 1

B) 2

C) 3



2 - Güneş'in doğduğu yöne sağ kolumuzu açtığımızda sol kolumuz hangi yönü gösterir?

A) Kuzey

B) Güney

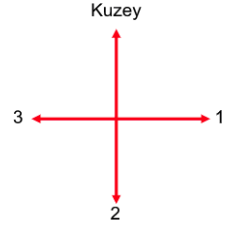
C) Batı

3 - Kaç numaralı yere "Güney" yazarız?

A) 3

B) 2

C) 1



4 - Güneş'in doğduğu tarafa sırtını dönen birinin sol kolu hangi yönü gösterir?

A) Batı

B) Kuzey

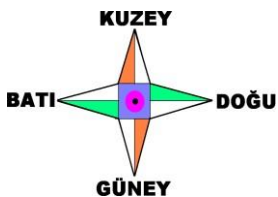
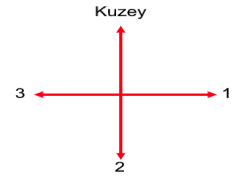
C) Güney

5 - 3 numaralı yere hangi yön adı yazılmalıdır?

A) Batı

B) Doğu

C) Güney



6 - Kütüphanenin güneyinde ne vardır?

A) Antikacı B) Bakkal C) Ayakkabıcı

7 - Bakkalın batısında ne vardır?

A) Kütüphane B) Muhtarlık C) Saat Kulesi

8 - Ayakkabıcının güneyinde ne vardır?

A) Kütüphane B) Bakkal C) Muhtarlık

9 - Saat Kulesi'nin kuzeyinde ne vardır?

A) Antikacı B) Bakkal C) Kütüphane

10 - Muhtarlığın kuzeyinde ne vardır?

A) Antikacı B) Saat Kulesi C) Ayakkabıcı

11 - Ayakkabıcının batısında ne vardır?

A) Muhtarlık B) Bakkal C) Kütüphane

CEVAP ANAHTARI

1A-2C-3B-4C-5A-6B-7C-8C-9A-10C-11C