

## ORMAN

Orman yurdun temelidir  
Nesillerin ewelidir  
Her sanatın ilk elidir  
Ormandaki varlığa bak  
Orman memleketin ss  
Hem ufađı hem irisi  
Her dalında bir kuş sesi  
Ormandaki varlığa bak



Veysel sever ađađaları  
Dalında ten kuşları  
Orman yapar her işleri  
Ormandaki varlığa bak  
(Kısaltılmıştır)

**Aşık Veysel ŞATIROĐLU**

( İlk ç soruyu Őire gre yanıtlayınız. )

### 1. Őirin konusu hangisidir?

- A) Kuş seslerinin gzelliđi
- B) Her sanatın ssl olması
- C) Ormanın yaran

### 2. Hangisi Őairin ormanı benzettikleri arasında deđildir?

- A) Yurdun temeline
- B) Kuş sesine
- C) Memleketin ssne

### 3. Hangi grsel Őirle alakalıdır?



### 4. Aşođdaki cmlelerin hangisinde • ev • szcđn Őekil ynnden belirten bir szck vardır?

- A) Ervanurların sokađında sadece drt ev vardı.
- B) Nurefşanların sarı evini aramıştık.
- C) Ecrinlerin kk evi mutluluk doluydu.

5



Babamla beraber  
evde ok gzel  
etkinlikler yaptık.

### Eyll, hangi soruya cevap vermiş olabilir?

- A) Niin?
- B) Nerede
- C) Ne zaman

### 6. • Sinirlenen aslan insanları korkuttu.

• Minik fare peyniri almıştı.

• Hızlı ita koşu yarışmasına hazırlanmıştı.

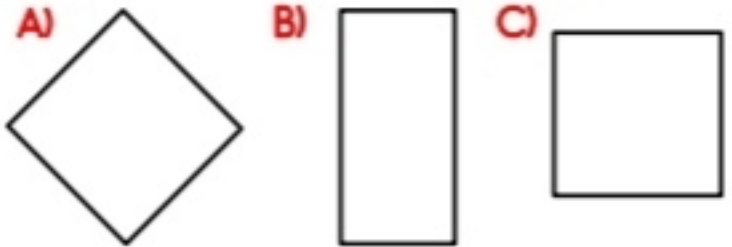
### Hangi cmlede hayal unsuru olan bir olay anlatılmaktadır?

- A) •
- B) •
- C) •

### 7. Aşođdaki cmlelerin hangisi kurallı deđildir?

- A) Hayat eve sığar.
- B) Eve hayat sığar.
- C) Sığar eve hayat.

### 8. Aşođdakilerden hangisi kare deđildir?

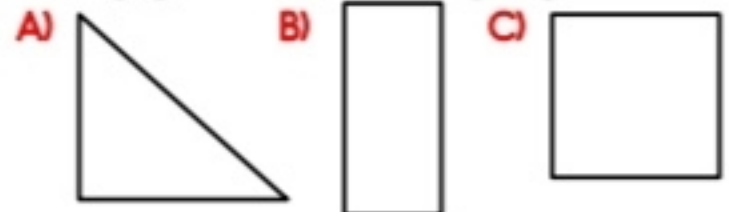


### 9. • Geometrik Őekillerde karşılıklı kşeleri birleştiren çizgiye ..... denir. •

Yukarıdaki ifadede boş bırakılan yere hangisi gelmelidir?

- A) Ayrınt
- B) Kşegen
- C) Kşe

### 10. Hangi geometrik Őeklin kşegeni yoktur?




11. Yandaki görselde verilen cisim hangi şekle benzemektedir?

- A) Beşgen B) Altıgen C) Sekizgen



12. Hangi cismin benzediği şekil **yanlış** verilmiştir?

- A) Altıgen  
B) Onikigen  
C) Beşgen



Noktalı köğüt üzerindeki belirtilen noktaları birleştirerek oluşturulan şekil hangisidir?

- A) Altıgen B) Beşgen C) Sekizgen

14. Hangi şeklin daha az kenarı vardır?

- A) B) C)

15. Çevremizin korunması ile ilgili **yanlış** bilgiyi veren kimdir?

- A) Berkay  
Arabalar, fabrikalar ve çöpler havaya çeşitli gazlar yayar.

- B) Busenur  
Hava ve su kirliliğinin toprağın kirlenmesine bir etkisi yoktur.

- C) Mustafa  
Lağım suları, çöpler ve diğer atıklar; nehirlere, göllere ve okyanuslara ulaşırsa orada yaşayan canlılara zarar verir.

16. Aşağıdakilerden hangisi doğal anıtı örnektir?

- A) Peri Bacaları  
B) Uludağ  
C) Küre Dağları

17. Aşağıdakilerden hangisi insanlar tarafından yapılmıştır?

- A) Doğal anıtlar B) Şelale C) Baraj

18.

- a. Ülkemiz doğal güzellikleri bakımından çok zengindir.  
b. Her bölgemizin kendine özgü doğal güzellikleri bulunmaktadır.  
c. Doğada kendiliğinden, insan eli değmeden oluşan yerler doğal güzelliklerdir.

Yukarıdaki ifadelerden hangileri doğrudur?

- A) a B) a, b C) a, b, c

19. Aşağıdakilerden hangisi müzeler ile ilgili olarak doğru bir bilgidir?

- A) Müzeler, bizden önce yaşamış insanların kültürleri hakkında bilgi verir.  
B) Müzelere sadece öğrenciler ve öğretmenler girebilir.  
C) Müzelerdeki eserlerden beğendiklerimizi evimize götürebiliriz.

20. Tarihî eserler ile ilgili verilen bilgilerden hangisi **yanlıştır**?

- A) Ülkemizdeki tarihî eserleri görmek için her yıl ülkemize çok sayıda yabancı turist gelmektedir.  
B) Tarihî eserleri görmek sadece yabancı turistlerin hakkıdır.  
C) Ülkemizdeki tarihî eserleri koru görevidir.



kolay gelsin



# Cevap Anahitari

1-C	11-C
2-B	12-B
3-A	13-A
4-C	14-C
5-B	15-B
6-A	16-A
7-C	17-C
8-B	18-C
9-B	19-A
10-A	20-B