

İLKOKULEVİM



2. SINIF

KAZANIM DEĞERLENDİRME
SINAVI

TÜRKÇE
MATEMATİK
HAYAT BİLGİSİ
İNGİLİZCE



www.ilkokulevim.com

TÜRKÇE TESTİ

SAĞLIK

Dikkat et temizliğine,
Yediğine, içtiğine,
Zamanında aşı ol,
Mikroplardan uzak ol.
Düzenli uyu,
Güçlendirir ruhu.
Eğer hasta olursan,
Doktora git aman.

1 -2-3. soruları metne göre cevaplayınız.

1- Aşağıdakilerden hangisi sağlıklı olmak için yapılacak davranışlardan biri değildir?

- A. Temizliğe dikkat etmek
- B. Dışarıda oyun oynamak
- C. Aşı olmak

2- Aşağıdakilerden hangisinden şiirde bahsedilmemiştir?

- A. Temizlik
- B. Düzenli uyku
- C. İlaç kullanımı

3- Şiire göre hastalanınca ne yapmalıyız?

- A. Parka gitmeliyiz.
- B. Uyumalıyız.
- C. Doktora gitmeliyiz.

4- Yandaki çocuklarla ilgili aşağıdakilerden hangisini söyleyemeyiz?



- A. Sorumluluk sahibi değillerdir.
- B. Bilinçli çocuklardır.
- C. Çevre temizliğine önem vermektedirler.



Dost acı söyler.



Etekleri zil çalmak



Damlaya damlaya göl olur.

5- Yukarıdaki balıklardan hangisinin söylediği bir atasözü değildir?

A.



B.



C.



TÜRKÇE TESTİ



Bu kitapta Pamuk Prenses ()'in maceraları anlatılıyor.

Umay

6- Umay'ın söylediği cümlede () içine hangi noktalama işareti yazılmalıdır?

A.

B.

C.

- * Yarın okulda maçımı var?
- * Tatile nereye gideceksiniz?
- * Okuldan sonra bize gelecek misin?

7- Yukarıdaki cümlelerin hangisinde yazım yanlışı yapılmıştır?

A. *

B. *

C. *

aldım

eczaneden

ilaçlarını

annemin

8- Yukarıdaki kelimelerle oluşturulabilecek anlamlı ve kurallı cümle aşağıdakilerden hangisidir?

- A. Eczaneden aldım annemin ilaçlarını.
- B. Aldım annemin ilaçlarını eczaneden.
- C. Annemin ilaçlarını eczaneden aldım.



Sonbahar mevsiminde ağaçlar yapraklarını döker.

9- Yukarıdaki cümlede altı çizili kelime yerine aşağıdakilerden hangisi getirilirse cümlenin anlamı değişmez?

A. kış

B. güz

C. ilkbahar



10- Yukarıdaki nesnenin 3. hecesi ile aşağıdaki varlıklardan hangisinin ilk hecesi aynı değildir?

A.



B.



C.





MATEMATİK TESTİ




Eren Beren Kerem

Eren, Beren ve Keremin ağırlıklarının onlar basamağındaki rakamlar eşittir.

1- Hangi seçenekteki sayılar bu üç arkadaşın ağırlıkları olabilir

- A. 28 - 19 - 24
- B. 28 - 21 - 25
- C. 25 - 21 - 30



2- Yukarıdaki örüntüde "?" yerine hangi sayı yazılmalıdır?

- A. 25
- B. 26
- C. 27

3- 3 düzine kırmızı kalemi olan bir kırtasiyecinin bu kalemlerden 2 deste daha alması sonucu kaç kalemi olur?

- A. 56
- B. 52
- C. 50




4- Yukarıdaki sayılardan kaç tanesi en yakın onluğa yuvarlandığında sonucu 40 olur?

- A. 1
- B. 2
- C. 3



59 kg



38 kg

5- Yukarıdaki duruma göre sincap kaç kilogramdır?

- A. 17
- B. 19
- C. 21

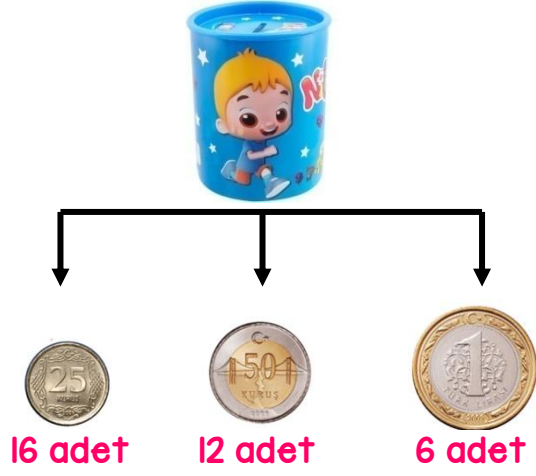


Barışın 5 adımı 2 metredir.

6- Yukarıdaki bilgiye göre Barış 10 metre yürüdüğünde kaç adım atmış olur?

- A. 15
- B. 20
- C. 25

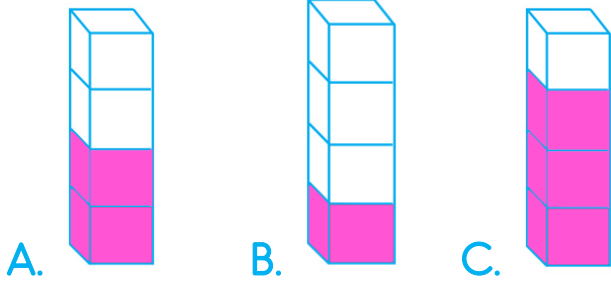
MATEMATİK TESTİ



- 7- Berkay'ın kumbarasından yukarıda adetleri verilen paralar çıkmıştır. Buna göre Berkay'ın kaç TL parası vardır?
 A. 16 B. 14 C. 18



- 8- Aşağıdaki şeklin çeyrek boyalı hali hangi seçenekte doğru verilmiştir?



- Bir çiftlikteki tavuk ve keçilerin ayak sayıları toplamı 48'dir.
 9- Bu çiftlikte 8 tane keçi olduğuna göre kaç tane tavuk vardır?


- A. 6
 B. 8
 C. 10



- Ben Efe, 9 yaşındayım. Benim ve annemin yaşları toplamı 38. Babam ise annemden 3 yaş büyüktür.
 10- Yukarıdaki verilen bilgilere göre Efe'nin babası kaç yaşındadır?

- A. 41
 B. 36
 C. 32

HAYAT BİLGİSİ TESTİ



Yukarıda bir bitkinin büyüme aşamaları karışık verilmiştir.

1- Buna göre doğru sıralama aşağıdakilerden hangisidir?

- A. 3-2-1
- B. 2-3-1
- C. 2-1-3




Elif

Dedem köyde hayvancılık ile uğraşiyor.

2- Buna göre Elifin dedesi köyde aşağıdaki ürünlerden hangisini üretebilir?

- A. Süt-peynir-tereyağ
- B. Mısır-buğday-nohut
- C. Şeftali-erik-kayısı

3- Aşağıdakilerden hangisi ülkemize özgü bir yemek değildir?



A.

B.



C.

Güvenli Oyun Alanları

Okul Bahçesi	Park	?
--------------	------	---

4- Yukarıda "?" yerine aşağıdakilerden hangisi gelmelidir?


- A. Kaldırım
- B. Evimizin bahçesi
- C. Ormanlık alanlar

5- Aşağıdaki eşleştirmelerden hangisi yanlıştır?

- A. Minibüs-Kara yolu ulaşımı
- B. Helikopter- Hava yolu ulaşımı
- C. Feribot-Demir yolu ulaşımı

HAYAT BİLGİSİ TESTİ

6- Aşağıdaki ürünlerden hangisi fabrika ya da atölyelerde üretilir?



7- Ülkemizin dünya üzerindeki yerine aşağıdakilerden hangisinde bakabiliriz?

- A. Dünya haritası
B. Türkiye haritası
C. İl haritası

8- Aşağıdaki hangisi farklı ülkelerden gelen insanların bize sağladığı faydalardan biri değildir?

- A. Onların kültürlerini öğreniriz.
B. Bizlere okumaz yazma öğretirler.
C. Yeni insanlarla tanışmış oluruz.



9- Yukarıdaki görsellerin kaç tanesi acil yardım aracıdır?

- A. 1
B. 2
C. 3

10- Aşağıdaki davranışlardan hangisi yanlıştır?



/ilkokulevim



/ilkokulevim



/ilkokulevim



/ilkokulevim

İNGİLİZCE TESTİ



1- Yukarıdaki cümlede boşluğa hangi kelime gelmelidir?

- A. snake
- B. horse
- C. monkey



.....



Which fruit is red?

2- Öğretmenin sorusunun cevabı nedir?

- A. kiwi
- B. banana
- C. strawberry



The octopus have
..... arms

3- Yukarıdaki cümlede boşluğa ne gelmelidir?

- A. six
- B. seven
- C. eight

4- Yukarıdaki boşluğa ne yazılmalıdır?

- A. fly a kite
- B. play basketball
- C. skip

“Close the door”

5- Cümlenin anlamı aşağıdakilerden hangisidir?

- A. Ayağa kalk.
- B. Pencereyi kapat.
- C. Kapıyı kapat.



/ilkokulevim



/ilkokulevim



/ilkokulevim



/ilkokulevim

Sevgili ÖĞRETMEN ve VELİLERİMİZ;
Deneme Sınavına Teşekkür Mahiyetinde
Sosyal Medya Sayfamızı Beğenirseniz
Çok Mutlu Oluruz.

Aşağıdaki Linklerden Bizlere Ulaşabilirsiniz.

www.ilkokulevim.com

www.instagram.com/ilkokulevim

www.facebook.com/ilkokulevim

www.facebook.com/groups/272489210266407/

t.me/ilkokulevim

27/05/2020 KDS CEVAP ANAHTARI

TÜRKÇE	MATEMATİK	HAYAT BİLGİSİ	İNGİLİZCE
1-B	1-B	1-B	1-B
2-C	2-C	2-A	2-C
3-C	3-A	3-C	3-C
4-A	4-B	4-B	4-A
5-B	5-C	5-C	5-C
6-A	6-C	6-B	
7-C	7-A	7-A	
8-C	8-B	8-B	
9-B	9-B	9-C	
10-A	10-C	10-A	