

İLKOKULEVİM



2. SINIF

KAZANIM DEĞERLENDİRME  
SINAVI

TÜRKÇE  
MATEMATİK  
HAYAT BİLGİSİ  
İNGİLİZCE



www.ilkokulevim.com

## TÜRKÇE TESTİ

## SAĞLIK

Dikkat et temizliğine,  
Yediğine, içtiğine,  
Zamanında aşı ol,  
Mikroplardan uzak ol.  
Düzenli uyu,  
Güçlendirir ruhu.  
Eğer hasta olursan,  
Doktora git aman.

1 -2-3. soruları metne göre cevaplayınız.

1- Aşağıdakilerden hangisi sağlıklı olmak için yapılacak davranışlardan biri değildir?

- A. Temizliğe dikkat etmek
- B. Dışarıda oyun oynamak
- C. Aşı olmak

2- Aşağıdakilerden hangisinden şiirde bahsedilmemiştir?

- A. Temizlik
- B. Düzenli uyku
- C. İlaç kullanımı

3- Şiire göre hastalanınca ne yapmalıyız?

- A. Parka gitmeliyiz.
- B. Uyumalıyız.
- C. Doktora gitmeliyiz.

4- Yandaki çocuklarla ilgili aşağıdakilerden hangisini söyleyemeyiz?



- A. Sorumluluk sahibi değillerdir.
- B. Bilinçli çocuklardır.
- C. Çevre temizliğine önem vermektedirler.



Dost acı söyler.



Etekleri zil çalmak



Damlaya damlaya göl olur.

5- Yukarıdaki balıklardan hangisinin söylediği bir atasözü değildir?

A.



B.



C.



## TÜRKÇE TESTİ



Bu kitapta Pamuk Prenses ( )'in maceraları anlatılıyor.

Umay

6- Umay'ın söylediği cümlede ( ) içine hangi noktalama işareti yazılmalıdır?

A.

B.

C.

- \* Yarın okulda maçımı var?
- \* Tatile nereye gideceksiniz?
- \* Okuldan sonra bize gelecek misin?

7- Yukarıdaki cümlelerin hangisinde yazım yanlışı yapılmıştır?

A. \*

B. \*

C. \*

aldım

eczaneden

ilaçlarını

annemin

8- Yukarıdaki kelimelerle oluşturulabilecek anlamlı ve kurallı cümle aşağıdakilerden hangisidir?

- A. Eczaneden aldım annemin ilaçlarını.
- B. Aldım annemin ilaçlarını eczaneden.
- C. Annemin ilaçlarını eczaneden aldım.



Sonbahar mevsiminde ağaçlar yapraklarını döker.

9- Yukarıdaki cümlede altı çizili kelime yerine aşağıdakilerden hangisi getirilirse cümlenin anlamı değişmez?

A. kış

B. güz

C. ilkbahar



10- Yukarıdaki nesnenin 3. hecesi ile aşağıdaki varlıklardan hangisinin ilk hecesi aynı değildir?

A.



B.



C.





## MATEMATİK TESTİ




Eren Beren Kerem

Eren, Beren ve Keremin ağırlıklarının onlar basamağındaki rakamlar eşittir.

1- Hangi seçenekteki sayılar bu üç arkadaşın ağırlıkları olabilir

- A. 28 - 19 - 24
- B. 28 - 21 - 25
- C. 25 - 21 - 30



2- Yukarıdaki örüntüde "?" yerine hangi sayı yazılmalıdır?

- A. 25
- B. 26
- C. 27

3- 3 düzine kırmızı kalemi olan bir kırtasiyecinin bu kalemlerden 2 deste daha alması sonucu kaç kalemi olur?

- A. 56
- B. 52
- C. 50




4- Yukarıdaki sayılardan kaç tanesi en yakın onluğa yuvarlandığında sonucu 40 olur?

- A. 1
- B. 2
- C. 3



59 kg



38 kg

5- Yukarıdaki duruma göre sincap kaç kilogramdır?

- A. 17
- B. 19
- C. 21



Barışın 5 adımı 2 metredir.

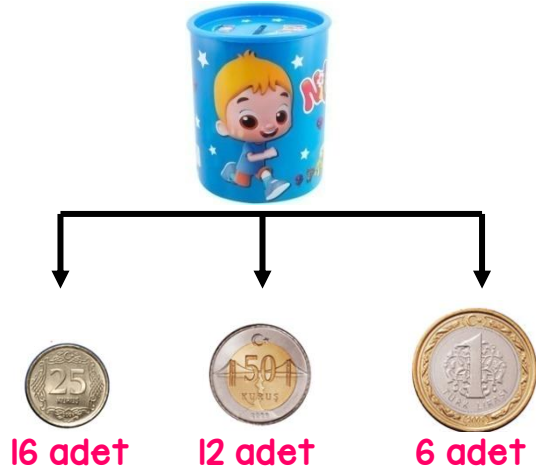
6- Yukarıdaki bilgiye göre Barış 10 metre yürüdüğünde kaç adım atmış olur?

- A. 15
- B. 20
- C. 25





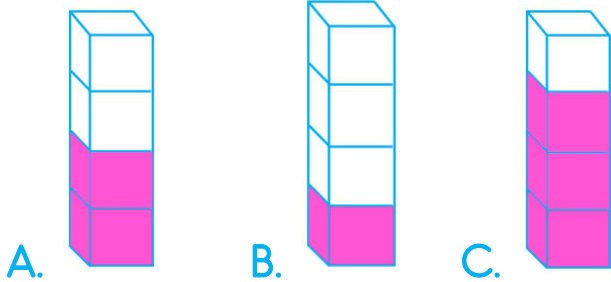
## MATEMATİK TESTİ



- 7- Berkay'ın kumbarasından yukarıda adetleri verilen paralar çıkmıştır. Buna göre Berkay'ın kaç TL parası vardır?
- A. 16                      B. 14                      C. 18



- 8- Aşağıdaki şeklin çeyrek boyalı hali hangi seçenekte doğru verilmiştir?



- Bir çiftlikteki tavuk ve keçilerin ayak sayıları toplamı 48'dir.
- 9- Bu çiftlikte 8 tane keçi olduğuna göre kaç tane tavuk vardır?


- A. 6  
B. 8  
C. 10



- Ben Efe, 9 yaşındayım. Benim ve annemin yaşları toplamı 38. Babam ise annemden 3 yaş büyüktür.
- 10- Yukarıdaki verilen bilgilere göre Efe'nin babası kaç yaşındadır?

- A. 41  
B. 36  
C. 32

## HAYAT BİLGİSİ TESTİ



Yukarıda bir bitkinin büyüme aşamaları karışık verilmiştir.

1- Buna göre doğru sıralama aşağıdakilerden hangisidir?

- A. 3-2-1
- B. 2-3-1
- C. 2-1-3




Elif

Dedem köyde hayvancılık ile uğraşiyor.

2- Buna göre Elifin dedesi köyde aşağıdaki ürünlerden hangisini üretebilir?

- A. Süt-peynir-tereyağ
- B. Mısır-buğday-nohut
- C. Şeftali-erik-kayısı

3- Aşağıdakilerden hangisi ülkemize özgü bir yemek değildir?



A.

B.



C.

## Güvenli Oyun Alanları

Okul Bahçesi	Park	?
--------------	------	---

4- Yukarıda "?" yerine aşağıdakilerden hangisi gelmelidir?


- A. Kaldırım
- B. Evimizin bahçesi
- C. Ormanlık alanlar

5- Aşağıdaki eşleştirmelerden hangisi yanlıştır?

- A. Minibüs-Kara yolu ulaşımı
- B. Helikopter- Hava yolu ulaşımı
- C. Feribot-Demir yolu ulaşımı

## HAYAT BİLGİSİ TESTİ

6- Aşağıdaki ürünlerden hangisi fabrika ya da atölyelerde üretilir?



7- Ülkemizin dünya üzerindeki yerine aşağıdakilerden hangisinde bakabiliriz?

- A. Dünya haritası  
B. Türkiye haritası  
C. İl haritası

8- Aşağıdaki hangisi farklı ülkelerden gelen insanların bize sağladığı faydalardan biri değildir?

- A. Onların kültürlerini öğreniriz.  
B. Bizlere okumaz yazma öğretirler.  
C. Yeni insanlarla tanışmış oluruz.



9- Yukarıdaki görsellerin kaç tanesi acil yardım aracıdır?

- A. 1  
B. 2  
C. 3

10- Aşağıdaki davranışlardan hangisi yanlıştır?



/ilkokulevim



/ilkokulevim



/ilkokulevim



/ilkokulevim

## İNGİLİZCE TESTİ



1- Yukarıdaki cümlede boşluğa hangi kelime gelmelidir?

- A. snake
- B. horse
- C. monkey



.....



Which fruit is red?

2- Öğretmenin sorusunun cevabı nedir?

- A. kiwi
- B. banana
- C. strawberry



The octopus have  
..... arms

3- Yukarıdaki cümlede boşluğa ne gelmelidir?

- A. six
- B. seven
- C. eight

4- Yukarıdaki boşluğa ne yazılmalıdır?

- A. fly a kite
- B. play basketball
- C. skip

“Close the door”

5- Cümlenin anlamı aşağıdakilerden hangisidir?

- A. Ayağa kalk.
- B. Pencereyi kapat.
- C. Kapıyı kapat.



/ilkokulevim



/ilkokulevim



/ilkokulevim



/ilkokulevim



Sevgili ÖĞRETMEN ve VELİLERİMİZ;  
Deneme Sınavına Teşekkür Mahiyetinde  
Sosyal Medya Sayfamızı Beğenirseniz  
Çok Mutlu Oluruz.

Aşağıdaki Linklerden Bizlere Ulaşabilirsiniz.

[www.ilkokulevim.com](http://www.ilkokulevim.com)

[www.instagram.com/ilkokulevim](http://www.instagram.com/ilkokulevim)

[www.facebook.com/ilkokulevim](http://www.facebook.com/ilkokulevim)

[www.facebook.com/groups/272489210266407/](http://www.facebook.com/groups/272489210266407/)

[t.me/ilkokulevim](https://t.me/ilkokulevim)

### 27/05/2020 KDS CEVAP ANAHTARI

TÜRKÇE	MATEMATİK	HAYAT BİLGİSİ	İNGİLİZCE
1-B	1-B	1-B	1-B
2-C	2-C	2-A	2-C
3-C	3-A	3-C	3-C
4-A	4-B	4-B	4-A
5-B	5-C	5-C	5-C
6-A	6-C	6-B	
7-C	7-A	7-A	
8-C	8-B	8-B	
9-B	9-B	9-C	
10-A	10-C	10-A	