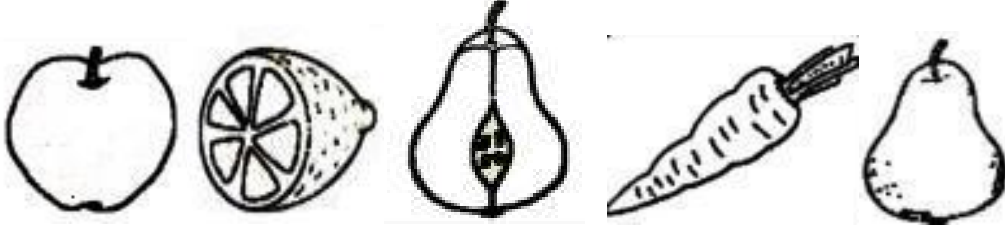


KESİRLER-1

1- Aşağıdaki şeklin yarısını boyayalım.



2- Aşağıdaki şekillerden bütün olanları boyayalım.



3- Aşağıdaki boşlukları uygun şekilde dolduralım

1 bütün içinde tane yarım vardır.

2 tane yarım ekmek bütün ekmek eder.

4 tane yarım elma bütün elma eder.

6 tane yarım simit bütün simit eder.

2 bütün ekmek yarım ekmektir.

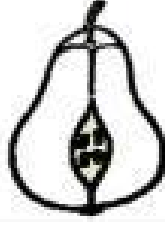

3 bütün karpuz yarım karpuzdur.

CEVAP ANAHTARI

1- Aşağıdaki şeklin yarısını boyayalım.



2- Aşağıdaki şekillerden bütün olanları boyayalım.



3- Aşağıdaki boşlukları uygun şekilde dolduralım

1 bütün içinde 2 tane yarım vardır.

2 tane yarım ekmek 1 bütün ekmek eder.



4 tane yarım elma 2 bütün elma eder.







6 tane yarım simit 3 bütün simit eder.



2 bütün ekmek 4 yarım ekmektir.



4 bütün karpuz 8 yarım karpuzdur.



CEREN ALUR

DÜZTEPE İLKOKULU ÖĞRETMENİ