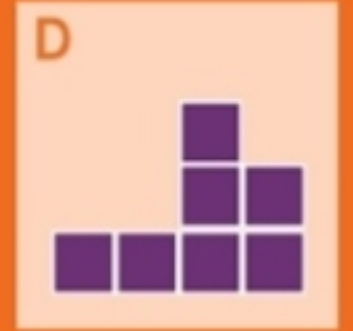
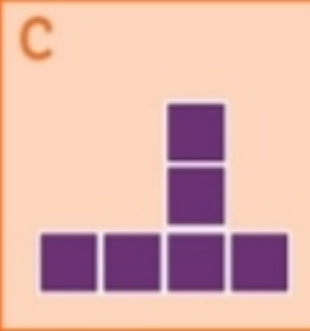
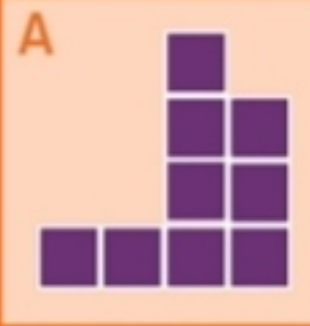
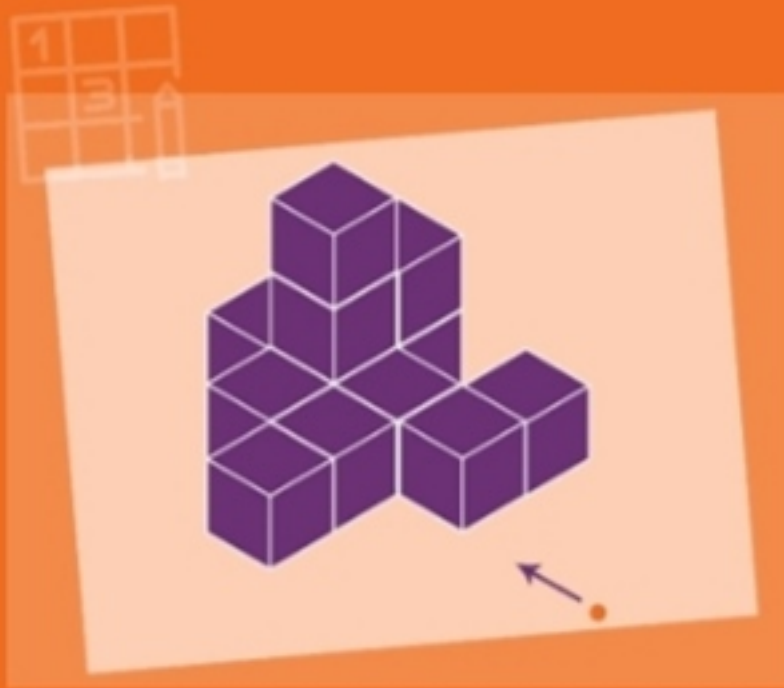


7

Görsel Soru - 3 Boyuttan 2 Boyuta



Turuncu noktada bulunup ok yönüne bakan bir kişi seçeneklerden hangisini görmektedir?

CEVAP

Soruyu adım adım cevaplayalım...

Turuncu noktada olduğumuzu ve bloklara baktığımızı düşünelim.

Tabanda 4 adet blok olduğu açıkça belli.

Bir üst katında sağda iki blok göze çarpıyor. Bu demek oluyor ki C şıkkı eleniyor.

Bir üst kata daha çıkarsak sadece sağdan ikinci bloğun varlığını görüyoruz.

*Yani cevap: **D şıkkı***