

## 2.SINIF HAYAT BİLGİSİ

### 6. ÜNİTE: DOĞADA HAYAT

#### GERİ DÖNÜŞÜM DEĞERLENDİRME TESTİ

1- Plastik, kağıt, pil, cam gibi maddelerin tekrar kullanılması olayına ne denir?

- A) Geri Dönüşüm                      B) Üretim                      C) Seri Üretim

2- Aşağıdakilerden hangisi geri dönüşüm işaretidir?

- A)                       B)                       C) 

3- Aşağıda verilenlerden hangisi geri dönüşüm için uygundur?

- A) Biten defterlerimiz.  
B) Küçülen giysilerimiz.  
C) Eskiye ayakkabılarımız.

4- Aşağıda verilen görsellerden hangisi geri dönüşüm için uygun değildir?

- A)                       B)                       C) 

5- Kullanılmış yağları lavaboya dokersek ne olur?

- A) Lavabo temizlenmiş olur.  
B) Toprağın verimi artar.  
C) Toprak ve su kirliliğine neden olur.

6- Aşağıdaki verilenlerden hangisi yanlıştır?

- A) Geri dönüşümün yararlarından biri de atık çöp miktarını azaltmaktır.  
B) Kullanılmış bitkisel yağları tekrar kullanmak çok sağlıklıdır.  
C) Geri dönüşüm maddelerini uygun yerlerde biriktirmeliyiz.

7- Kağıt atıklar geri dönüştürüldüğünde hangisinden tasarruf sağlanır?

- A) Yakıttan                      B) Zamandan                      C) Ağaçtan

8- **Bir çok madde çevreye atıldığında doğaya zarar verir.** Aşağıdakilerden hangisi çevreye atıldığında doğaya zarar veren bir maddedir?



TV kumandasının pilini  
değiştirdik. Eski pil  
ne yapacağım şimdi?


Işıl'ın sorduğu soruyu hangi çocuk doğru yanıtlamıştır?



Bence pil kutusuna atmalısın.



Bence çöp kutusuna atmalısın.



Bence metal kutusuna atmalısın.


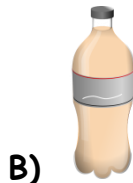

10- Geri dönüşüm için aşağıdakilerden hangisi yapılmalıdır?

A) Atıklar yakılmalı.

B) Atıklar birleştirilmeli.

C) Atıklar ayrıştırılmalı.

11- Hangisi geri dönüşümü yapılacak bir atık değildir?



12- Emel: "Eski defterlerimi çöpe atmam.Çöplerden ayrı tutarım."

Can: " Ömrü bitmiş pilleri pil atık kutusuna atarım."

Tuba: "Kızartma yağlarını lavaboya dökerim."

Hangisi doğaya zarar verici bir davranışta bulunmuştur?

A) Emel

B) Tuba

C) Can

13- Geri dönüşüm sayesinde hem..... ekonomisine katkı sağlarız;  
hem de .....koruruz.

Yukarıdaki ifade de boş bırakılan yerlere sırasıyla hangileri gelmelidir?

A) ülke-doğayı

B) aile-kendimizi

C) okul-sınıfımızı

14-

❖ Yemek atıkları

➤ Cam bardaklar

✚ Naylon poşetler

Yukarıda verilmiş olan maddelerden hangisinin geri dönüşümü yoktur?

A) Cam bardaklar

B) Naylon poşetler

C) Yemek artıkları



15-

Atıkları geri dönüşüm kutusuna neden atarız?

Keloğlan'ın sorduğu soruya hangi çocuk doğru cevap vermiştir?



A) Çevre kirliliğini azaltmak için atarız.



B) Daha fazla çöp biriktirmek için atarız.



C) Doğayı kirletmek için atarız.

CEVAP ANAHTARI

1A-2B-3A-4A-5C-6B-7C-8C-9A-10C-11A-12B-13A-14C-15A