



### 3. Sınıf Eba Tv Denemesi Eba Tv İle Birebir



#### YEŞİL İLKBAHAR

Soğuk gitti , kar gitti.  
Gelen yeşil ilkbahar  
Kuru rüzgarlar gitti.  
Gelen yeşil ilkbahar.

Gül gül olup açılan  
Mis kokular saçılan  
Şen duygular saçılan  
Gelen yeşil ilkbahar

Kanat sesi kuş sesi  
Doğan günün neşesi  
Mutluluğun bestesi  
Gelen yeşil ilkbahar

Ağaçlara kan gelir  
Dal dal göğe yükselir ,  
Ve toprağa can gelir...  
Gelen yeşil ilkbahar

**İlk 3 soruyu metne göre cevaplayınız.**

**1** Şiir kaç dizeden oluşmuştur ?

- A) 4      B) 12      C) 16

**2** Şiire göre ağaçlara gelen nedir ?

- A) Kuş sesi  
B) Kar  
C) Kan

#### Türkçe

**3** Şiirde altı çizili kelimelerin zıt anlamlıları hangi şıkta verilmiştir ?

- A) Sıcak – Temiz  
B) Üşüme- Yaş  
C) Sıcak- Yaş

**4**

Akıl	Fakir	Anı	Barış
Beyin	Yoksul	Hatıra	Savaş



Can yukarıya eş anlamlı kelimeler tablosu yapmıştır. Fakat 2 kelimedede yanlışlık yapmıştır. Hangi kelimelerin eş anlamlılarını yanlış yazmıştır ?

- A) Akıl - Fakir  
B) Barış - Anı  
C) Akıl - Barış

**5**

Dün ankara'da kar yağdı.

Aslı tahtaya yukarıdaki cümleyi yazmıştır. Hangi kelimedede yanlışlık yapmıştır ?

- A) Dün      B) ankara'da      C) kar

6

A- B- C-Ç- D E-F-G-Ğ-  
H-I-İ-J-L-M-N-O-Ö-P-  
R-S-Ş-U-Ü-V-Y-Z



Hakan alfabeyi sayarken 2 harfi atlamıştır. Hakan hangi harfleri unutmuştur ?

- A) K-Ü      B) K-Ş      C)K-T

7

Sözcükler	Harf sayısı	Alfabe sırası
Dolap	5	a-d-l-o-p-
bayrak	?	?

Yukarıdaki tabloya sözcüklerin harf sayısı ve alfabe sırası yazılmıştır. Buna göre bayrak sözcüğünün harf sayısı ve alfabe sırası nasıldır ?

- |    | <u>Harf sayısı</u> | <u>Alfabe sırası</u> |
|----|--------------------|----------------------|
| A) | 2                  | a-b-k-r-y            |
| B) | 6                  | a-b-r-y-k            |
| C) | 6                  | a-b-k-r-y            |

8

pen-ce-re

ha-nım-e-li

sa-lın-cak

Yukarıdaki kelimelerden hangisi hecelerine yanlış ayrılmıştır ?

- A) Pencere  
B) Hanımeli  
C) Salıncak

9

'Akşam yemekte kuru fasulye ( ) pilav ( ) salata yedim( )'

Cümlede boşluklara sırasıyla hangi noktalama işaretleri konulmalıdır ?

- A)(.) (,) (.)  
B) (,) (,) (.)  
C) (,) (,) (?)

10

"Küçük şeyler birike birike büyür."

Anlamına gelen atasözü aşağıdakilerden hangisidir ?

- A)El elden üstündür .  
B)Ev alma komşu al.  
C)Damlaya damlaya göl olur.

1



Aras marketten 350 kuruşa futbol topu , 470 kuruşa basketbol topu aldı.Satıcıya 900 kuruş veren Aras , kaç lira para üstü alır ?


- A) 90 kuruş alır.  
B) 70 kuruş alır.  
C) 80 kuruş alır.

2

Tuna, tanesi 12 kuruş olan şekerlerden 5 tane alırsa , Tuna'nın 175 kuruşu kalıyor. Tuna'nın kaç lirası vardır ?

- A)192 kuruş  
B) 235 kuruş  
C)115 kuruş

3



Domatesin kilosu 4 TL'dir. Yukarıdaki terazi göre domatesleri alacak kişi kaç para öder ?  
A) 6 TL B) 10 TL C)24 TL

4

Aşağıdakilerden hangisi gram ile ölçülemez ?

- A)Kanepe  
B)Tuz  
C) Kuruyemiş

5

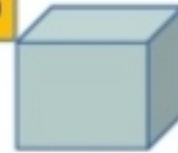
( )Kare prizmanın 3 tane karesel bölgesi vardır.

- ( )Koninin 1 köşesi vardır.  
( )Küpün tüm yüzeyleri karesel bölgedir.

Yukarıdaki bilgilerin doğru olanlara 'D' , yanlış olanlara 'Y' koyduğumuzda sırası ile hangisi olur ?

- A) (D) (D) (D)  
B) (Y) (D) (Y)  
C) (Y) (Y) (D)

6



Küp



Silindir

Yukarıdaki cisimlerin köşe sayıları toplamı kaçtır ?

- A) 8 B)9 C) 10


7



Yukarıdaki kaplama örüntüsünde 1 ve 2 numaralı yere hangi renkler gelmelidir ?

- A) 1 → Yeşil      2 → Siyah  
 B) 1 → Sarı        2 → Mavi  
 C) 1 → Mavi        2 → Sarı

8



Tuğrul yukarıdaki noktaları isimlendirmiştir. Hangi noktayı doğru isimlendirmiştir ?

- A) a noktası  
 B) F noktası  
 C) M noktası

9

Aşağıda nokta ile verilen bilgilerden hangisi yanlıştır ?

A) Gökyüzündeki yıldızlar nokta modeline örnektir.

B) Noktaların boyutları ölçülemez.

C) Su damlası nokta modeline örnek verilemez.

10

Aşağıdakilerden hangisi noktayı isimlendirmek için kullanılabilir ?

- A) 2  
 B) S  
 C) y

1 Aşağıdakilerden hangisi güvenli oyun alanı değildir ?

- A) Çocuk bahçeleri
- B) Parklar
- C) İnşaat sahası

2

★ İl ★ İlçe ★ Köy

Yukarıda yerel yönetim birimleri verilmiştir. Yerel yönetim birilmerinin küçükten büyüğe doğru sıralanmış hali hangisidir ?

- A) Köy-İl-İlçe
- B) İlçe-Köy-İl
- C) Köy-İlçe-İl

3



İli yöneten kişiye ne denir?

- A) Kaymakam
- B) Vali
- C) Muhtar

4 29 Ekim bin dokuz yüz yirmi üç yılında..... ilan edilmiştir.

Cümlede boş bırakılan yere ne gelmelidir ?

- A) Cumhuriyet
- B) Padişahlık
- C) Gençlik Bayramı

5

Aşağıdakilerden hangisi müze gezerken dikkat etmemiz gereken kurallardan değildir ?

- A) Yüksek sesle konuşmamak
- B) Fotoğraf çekmemek
- C) Evcil hayvanımızla girmek.

6



Yerebatan Sarnıcı hangi ilimizde bulunmaktadır ?

- A) Ankara
- B) İstanbul
- C) İzmir

7

Çocuk olarak aşağıdakilerden hangisi sorumluluklarımızdan biri değildir ?

- A) Derslerimize çalışmak.
- B) Evimizin içine çöp atmamak.
- C) Odamızı toplamamalıyız.

8

Aşağıdakilerden hangisi ortak kullanım alanı değildir ?

- A) Okul
- B) Hastane
- C) Kendi odamız

9



Aylin

- Okuluma geç giderim.
- Derslerimi ve ödevlerimi zamanında yaparım.
- Odamı toplarım.

Aylin'nin yaptığı davranışlardan kaç tanesi yanlıştır ?

- A) 1
- B) 2
- C) 3

10

Kütüphanede hangi davranışı yapmamalıyız ?

- A) Aldığımız kitapları yerine koymalıyız.
- B) Yüksek sesle konuşmamalıyız
- C) Kitapları izinsiz götürmeliyiz.

1

Aşağıdakilerden hangisi canlıların ortak özelliklerinden değildir ?

- A) Beslenirler.
- B) Hareket ederler.
- C) Konuşurlar

2

Aşağıdakilerden hangisi canlı değildir ?

- A) Su
- B) Hayvanlar
- C) Bitkiler

3

Aşağıdakilerden hangisi yapay çevreye örnektir ?

A)



B)



C)



4

Doğal ve yapay çevre ile ilgili verilen bilgilerden hangisi yanlıştır ?

- A) Doğal çevrenin oluşumu uzun zaman alır.
- B) Akarsu ve göller yapay çevreye örnektir.
- C) Şelaleler doğal çevreye örnektir.

Ogretmeninfofabi.com



Çevreci  
Ahmet

Ahmet çevresini korumayı çok seviyor. Ahmet hangi davranışı yapan birini uyarır ?

- A) Atıkları suya atmayan birini
- B) Çöpleri çöp kutusuna atan birini
- C) Plastik atıklar ormana atan birini

6 Aşağıdakilerden hangisi canlıların doğal yaşam alanlarına zarar verir ?

- A) Plastik atıklar
- B) Meyve atıkları
- C) Yemek atıkları

7



Yukarıda bulunan doğal anıt hangi ilimizde bulunmaktadır ?

- A) Bolu
- B)Erzurum
- C)Nevşehir

8 Aşağıdakilerden hangisi elektrikle çalışan araç-gereçlerdendir ?

- A) Kalem
- B)Tarak
- C) Bulaşık makinesi

9



Yandaki elektrikli aracı hangi amaçla kullanırız ?

- A)Soğutma
- B)Aydınlatma
- C)Haberleşme

10

Aşağıdakilerden hangisi şehir elektriği ile çalışmaz ?

- A)Çamaşır makinesi
- B)Televizyon
- C)Cep telefonu



### 3. SINIF EBA TV DENEMESİ CEVAP ANAHTARI



Türkçe

Matematik

Hayat Bilgisi

Fen Bilimleri

- 1) C
- 2)C
- 3)C
- 4)C
- 5)B
- 6)C
- 7)C
- 8)B
- 9)B
- 10)C

- 1) C
- 2)B
- 3)C
- 4)A
- 5)C
- 6)A
- 7)B
- 8)C
- 9)C
- 10)B

- 1) C
- 2)C
- 3)B
- 4)A
- 5)C
- 6)B
- 7)C
- 8)C
- 9)A
- 10)C

- 1) C
- 2)A
- 3)C
- 4)B
- 5)C
- 6)A
- 7)C
- 8)C
- 9)A
- 10)C