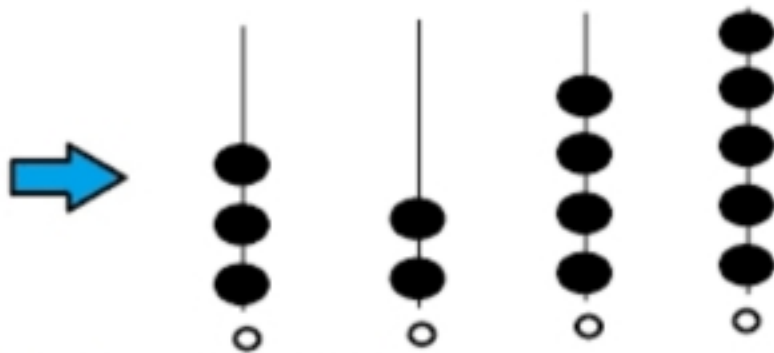
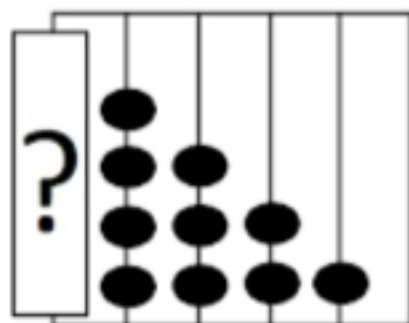


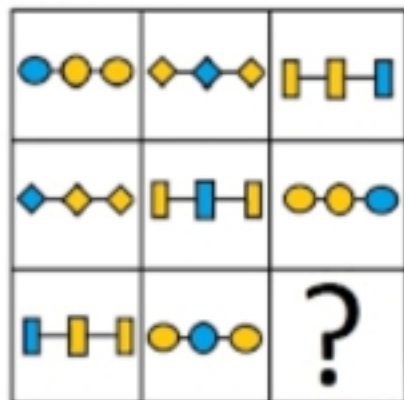
- Her bir sıradaki boncuk sayısına bakıldığında soru işareti olan kısma hangisi gelmelidir...



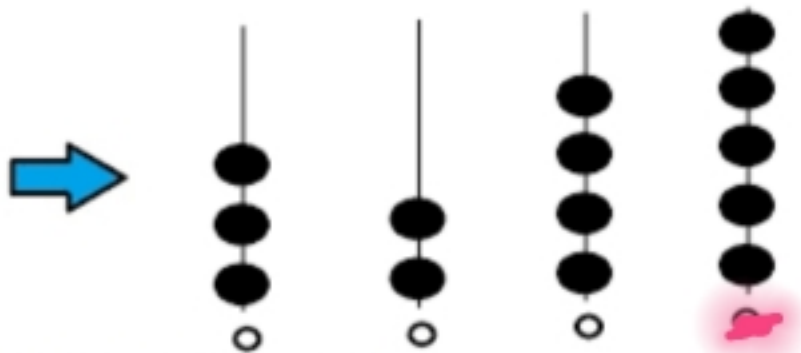
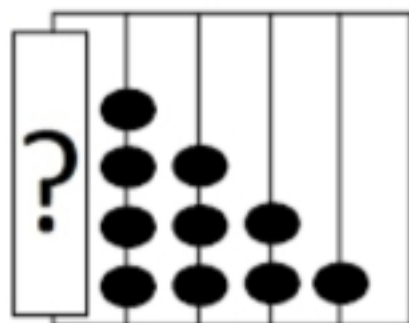
- Resimdeki eksik kısım handisidir, bul ve işaretle..



- Şekillerin sıralaması göz önüne alındığında soru işaretli sıkıma hangisi gelmelidir...



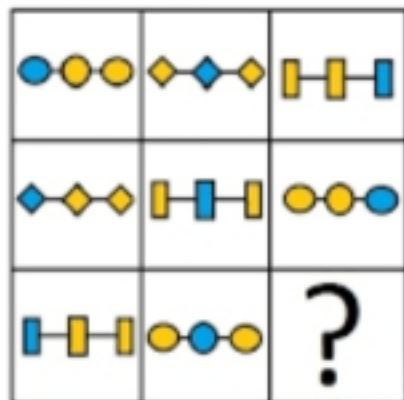
- Her bir sıradaki boncuk sayısına bakıldığında soru işareti olan kısma hangisi gelmelidir...



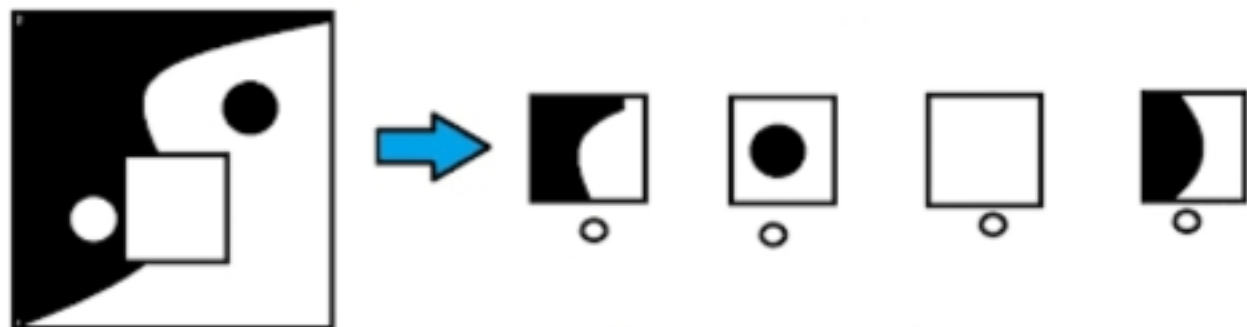
- Resimdeki eksik kısım handisidir, bul ve işaretle..



- Şekillerin sıralaması göz önüne alındığında soru işaretli sığkına hangisi gelmelidir...



- Resimdeki eksik kısım handisidir, bul ve işaretle..



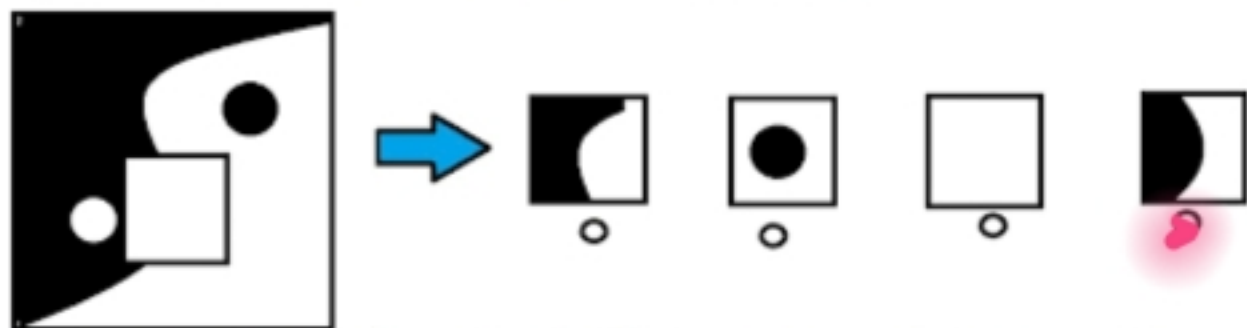
- Şekillerin sıralaması göz önüne alındığında soru işaretli sığma hangisi gelmelidir...



- Şekillerin sıralaması göz önüne alındığında soru işaretli sığma hangisi gelmelidir...



- Resimdeki eksik kısım handisidir, bul ve işaretle..




- Şekillerin sıralaması göz önüne alındığında soru işaretli sığma hangisi gelmelidir...




- Şekillerin sıralaması göz önüne alındığında soru işaretli sığma hangisi gelmelidir...



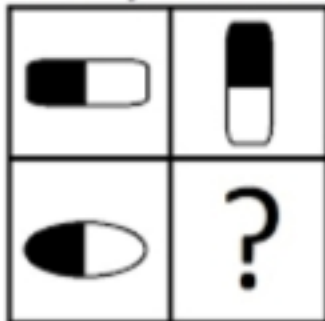
► Resimdeki eksik kısım handisidir, bul ve işaretle..




● Şekillerin sıralaması göz önüne alındığında soru işaretli sığma hangisi gelmelidir...




● Aşağıdaki resimde üstteki şekiller dikkate alındığında, soru işaretli kısma şekillerden hangisi gelmelidir...



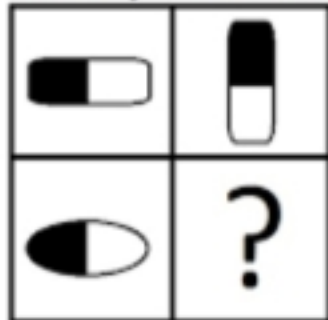
► Resimdeki eksik kısım handisidir, bul ve işaretle..



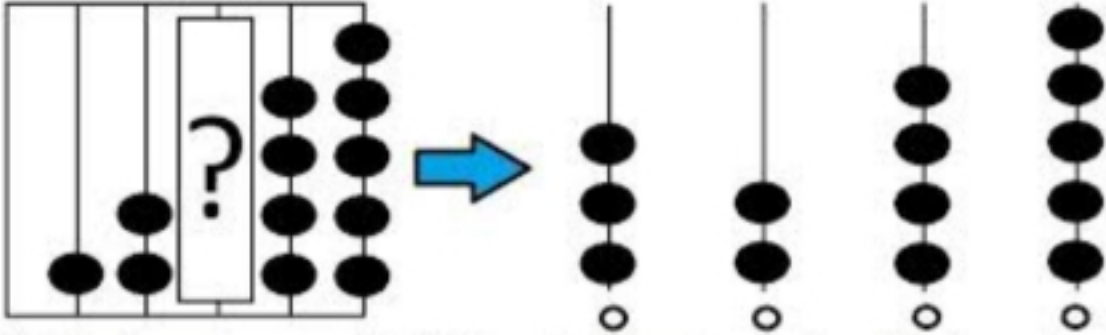
● Şekillerin sıralaması göz önüne alındığında soru işaretli sıkıma hangisi gelmelidir...



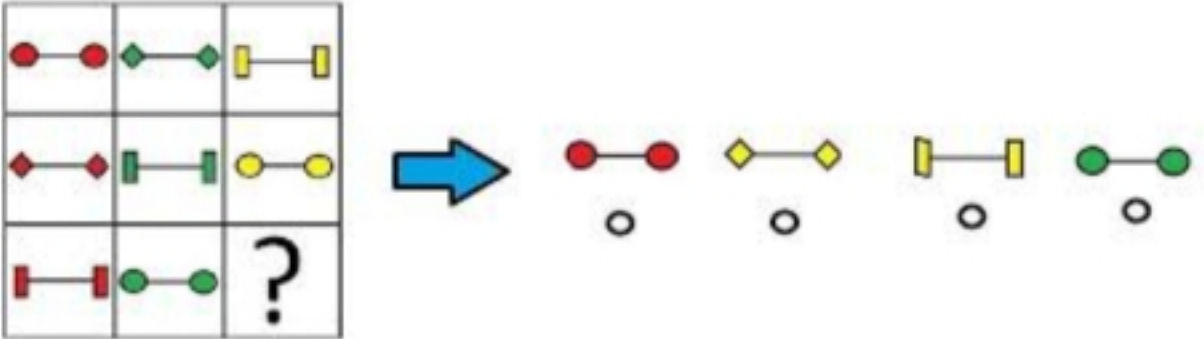
● Aşağıdaki resimde üstteki şekiller dikkate alındığında, soru işaretli kısım şekillerden hangisi gelmelidir...



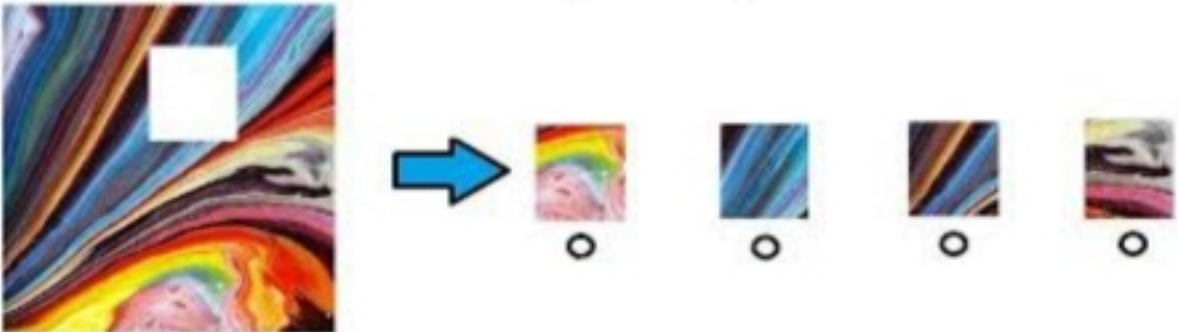
- Her bir sıradaki boncuk sayısına bakıldığında soru işareti olan kısma hangisi gelmelidir...



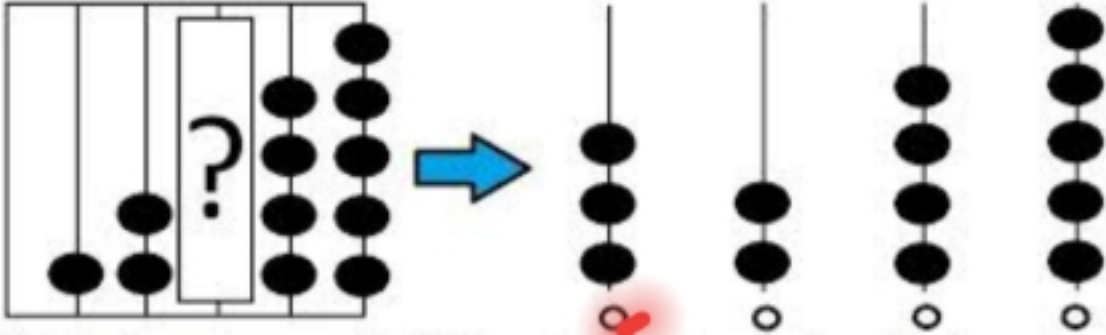
- Şekillerin sıralaması göz önüne alındığında soru işaretli kısma hangisi gelmelidir...



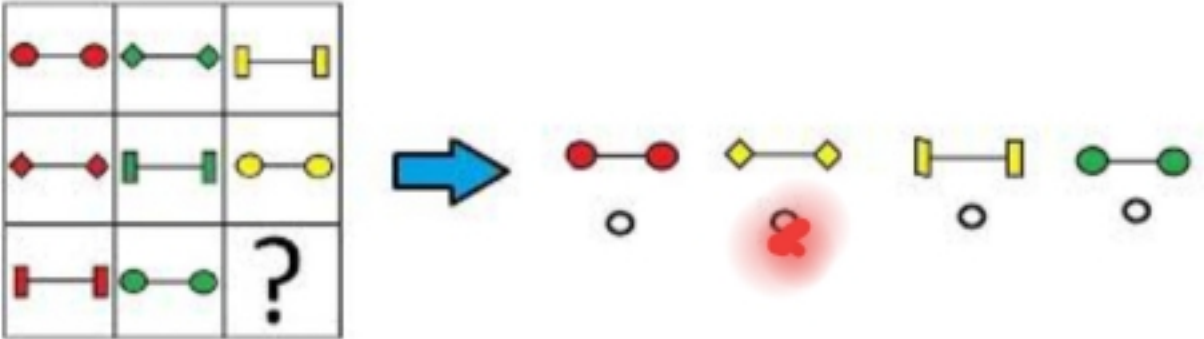
- Resimdeki eksik kısım handisidir, bul ve işaretle..



● Her bir sıradaki boncuk sayısına bakıldığında soru işareti olan kısma hangisi gelmelidir...



● Şekillerin sıralaması göz önüne alındığında soru işaretli sığma hangisi gelmelidir...



● Resimdeki eksik kısım handisidir, bul ve işaretle..

