

Adı Soyadı : _____

1. Aşağıdakilerden hangisi "yaya geçidi" levhasıdır?



2. Öncelikli görevi trafiğin akışını düzenlemek olan meslek aşağıdakilerden hangisidir?

- A) zabıta
- B) itfaiyeci
- C) trafik polisi

3. Aşağıdaki trafik kurallarından hangisi daha çok çocukları ilgilendirmektedir?

- A) Araba kullanırken aşırı hız yapmamak
- B) Hatalı sollama yapmamak
- C) Aracın arka koltuğuna oturmak

4. Aşağıdakilerden hangisi kazalara yol açabilecek davranışlardan değildir?

- A) Ödevlerini geç saate bırakmak
- B) Kesici aletlerle oyun oynamak
- C) Yanıcı maddelerle oyun oynamak



Kazaları önlemenin en önemli yolulara uymaktır.

5. Yukarıda verilen cümledeki boşluğa aşağıdakilerden hangisi getirilmelidir?

- A) levha
- B) kural
- C) baba

6. Aşağıdaki tabelalardan hangisi acil durumlarda çıkış kapılarını gösterir?



	Selçuk özel bilgilerini internette paylaşmaz.
	Azra, karşılaştığı herkesle sohbet eder.
	Eren, tanıdığı kişilere merhaba der.

7. Yukarıdaki tabloda doğru davranışlara 😊, yanlış davranışlara ☹️ çizilirse tablonun cevap anahtarı hangi seçenekteki gibi olur?

- A) 😊 😊 😊
 B) 😊 ☹️ ☹️
 C) 😊 ☹️ 😊

8. Aşağıdaki yerlerden hangisi diğerlerine göre daha güvenlidir?




- A) okul kantini
 B) oyun Salonu
 C) İnternet Kafe

Mahalledeki çocuk parkında oyun oynarken seyyar satıcı Yusuf'a zorla pamuk şeker satmak istiyor.

9. Yusuf, bu durumda aşağıdaki numaralardan hangisini aramalıdır?

- A) 112
 B) 110
 C) 155




10. Kask takan bir kişi aşağıdaki araçlardan hangisini kullanıyor olabilir?

- A) 
 B) 
 C) 



Güvenli oyun alanları dışına kaçan peşinden koşmamalıyız.

11. Yukarıda verilen cümlede boş bırakılan yere aşağıdakilerden hangisi getirilemez?

- A) 
 B) 
 C) 



Bisiklet, kaykay, paten gibi araçlarla aşırı hız yapmak çok tehlikelidir.

12. Aşağıdakilerden hangisi aşırı hızın doğurduğu sonuçlara örnektir?

- A) Derslerde başarısız oluruz.
 B) Çevre kirliliğine neden olabiliriz.
 C) İnsanlara çarpabiliriz.



1- A	2- C	3- C	4- A
5- B	6- B	7- C	8- A
9- C	10- C	11- B	12- C