

# İLKOKUL 2.SINIF

HAFTALIK EV ÖDEVİ  
11 - 15 MAYIS



SIİRT İL MİLLİ EĞİTİM MÜDÜRLÜĞÜ  
2020

Kocaman bir ağız var  
Kıpkırmızıdır burnu,  
Güldürüyor herkesi  
Sahnedeki palyaço.

Bazen kayıp düşüyor  
Bazen takla atıyor,  
Mesleğini seçmiş o  
Palyaçoluk yapıyor.

İçi kan ağlasa da  
Güldürüyor herkesi,  
Seyircisi çok ama  
Belki yok hiç kimsesi.

**Atilla ÇAKIROĞLU**

**İlk 3 soruyu yukarıdaki şiire göre yanıtlayın.**

**1) Şiire en uygun başlık aşağıdakilerden hangisidir?**

- A) Pinokyo
- B) Palyaço
- C) Korkuluk

**2) Şiirde bahsedilen kişi için aşağıdakilerden hangisi söylenemez?**

- A) Herkesi güldürebiliyor.
- B) Bazı zamanlar mutsuz olabiliyor.
- C) Birçok arkadaşı vardır.

**3) Şiirde verilmek istenen ana düşünce aşağıdakilerden hangisidir?**

- A) Palyaçoluk mesleği çok eğlencelidir.
- B) Palyaçolar her zaman mutsuz olurlar.
- C) Palyaçoların içi kan ağlasa bile meslekleri gereği herkesi güldürmek zorundadırlar.

**4) Aşağıdaki cümlelerin hangisi bir duyguyu belirtmektedir?**

- A) Öğretmenimi görünce çok sevindim.
- B) Yarım saat sonra dizi başlayacak.
- C) Bize de üç tane kalem verir misin?

**5) Aşağıdaki cümlelerim hangisinin sonuna soru işareti (?) kullanılmaz?**

- A) Nereden geldi bu kitap, bilemedim
- B) Sen kimi soruyorsun
- C) O çocuğu sen de tanıyor musun


6) "Anı" sözcüğünün eş anlamlısı aşağıdaki cümlelerin hangisinde vardır?

- A) Annem, bize çocukluk hatıralarını anlattı.
- B) Kalemlerimi koyduğum yeri unuttum.
- C) Anlamadığım konuları öğretmenime sordum.

7) Aşağıdaki cümlelerin hangisinde büyük harflerin kullanımı yanlıştır?

- A) Lale Sokağı hemen önümüzde, sağ taraftadır.
- B) Azra 'nın ablası Hira daha okula gitmemişti.
- C) Bu yıl Ramazan bayramında akraba ziyaretleri olmayacaktı.

8) Aşağıdakilerden hangisinde satır sonu hece ayırımında hangi çocuk yanlışlık yapılmıştır?



9) Aşağıdaki atasözlerinin hangisinde "tutumluluk" anlamı vardır?

- A) Bakarsan bağ, bakmazsan dağ olur.
- B) Öfkeyle kalkan zararlar oturur.
- C) Damlaya damlaya göl olur.

1. Fırçaladım
2. Dişlerimi
3. Yedikten
4. Sonra
5. Yemeğimi

10) Yukarıdaki kelimeler anlamlı bir cümle olacak şekilde nasıl sıralanır?

- A) 5-3-2-4-1
- B) 5-3-4-1-2
- C) 5-3-4-2-1

11) Aşağıdaki cümlelerin hangisinde zıt anlamlı kelimeler bir arada verilmiştir?

- A) Esra yalan yanlış konuştuğu için kimse ona inanmıyordu.
- B) Babam gelir ve giderlerimize göre aile bütçesini oluşturdu.
- C) Ahmet ile Elif kocaman iki papağan besliyorlardı.

12) "Şimdi gidiyorum... .. yarın geleceğim". Cümlesinde boş bırakılan yere aşağıdakilerden hangisi gelirse cümlenin anlamı bozulmaz?

- A) Veya
- B) Ya da
- C) Ama

- 1.Eyvah, yangın çıktı ( )
- 2.Yeni oyuncağını beğendin mi ( )?
- 3.Yarın sinemaya gideceğiz ( )
- 4.Öğretmen, Arzu ( ) yu tahtaya çıkardı.

13 ) Yukarıda belirtilen parantez içlerine sırasıyla hangi noktalama işaretleri konmalıdır?

- |    |     |    |     |    |     |
|----|-----|----|-----|----|-----|
| A) | (!) | B) | (!) | C) | (.) |
|    | (.) |    | (?) |    | (?) |
|    | (.) |    | (.) |    | (.) |
|    | (.) |    | (.) |    | (.) |

14) Aşağıdaki cümlelerden hangisi olumlu cümledir?

- A) Kitapçı aradığım kitabı bulamadığını söyledi.
- B) Dün gürültüden hiç uyuyamadık.
- C) Yağmur bütün gece yağmadı.

15) Ömer, Berat ve Hira tatilde sıkılınca bir oyun oynamaya karar verirler. Bu oyunda herkes aklına gelen ilk meyvenin adını bir kâğıda yazacaktır. Yazılan meyve isimlerinden hangisi alfabetik sıralamaya göre ilk sırada geliyorsa o ismi yazan öğrenci oyunu kazanacaktır.

Ömer:  
ayva



Berat:  
armut



Hira:  
ananas



Buna göre oyunu kazanan kişi aşağıdakilerden hangisidir?

- A) Ömer
- B) Berat
- C) Hira

Mahallemizde  
Senden başka ağaç olsaydı  
Seni bu kadar sevmezdim.  
Fakat eğer sen  
Bizimle beraber  
Kaydırac oynamasını bilseydin  
Seni daha çok severdim.

Güzel ağacım!  
Sen kurduğun zaman  
Biz de inşallah  
Başka mahalleye taşınmış  
oluruz.

ORHAN VELİ KANIK

**16) Bu ana duygusu  
aşağıdakilerden hangisidir?**

- A) Oyun Sevgisi
- B) Ağaç Sevgisi
- C) Mahalle Sevgisi

öretmen  
yanlış  
kirbit  
yaprak  
herkez  
kiprik

**17) Yukarıdaki kelimelerden kaç  
tanesi yanlış yazılmıştır?**

- A) 4
- B) 5
- C) 6

**18) Aşağıdaki kelimelerden  
hangisi hem hece hem kelimedir?**

- A) Dost
- B) Millet
- C) Ülke

Miraç , okuldan eve dönerken bir  
köpek gördü. Gördüğü köpeği  
annesine anlattı. Miraç, o gün  
yorulduğu için erkenden yattı.

- 1-Okuldan eve dönerken köpek gören  
kimdir?
- 2-Miraç nerede çok yoruldu?
- 3-Miraç yolda gördüğüne kime anlattı?

**19) Yukarıdaki metne göre hangi  
soruların cevapları vardır?**

- A) 1-3
- B) 2-3
- C) 1-2-3

**20) Çocukken .....ressam  
olmayı hayal ettim.  
.....bir kursa yazıldım ve resim  
çizmeye başladım.  
.....üniversitede resim eğitimi  
aldım.**

**Fatma'nın sözlerinde noktalı  
yerlere sırasıyla aşağıdakilerden  
hangisi gelmelidir?**

- A) Önce – Sonra--- Daha sonra
- B) Önce— Daha sonra-- Son olarak
- C) Sonra – Önce- Daha sonra

## Cevap Anahtarı

1-B

2-C

3-C

4-A

5-A

6-A

7-C

8-B

9-C

10-C

11-B

12-C

13-B

14-A

15-C

16-B

17-A

18-A

19-C

20-A

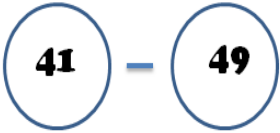
1. Aşağıdaki seçeneklerin hangisinde ileriye doğru dörder ritmik sayma yapılmıştır?

- A) 15-18-21-24-27  
B) 16-20-24-28-32  
C) 40-36-32-28-24

2. 8 birlik 5 onluktan oluşan sayı hangi seçenekte doğru verilmiştir?

- A) 85    B) Elli Beş    C) 58

3. Yanda verilen sayılar arasında kaç çift sayı vardır?



- A) 3    B) 4    C) 5

4. Aşağıda verilen işlemlerden hangisi yanlıştır?

- A)  $33+58 = 91$   
B)  $69-27 = 42$   
C)  $73-48 = 35$

5. Aşağıda onluğa göre yuvarlanmış sayıların hangisi yanlıştır?

- A) **75**  $\longrightarrow$  **70**  
B) **49**  $\longrightarrow$  **50**  
C) **51**  $\longrightarrow$  **50**

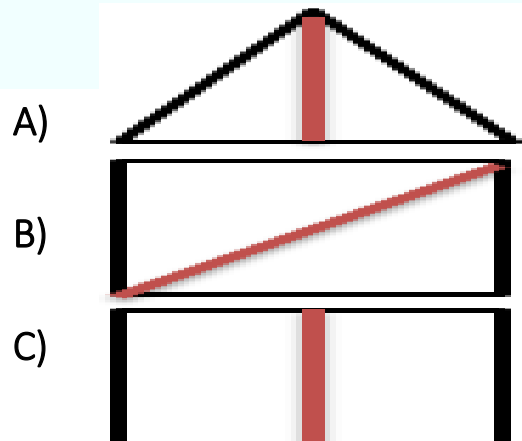
6. Ahmet 23 yaşında ve kardeşi Mehmet'ten 14 yaş büyüktür. Buna göre iki kardeşin yaşları toplamı kaçtır?

- A) 37    B) 32    C) 51

7. Semanur arkadaşı Derasu'ya 3 toka verince ikisinin tokaları eşit oluyor. Derasu'nun 8 tokası olduğuna göre Semanur'un kaç tokası vardır?

- A) 5    B) 14    C) 11

8. Aşağıdaki seçeneklerden hangisinin simetri doğrusu yanlıştır?



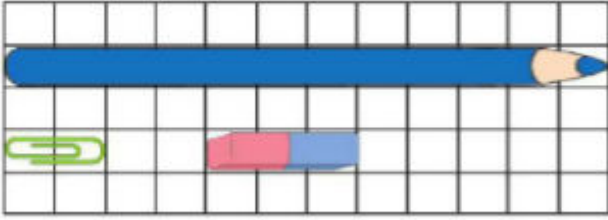
9. Beratlar'ın bağında 38 badem ağacı, badem ağaçlarından 19 fazla fıstık ağacı vardır. Buna göre Beratlar'ın bağında kaç ağaç vardır?

- A) 95      B) 57      C) 66

10. 76 soruluk bir testin önce 28, sonra 19 sorusunu çözdüm. Geriye çözmeme gereken kaç soru kaldı?

- A) 29      B) 48      C) 67

11.



Adar yukarıdaki mavi kalemin boyunu ataş ve silgi ile ölçüyor. Ölçüm sonuçları ile ilgili aşağıdaki bilgilerden hangisi yanlıştır?

- A) Kalem 6 ataş uzunluğundadır.  
B) Kalem 3 ataş, 2 silgi uzunluğuna eşittir.  
C) Kalem 3 silgi uzunluğundadır.

12.



Yukarıda belirtilen şekildeki kova 5 sürahi su almaktadır. Damacana 3 kova su ile dolmaktadır. Damacana sürahi ile su doldurmak isteyen Elif bu iş için kaç sürahi su kullanacaktır?

- A) 8      B) 15      C) 18

13. Bir günde bir düzine çiçek satan bir çiçekçi bir hafta sonunda kaç çiçek satar?

- A) 70      B) 84      C) 19

14. 21 tane muz, 3 kişi her gün birer tane yiyoruz. Muzlar kaç haftada biter?

- A) 1      B) 7      C) 2

15. Bir terzi 18 metrelik kumaştan 3'er metrelik pantolonlar dikiyor. Pantolonların tanesini 15 TL'ye satıyor. Terzi tüm pantolonları sattığına göre bu iş sonunda kaç TL kazanır?

- A) 36      B) 90      C) 63



16. Bir kırtasiyeci satılacak bir deste kalemin yarısını sattığına göre satılacak kaç kalem kalmıştır?

- A) 6      B) 10      C) 5

17. 4 kardeş 32 TL'yi eşit olarak paylaşacak. Her biri kaç TL alır?

- A) 7      B) 9      C) 8

18. Saat 8.00'da başlayan çizgi film saat 9.30'da bitmiştir. Buna göre çizgi filmin süresi aşağıdakilerden hangisidir?



- A) 1 saat 30 dakika  
B) 2 saat  
C) 2 saat 30 dakika

Aşağıda Cumhuriyet İlkokulu 4/A sınıfı öğrencilerinin oynadığı sporların grafiği verilmiştir.

( Not:19 ve 20. soruları grafiğe göre cevaplayınız. )

Oynanan Spor Dalları	
Futbol	
Basketbol	
Voleybol	
Tenis	

Her Şekil 3 kişiyi gösterir.

19. Grafiğe göre 4/A sınıfının mevcudu kaçtır?

- A) 10      B) 27      C) 30

20. 4/A sınıfında voleybol oynayanlar basketbol oynayanlardan kaç fazladır?

- A) 3      B) 1      C) 2

## Cevap Anahtarı

1. B
2. C
3. B
4. C
5. A
6. B
7. C
8. B
9. A
10. A
11. C
12. B
13. B
14. A
15. B
16. C
17. C
18. A
19. C
20. A

1) Aşağıdakilerden hangisi görgü kuralıdır?

- ★ Yemeğe herkes ile başlamak  
▲ Yemekte gereksiz konuşmamak  
● Kıyafetlerimizi temiz tutmak

A) ★ ● B) ● ▲ C) ▲ ★

2) Sağlıklı beslenmek için aşağıdakilerden hangisini yapmalıyız?

- A) Meyve ve sebzeleri mevsimi dışında bolca tüketmeliyiz.  
B) Meyve ve sebzelerden sadece sevdiğimizleri tüketmeliyiz.  
C) Mevsimine uygun meyve ve sebzeler tüketmeliyiz

3) Aşağıdaki mesleklerden hangisi çalıştığı alana göre diğerlerinden farklıdır?

- A) Hemşire  
B) Berber  
C) Hasta bakıcı

Miray düzenli olarak banyo yapıyor. Haftada bir tırnaklarını kesiyor. Her gün saçını tarıyor. Günde 3 kere dişlerini fırçalıyor.”

4) Buna göre Miray aşağıdakilerden hangisine özen gösteriyor?

- A) Kişisel bakımına  
B) Kişisel iletişime  
C) Bireysel Farklılığa

5) Geceleri araçların bizi rahat görmeleri için aşağıdakilerden hangisinin giyilmesi güvenlik anlamında uygundur?

- A) açık renkli kıyafetler  
B) koyu renkli kıyafetler  
C) soluk kıyafetler

6) Merdivenden inip çıkarken hangi taraftan yürümeliz?

- A) solundan  
B) sağından  
C) ortasından

7) Hangi davranışımız sağlık ve güvenliğimiz için tehlikeli bir durum değildir?

- A) Elektrikli aletleri tamir etmeye çalışmak
- B) Tatile çıkarken su vanalarını kapatmak
- C) Prizlere ıslak elle dokunmak

8) Aşağıda hayvanlarla ilgili verilen bilgilerden hangisi yanlıştır?

- A) Tüm hayvanlar ormanda yaşamaktadır.
- B) Hayvanların görünüşleri ve yaşadıkları ortam birbirinden farklı olabilir.
- C) Hayvanların bir kısmı su ihtiyacını doğal ortamlardan karşılarlar.

9)Aşağıdakilerden hangisi toplu taşıma araçlarında uymamız gereken davranışlardandır?

- A) Telefonda yüksek sesle konuşmak
- B) Emniyet kemerini takmamak.
- C) Boş bir koltuğa oturup ayakta yolculuk etmemek.

10)

	Yabancı kişiler bizimle konuşmak istediklerini söylediklerinde kabul etmeliyiz.
	Tanıdığımız veya tanımadığımız kişilere karşı nazik davranmalıyız.
	Gerçek yaşamda tanımadığımız kişilere nasıl davranmamız gerekiyorsa, sanal ortamda da aynı davranmalıyız.

Yukarıda bos bırakılan kutucuğa söylenen davranış doğru ise (D) , yanlış ise (Y) yazılacaktır.

Buna göre kutucuklara sırayla hangi harfler yazılmalıdır?

A)	<table border="1"><tr><td>Y</td></tr><tr><td>D</td></tr><tr><td>Y</td></tr></table>	Y	D	Y	B)	<table border="1"><tr><td>D</td></tr><tr><td>Y</td></tr><tr><td>D</td></tr></table>	D	Y	D	C)	<table border="1"><tr><td>Y</td></tr><tr><td>D</td></tr><tr><td>D</td></tr></table>	Y	D	D
Y														
D														
Y														
D														
Y														
D														
Y														
D														
D														


11) Aşağıdakilerden hangisi tarımsal alanlarda yapılan üretim faaliyetlerinden değildir?

- A) Kuzuları otlatma
- B) Mısır ekilmesi
- C) Buğdayın ekilmesi

12) Ülkemiz hangi kıtaları birbirine bağlayan konumdadır?

- A) Asya-Afrika
- B) Avrupa-Amerika
- C) Asya-Avrupa

13) Aşağıdakilerden hangisi tarım ile uğraşan bir kişinin elde ettiği ürünlerden değildir?



14) Aşağıdakilerden hangisi kültürümüze ait müziklerden değildir?

- A) Bale
- B) Deyişler
- C) Bozlaklar

15) Bal Fındık Yoğurt

Yukarıdaki ürünlerden hangisi hayvansal ürün değildir?

- A) Bal
- B) Fındık
- C) Yoğurt

16) İstiklal Marşı' mızı kim bestelemiştir?

- A) Mehmet Akif ERSOY
- B) Osman Zeki ÜNGÖR
- C) Mustafa Kemal ATATÜRK


17) Aşağıdakilerden hangisi ülkemizin bağımsızlığını ve özgürlüğünü temsil eder?

- A) Başkentimiz
- B) Türk bayrağı
- C) Halk oyunları

18) Aşağıda bayramlar ile ilgili verilen bilgilerden hangisi doğru değildir?

- A) Milli bayramlarda okullarda törenler yapılır.
- B) Cumhuriyet Bayramı çocuklara armağan edilmiştir.
- C) Dini bayramlarda bando takımı müzik dinletisi yapar.

19) Aşağıdakilerden hangisi kültürümüze ait oyunlardan değildir?



Bayrak töreninde; İstiklal Marşımız coşku ile söylenir, saygı duruşunda durulur

20) Aşağıdakilerden hangisi bayrak töreninde yapılmalıdır?

- A) İstiklal Marşı'na eşlik edilir.
- B) Öğrenciler kendi aralarında konuşur.
- C) Sadece Pazartesi günleri bayrak töreni yapılır.

Cevap Anahtarı

1-C

2-C

3-B

4-A

5-A

6-B

7-B

8-A

9-C

10-C

11-A

12-C

13-C

14-A


15-B


16-B

17-B

18-C

19-B





FP

SIRT





1. Read the text and answer the questions. (Parçayı okuyalım ve soruları cevaplayalım.)

Hello! My name is Aslı. I'm seven years old. This is my room. There is a schoolbag. There are five notebooks, six books and two scissors in my schoolbag. There are two red pencils, four blue pencils and one yellow pencil. I like colours and I like colourful pencils.

- 1- What is her name?

.....

- 2- How old is she?

.....

- 3- How many books are there?

.....

- 4- How many pencils are there?

.....

- 5- How many blue pencils are there?

.....



2. Test Time

- 1- Aşağıdaki harflerden hangisi hem Türk hem de İngiliz alfabesinde vardı?

A) Ş B) C C) Q

- 2-Aşağıdaki kelimeler hangi harf ile başlar?

...mbulance ...stronaut  
...sprin

A) E B) S C) A

- 3-Görseli destekleyen ifade hangi seçenekte verilmiştir?



- A) Good morning  
B) Good afternoon  
C) Good bye

3. NI\_E TO MEET Y\_U

Eksik verilen harfler hangi seçenekte doğru verilmiştir?

- A) C/U      B) E/O      C) C/O

4. Aşağıdaki ifadelerden hangisi yanlıştır?

- B) turn left -----geriye dön  
C) turn right ----- sağa dön  
D) turn around ----- etrafında dön

5. Arkadaşınıza teşekkür etmek için hangisini söylersiniz?

- A) I'm sorry.  
B) Thank you.  
C) Sorry.

6. Görseli destekleyen ifade aşağıdakilerden hangisidir?



- A) four pencils  
B) one pencil  
C) six pencils

7. Hangi sorunun cevabı yanlıştır?

- A) six + two = eight  
B) three - two = five  
C) ten - four = six



8. Aşağıdakilerden hangisi yanlıştır?

- A) I like green  
B) B- I like orange  
C) C- I like pink

9. I like purple.

- A) Kırmızıyı severim.  
B) Moru severim.  
C) Turuncuyu severim.

## Answer Key (Cevap Anahtarı)

## Test Time

1. Read the text and answer the questions. (Parçayı okuyalım ve soruları cevaplayalım.)

Hello! My name is Aslı. I'm seven years old. This is my room. There is a schoolbag. There are five notebooks, six books and two scissors in my schoolbag. There are two red pencils, four blue pencils and one yellow pencil. I like colours and I like colourful pencils.

- 1- Her name is Aslı  
2- She is seven years old.  
3- Six books.  
4- Seven pencils.  
5- Four blue pencils.



- 1- B  
2- C  
3- A  
4- C  
5- A  
6- B  
7- C  
8- B  
9- C  
10- B

### ÇALIŞMADA EMEĞİ GEÇEN ÖĞRETMENLERİMİZ

Abdurrahman CELAN Mehmet EKİNCİ

Seda AYDINLI Ekrem AYBEK

Kasım AYDIN

Bu çalışma Siirt Milli Eğitim Müdürlüğü öğretmenleri tarafından hazırlanmıştır. Emeklerinden dolayı teşekkür ederiz.