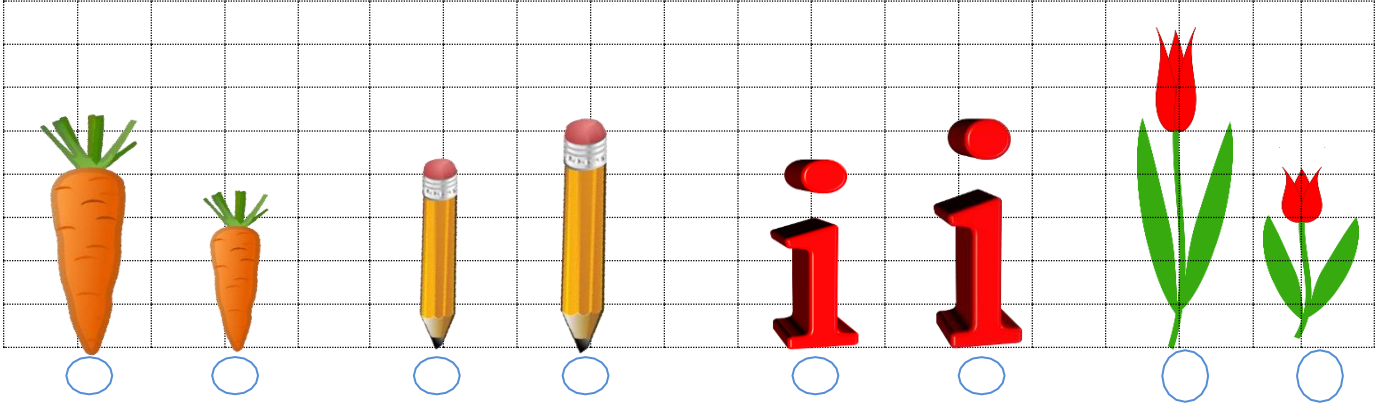
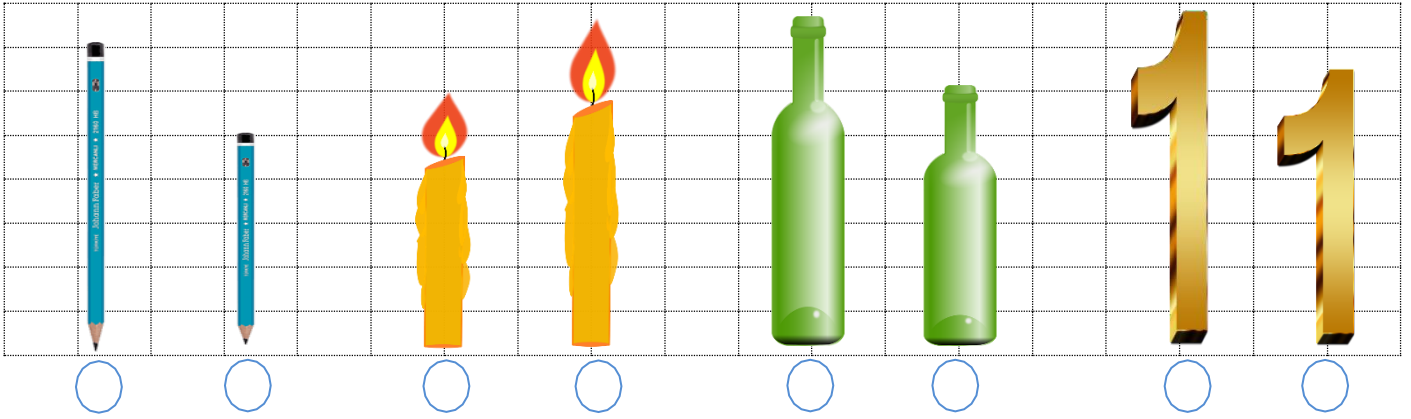


## UZUNLUKLARI ÖLÇME

A) Aşağıdaki resimleri inceleyelim. Uzun olanı işaretleyelim.



B) Aşağıdaki resimleri inceleyelim. Kısa olanı işaretleyelim.



C) Aşağıdaki resimleri inceleyelim. Soruları cevaplandıralım.



ADA

ALP

ECE

1) En uzun boylu çocuk hangisidir?

.....

2) En kısa boylu çocuk hangisidir?

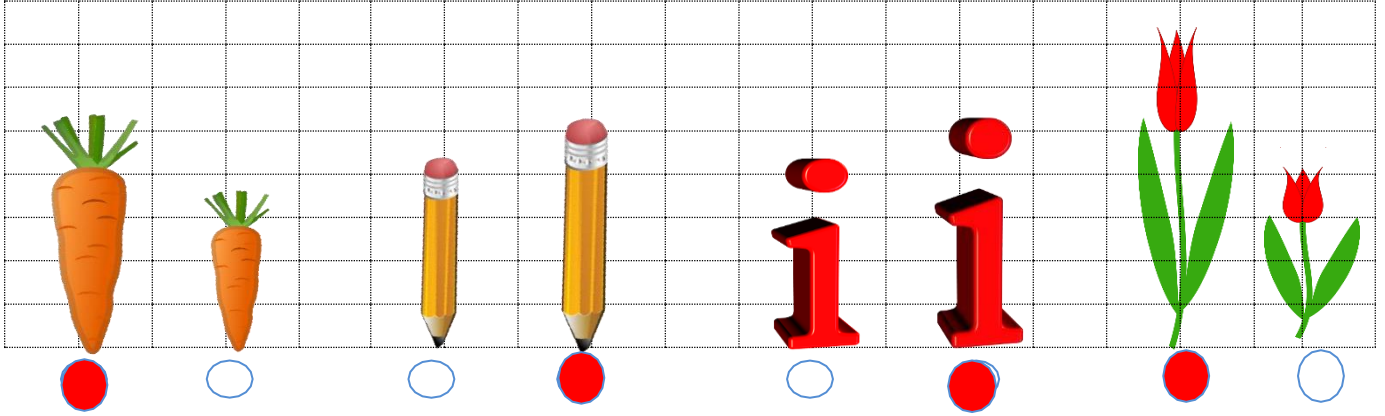
.....

3) Alp'ten uzun olan çocuklar hangileridir?

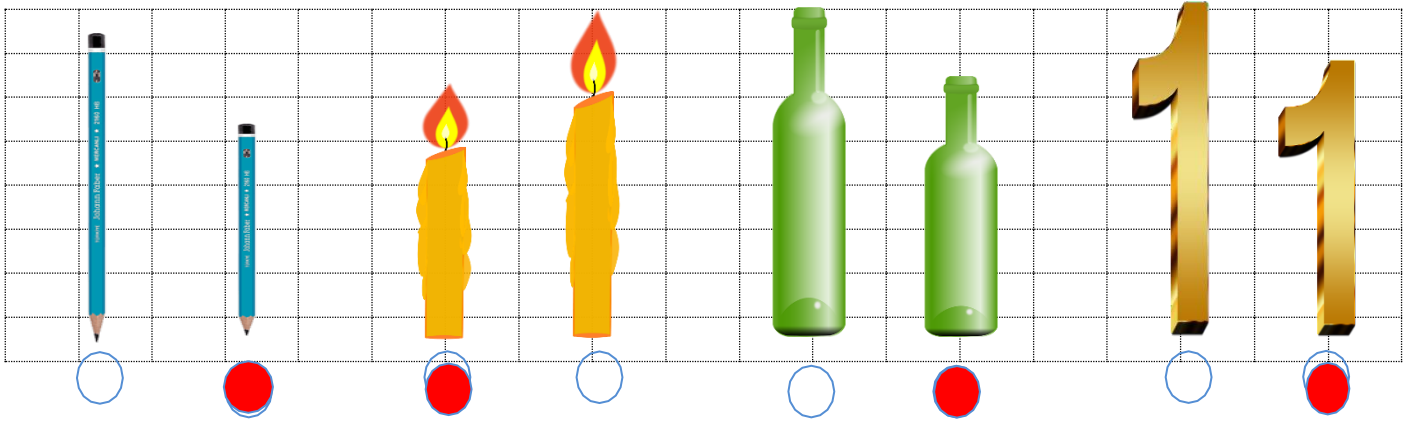
.....

## UZUNLUKLARI ÖLÇME - CEVAP ANAHTARI

A) Aşağıdaki resimleri inceleyelim. Uzun olanı işaretleyelim.



B) Aşağıdaki resimleri inceleyelim. Kısa olanı işaretleyelim.



C) Aşağıdaki resimleri inceleyelim. Soruları cevaplandıralım.



ADA

ALP

ECE

2) En uzun boylu çocuk hangisidir?

Ada en uzun boylu çocuktur.

2) En kısa boylu çocuk hangisidir?

Alp en kısa boylu çocuktur.

3) Alp'ten uzun olan çocuklar hangileridir?

Ece ve Ada daha uzundurlar.

CEREN ALUR  
DÜZTEPE İLKOKULU ÖĞRETMENİ